

Mathématiques - 5eme  
**Correction de l'Evaluation n°12**

► **Exercice 1 :**

**version A**

1. C'est la figure 19.
2. C'est la figure 17.
3. C'est la figure 25.

**version B**

1. C'est la figure 15.
2. C'est la figure 31.
3. C'est la figure 25.

► **Exercice 2 :**

**version A**

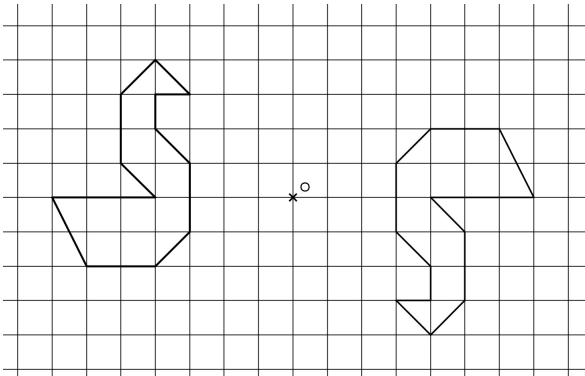
1. C'est la figure 37.
2. C'est la figure 0.
3. C'est la figure 14.

**version B**

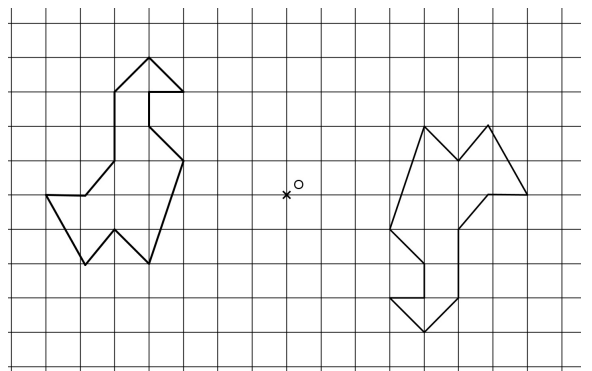
1. C'est la figure 21.
2. C'est la figure 38.
3. C'est la figure 42.

► **Exercice 3 :**

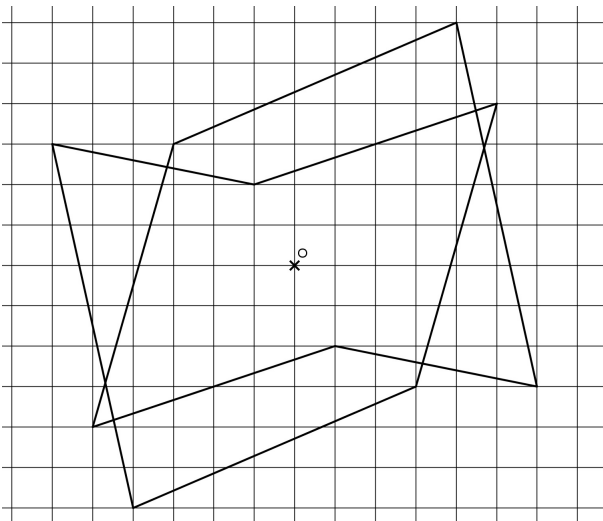
1. **version A**



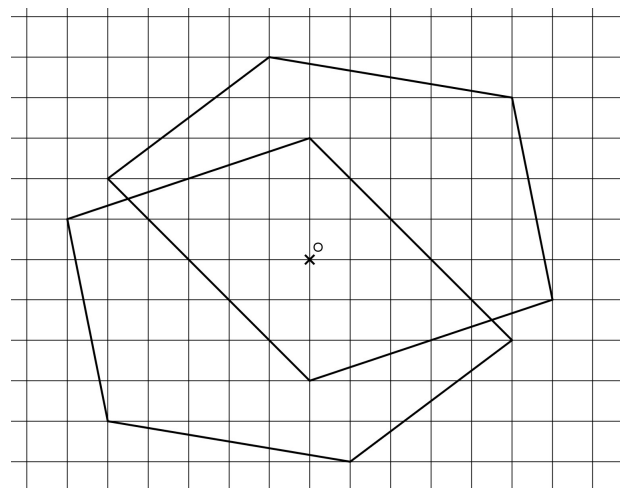
**version B**



2. **version A**

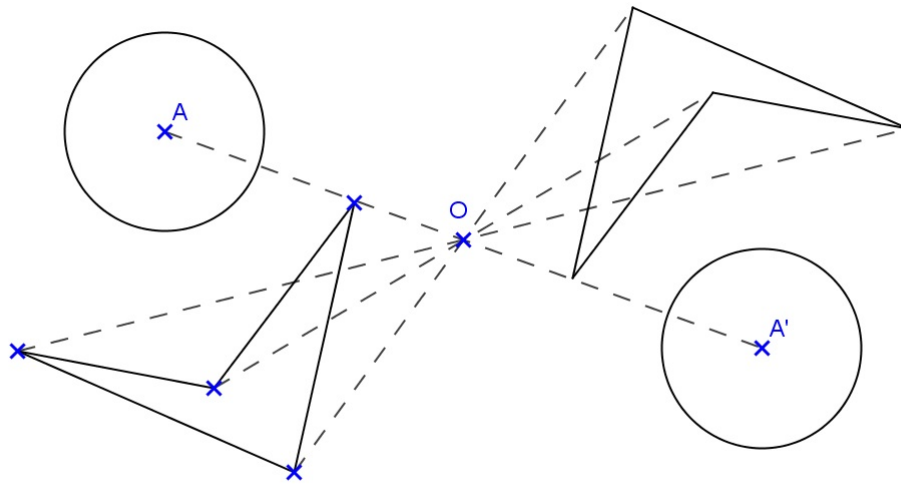


**version B**

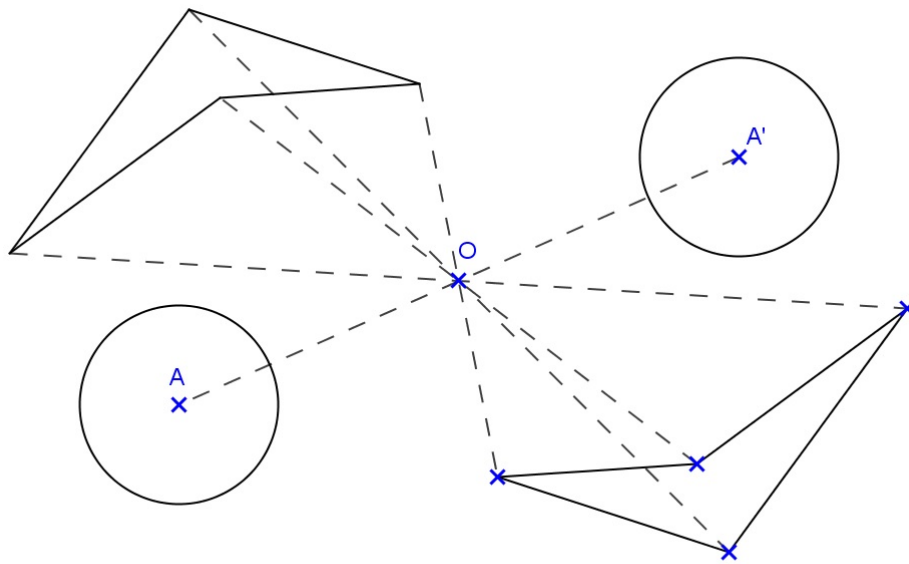


► **Exercise 4 :**

**version A**



**version B**



► **Exercice 5 :**

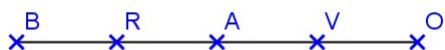
version A

Figure	Nombre de centre de symétrie	Nombre d'axes de symétrie
a	0	3
b	1	0
c	1	0
d	0	1
e	1	0
f	0	1
g	0	1
h	0	3

version B

Figure	Nombre d'axes de symétrie	Nombre de centre de symétrie
a	3	0
b	0	1
c	0	1
d	1	0
e	0	1
f	1	0
g	1	0
h	3	0

► **Exercice Bonus :**



ou

