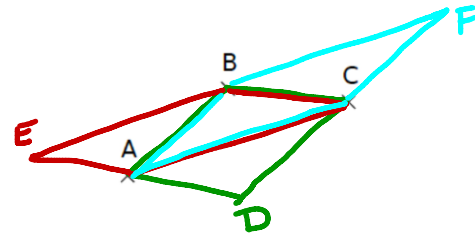


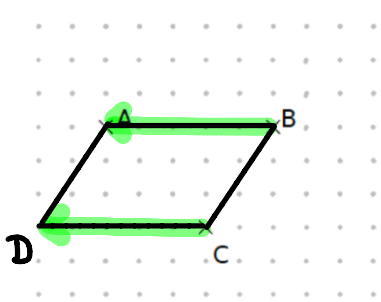
1 Sur la figure ci-contre trace à main levée :

- en bleu, le point D tel que $ABCD$ soit un parallélogramme,
- en vert, le point E tel que $AEBC$ soit un parallélogramme,
- en rouge, le point F tel que $ABFC$ soit un parallélogramme.

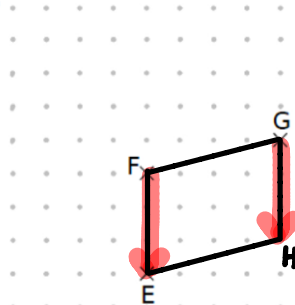


2 Place les points D, H et K, pour que ABCD, EFGH et IJKL soient des parallélogrammes.

a.



b.



c.

