

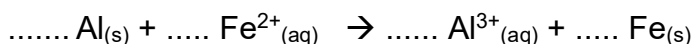
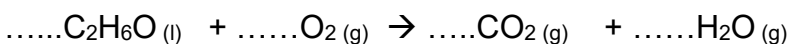
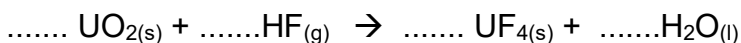
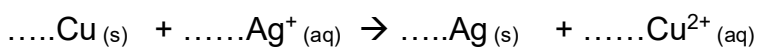
## CHAP 7 : TRANSFORMATION CHIMIQUE ET BILAN DE MATIÈRE

### 1. Écriture d'une transformation chimique

#### Définitions à connaître :

- **Un réactif** est une espèce chimique dont la quantité diminue lors d'une transformation chimique
- **Un produit** est une espèce chimique dont la quantité augmente lors d'une transformation chimique
- Au cours d'une transformation chimique, il y a **conservation des éléments chimiques** et **conservation de la charge électrique**.
- On symbolise la transformation chimique par une **équation chimique** en plaçant à gauche les réactifs et à droite les produits, séparés par une flèche indiquant le sens de la transformation.
- L'équation chimique doit être **ajustée** (on dit aussi **équilibrée**) en plaçant des coefficients appelés **nombres stœchiométriques** devant réactifs et produits pour rendre compte de la conservation des éléments et de la charge électrique.

**Entraînement :** Ajuster les équations suivantes :



Pour vous entraîner, sur le netboard, il y a un lien vers des équations en ligne à ajuster.

### 2. Bilan de matière et tableau d'avancement réactionnel

Le bilan de matière consiste à déterminer la quantité de matière des espèces chimiques présentes dans le milieu réactionnel à différents instants de la transformation chimique.

Lorsqu'on réalise le bilan de matière d'une transformation chimique, on présente souvent les résultats sous la forme d'un tableau appelé **tableau d'avancement réactionnel**.

**C'est un tableau présentant les quantités des espèces chimiques (en colonne) pour différents moments de la réaction (en ligne). Il se remplit avec des grandeurs en mol.**

Allure générale d'un tableau d'avancement réactionnel (vide pour l'instant) : (les espèces chimiques A et B réagissent et forment C et D , a, b, c et d sont les nombres stœchiométriques de cette transformation) on lit dans chaque case la quantité de l'espèce à l'instant étudié.

Equation chimique :	a A	+	b B	→	c C	+	d D
	n(A) (mol)		n(B) (mol)		n(C) (mol)		n(D) (mol)
Etat initial							
Etat intermédiaire							
Etat final							

**L'état initial** indique les quantités (en mol) de chaque espèce chimique juste avant que la réaction ne commence.

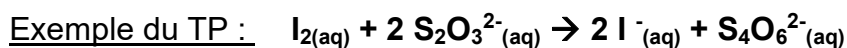
**L'état final** indique les quantités (en mol) de chaque espèce chimique lorsqu'elles n'évoluent plus.

Lorsque la réaction est totale, à l'état final, au moins un des réactifs a été totalement consommé.

Entre ces deux lignes, on place parfois un **état intermédiaire** qui indique les quantités (en mol) de chaque espèce chimique à un instant quelconque entre l'état initial et l'état final.

### 3. Signification des nombres stœchiométriques

Les coefficients appelés nombres stœchiométriques rendent compte des proportions dans lesquelles les quantités (en mol) de réactifs sont consommés et quantités (en mol) de produits sont synthétisés.



- On a le même coefficient pour  $I_2$  et pour  $S_4O_6^{2-}$ . Ça signifie qu'il se forme autant de  $S_4O_6^{2-}$  qu'il se consomme de  $I_2$
- De même, on a aussi le même coefficient pour  $S_2O_3^{2-}$  et  $I^-$ . Ça signifie qu'il se forme autant de  $I^-$  qu'il se consomme de  $S_2O_3^{2-}$
- Les coefficients 2 devant  $I^-$  et 1 devant  $I_2$  indiquent qu'il se forme 2 fois plus de  $I^-$  qu'il n'est consommé de  $I_2$ .
- Et ainsi de suite ....

Application 1 : Compléter les phrases suivantes :

Il se forme ..... de  $S_4O_6^{2-}$  que de  $S_2O_3^{2-}$  consommé

La consommation de  $S_2O_3^{2-}$  est .....que celle de  $I_2$

On synthétise ..... que de .....

Application 2 : Compléter le tableau d'avancement réactionnel suivant (groupe 7 du TP)

Equation chimique :  $I_{2(aq)} + 2 S_2O_3^{2-(aq)} \rightarrow 2 I^-_{(aq)} + S_4O_6^{2-(aq)}$

	$n(I_2)$ ( $\mu\text{mol}$ )	$n(S_2O_3^{2-})$ ( $\mu\text{mol}$ )	$n(I^-)$ ( $\mu\text{mol}$ )	$n(S_4O_6^{2-})$ ( $\mu\text{mol}$ )
Etat initial	50	100	0	0
Etat final				

Application 3 : Compléter le tableau d'avancement réactionnel suivant (groupe 1 du TP)

Equation chimique :  $I_{2(aq)} + 2 S_2O_3^{2-(aq)} \rightarrow 2 I^-_{(aq)} + S_4O_6^{2-(aq)}$

	$n(I_2)$ ( $\mu\text{mol}$ )	$n(S_2O_3^{2-})$ ( $\mu\text{mol}$ )	$n(I^-)$ ( $\mu\text{mol}$ )	$n(S_4O_6^{2-})$ ( $\mu\text{mol}$ )
Etat initial	50	40	0	0
Etat final				

Application 4 : Compléter le tableau d'avancement réactionnel suivant (groupe 11 du TP)

Equation chimique :  $I_{2(aq)} + 2 S_2O_3^{2-(aq)} \rightarrow 2 I^-_{(aq)} + S_4O_6^{2-(aq)}$

	$n(I_2)$ ( $\mu\text{mol}$ )	$n(S_2O_3^{2-})$ ( $\mu\text{mol}$ )	$n(I^-)$ ( $\mu\text{mol}$ )	$n(S_4O_6^{2-})$ ( $\mu\text{mol}$ )
Etat initial	50	140	0	0
Etat final				

#### Vocabulaire à retenir :

- Le réactif entièrement consommé lors d'une transformation chimique est **le réactif en défaut ou réactif limitant**.
- Le réactif encore présent à la fin de la transformation chimique est le **réactif en excès**
- Lorsque les réactifs sont introduits dans les proportions idéales telles qu'aucun réactif n'est en excès, on dit qu'on est dans **les proportions stœchiométriques**

Remarque : Les raisonnements sont plus faciles à tenir avec le réactif limitant car il est entièrement consommé (sinon il faut raisonner avec la quantité de réactif qui a été consommée).

Application 5 : il est parfois difficile ou laborieux de déterminer l'état final par le raisonnement.

Essayer de compléter ce tableau.

Equation chimique :  $4 \text{Fe}_{(s)} + 3 \text{O}_{2(g)} \rightarrow 2 \text{Fe}_2\text{O}_{3(s)}$

Etat initial	0,0040	$1,8 \times 10^{-3}$	0
Etat final			

#### 4. Avancement réactionnel x (en mol)

Les raisonnements précédents peuvent se mathématiser. On peut tout poser sous forme d'équations. L'avancement réactionnel est une grandeur notée x, qui s'exprime en mol. Elle représente l'état d'avancement de la réaction.

- **A l'état initial la réaction n'a pas avancée et l'avancement x vaut 0.**
- **Lorsque la transformation se réalise, l'avancement x augmente.**
- **Dans le cas d'une réaction totale, à l'état final, la réaction est terminée, au moins un réactif qui a sa quantité nulle, les autres étant positives ou nulles. L'avancement x prend une valeur maximale notée  $x_{\max}$ .**

**x varie donc entre 0 et  $x_{\max}$ .**

Voir l'animation suivante : [http://www.ostralo.net/3\\_animations/swf/avancement.swf](http://www.ostralo.net/3_animations/swf/avancement.swf)

Exemple (tableau rempli en littéral) :

Equation chimique :  $1 \text{I}_{2(aq)} + 2 \text{S}_2\text{O}_3^{2-(aq)} \rightarrow 2 \text{I}^-(aq) + 1 \text{S}_4\text{O}_6^{2-(aq)}$

	$n(\text{I}_2) (\mu\text{mol})$	$n(\text{S}_2\text{O}_3^{2-}) (\mu\text{mol})$	$n(\text{I}^-) (\mu\text{mol})$	$n(\text{S}_4\text{O}_6^{2-}) (\mu\text{mol})$
Etat initial $x = 0$	50	120	0	0
Etat intermédiaire x	$50 - 1 x$	$120 - 2 x$	$0 + 2 x$	$0 + 1 x$
Etat final $x = x_{\max}$	$50 - 1 x_{\max}$	$120 - 2 x_{\max}$	$0 + 2 x_{\max}$	$0 + 1 x_{\max}$

La diminution de  $\text{S}_2\text{O}_3^{2-}$  est **2** fois plus importante que celle de  $\text{I}_2$

La production de  $\text{I}^-$  est **2** fois plus importante que celle de  $\text{S}_4\text{O}_6^{2-}$

La production de  $\text{I}^-$  est **égale** à la consommation de  $\text{S}_4\text{O}_6^{2-}$

Une fois le tableau littéral complété il faut calculer la valeur numérique de  $x_{\max}$  telle que "*au moins un des deux réactifs a une quantité nulle, et l'autre une quantité positive ou nulle.*", puis déterminer les valeurs numériques cherchées en remplaçant  $x_{\max}$  par sa valeur.

**Exercice à chercher : 6 page 58**

**Application 1 :** Compléter en littéral le tableau d'avancement réactionnel suivant puis déterminer les quantités de matière des espèces présentes à l'état final :

Equation chimique :  $I_{2(aq)} + 2 S_2O_3^{2-(aq)} \rightarrow 2 I^-_{(aq)} + S_4O_6^{2-(aq)}$

	$n(I_2) (\mu\text{mol})$	$n(S_2O_3^{2-}) (\mu\text{mol})$	$n(I^-) (\mu\text{mol})$	$n(S_4O_6^{2-}) (\mu\text{mol})$
Etat initial $x = 0 \text{ mol}$	50	100	0	0
Etat intermédiaire $x$				
Etat final $x =$				

**Application 2 :** Compléter en littéral le tableau d'avancement réactionnel suivant puis déterminer les quantités de matière des espèces présentes à l'état final :

Equation chimique :  $I_{2(aq)} + 2 S_2O_3^{2-(aq)} \rightarrow 2 I^-_{(aq)} + S_4O_6^{2-(aq)}$

	$n(I_2) (\text{mol})$	$n(S_2O_3^{2-}) (\text{mol})$	$n(I^-) (\text{mol})$	$n(S_4O_6^{2-}) (\text{mol})$
Etat initial	$5 \cdot 10^{-5}$	$2 \times 10^{-5}$	0	0
Etat final				

**Remarque :** Pour calculer la valeur  $x_{\text{max}}$  on pose en général des hypothèses successives sur le réactif limitant. Chaque hypothèse aboutit au calcul d'une valeur possible pour  $x_{\text{max}}$ .

Pour qu'aucune quantité finale ne soit négative, il faut garder comme valeur pour  $x_{\text{max}}$  la plus petite de toutes les valeurs calculées.

**Application 3 :** Compléter en littéral le tableau d'avancement réactionnel suivant puis déterminer les quantités de matière des espèces présentes à l'état final :

Equation chimique :  $I_{2(aq)} + 2 S_2O_3^{2-(aq)} \rightarrow 2 I^-_{(aq)} + S_4O_6^{2-(aq)}$

	$n(I_2) (\text{mol})$	$n(S_2O_3^{2-}) (\text{mol})$	$n(I^-) (\text{mol})$	$n(S_4O_6^{2-}) (\text{mol})$
Etat initial	$5 \cdot 10^{-5}$	$1,8 \times 10^{-4}$	0	0
Etat final				

**Exercice à chercher : 10 et 15 pages 58 - 59**

**Application 4 :** Compléter en littéral le tableau d'avancement réactionnel suivant puis déterminer les quantités de matière des espèces présentes à l'état final :

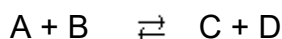
Equation chimique :  $4 \text{ Fe}_{(s)} + 3 \text{ O}_{2(g)} \rightarrow 2 \text{ Fe}_2\text{O}_{3(s)}$

Etat initial	0,0040	$1,8 \times 10^{-3}$	0
Etat final			

**Exercices à chercher : ex 16, 20 et 21 pages 60 à 62**

### 5. Cas des réactions non totales

Un grand nombre de réaction chimiques ne sont pas totales, on les dit "équilibrées". Pour ces réactions-là, les produits, au fur et à mesure qu'ils se forment, réagissent entre eux pour réformer les réactifs. La transformation se fait dans les deux sens, elle est réversible. On matérialise ce phénomène par une double flèche :



Dans ce cas-là, il est impossible d'atteindre une quantité nulle pour un réactif à l'état final. En effet, A et B produisent C et D mais dans le même temps C et D produisent A et B.

L'état final de la réaction se caractérise par des quantités qui n'évoluent plus mais qui ne sont pas nulles.

La valeur qui est prise par l'avancement en fin de réaction se note  $x_f$  et  $x_f < x_{\max}$ .

Exemple :

Equation chimique :  $3 \text{ H}_{2(g)} + \text{ N}_{2(g)} \rightleftharpoons 2 \text{ NH}_{3(g)}$

Etat initial	3	1	0
Etat intermédiaire			
Etat final hypothétique $x_{\max}$			
Etat final observé	0,9	0,3	1,4

Que vaut  $x_{\max}$  pour la situation étudiée ci-dessus.

Que vaut  $x_f$  à l'état final observé pour la situation étudiée ci-dessus.

**Exercice à chercher : 12 page 59**

## 6. Application du bilan de matière : le dosage colorimétrique

### 6.1. Principe du dosage par réaction chimique

La chimie analytique est la branche de la chimie qui assure les analyses chimiques. Elles ont pour but, soit d'identifier les espèces chimiques inconnues présentes dans un mélange, soit de déterminer la quantité de matière d'une espèce chimique présente.

La chimie analytique couvre de nombreux domaines allant des contrôles qualités des entreprises produisant des produits grand public (pharmaceutiques, alimentaires...) jusqu'à la police scientifique.

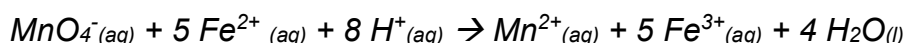
**Définition :** doser ou titrer une solution consiste à déterminer la quantité de matière ou la concentration en quantité de matière d'une espèce chimique, soluté de la solution.

Plusieurs méthodes de dosage existent. Ici nous nous intéressons au dosage par titrage, dosage au cours duquel une transformation chimique consomme le produit dont on recherche la quantité.

### **Activité : DÉCOUVERTE DU PRINCIPE DU DOSAGE PAR RÉACTION CHIMIQUE.**

**Données :**

- Les ions  $Fe^{2+}$  réagissent par une réaction d'oxydoréduction avec les ions permanganate  $MnO_4^-$  selon l'équation suivante.



- Cette réaction est instantanée et totale : dès que les réactifs sont mis en contact on passe de l'état initial à l'état final qui est l'état maximal.
- Les ions permanganates donnent une coloration violette aux solutions aqueuses
- Les ions les ions fer(II) donnent une coloration vert pale aux solutions aqueuses

**Consignes :** Pour chaque mélange initial proposé, déterminer la composition de l'état final et la couleur de la solution à l'état final. Remplir les tableaux en numérique, sans justification pour ne pas alourdir la lecture. Les calculs intermédiaires nécessaires peuvent être faits au brouillon.

#### **MÉLANGE 1 :**

	$MnO_4^-(aq)$	$5 Fe^{2+}(aq)$	$8 H^+(aq)$	$\rightarrow$	$Mn^{2+}(aq)$	$5 Fe^{3+}(aq)$	$4 H_2O(l)$
	$n(MnO_4^-)$	$n(Fe^{2+})$	$n(H^+)$		$n(Mn^{2+})$	$n(Fe^{3+})$	$n(H_2O)$
Etat initial	2 mmol	50 mmol	Excès		0	0	beaucoup
Etat final							

Couleur finale :

#### **MÉLANGE 2 :**

	$MnO_4^-(aq)$	$5 Fe^{2+}(aq)$	$8 H^+(aq)$	$\rightarrow$	$Mn^{2+}(aq)$	$5 Fe^{3+}(aq)$	$4 H_2O(l)$
	$n(MnO_4^-)$	$n(Fe^{2+})$	$n(H^+)$		$n(Mn^{2+})$	$n(Fe^{3+})$	$n(H_2O)$
Etat initial	4 mmol	50 mmol	Excès		0	0	beaucoup
Etat final							

Couleur finale :

#### **MÉLANGE 3 :**

	$MnO_4^-(aq)$	$5 Fe^{2+}(aq)$	$8 H^+(aq)$	$\rightarrow$	$Mn^{2+}(aq)$	$5 Fe^{3+}(aq)$	$4 H_2O(l)$
	$n(MnO_4^-)$	$n(Fe^{2+})$	$n(H^+)$		$n(Mn^{2+})$	$n(Fe^{3+})$	$n(H_2O)$
Etat initial	6 mmol	50 mmol	Excès		0	0	beaucoup
Etat final							

Couleur finale :

**MÉLANGE 4 :**

	$\text{MnO}_4^-$	$+ 5 \text{Fe}^{2+}$	$+ 8 \text{H}^+ \rightarrow$	$\text{Mn}^{2+}$	$+ 5 \text{Fe}^{3+}$	$+ 4 \text{H}_2\text{O}$
	$n(\text{MnO}_4^-)$	$n(\text{Fe}^{2+})$	$n(\text{H}^+)$	$n(\text{Mn}^{2+})$	$n(\text{Fe}^{3+})$	$n(\text{H}_2\text{O})$
Etat initial	8 mmol	50 mmol	Excès	0	0	beaucoup
Etat final						

Couleur finale :

**MÉLANGE 5 :**

	$\text{MnO}_4^-$	$+ 5 \text{Fe}^{2+}$	$+ 8 \text{H}^+ \rightarrow$	$\text{Mn}^{2+}$	$+ 5 \text{Fe}^{3+}$	$+ 4 \text{H}_2\text{O}$
	$n(\text{MnO}_4^-)$	$n(\text{Fe}^{2+})$	$n(\text{H}^+)$	$n(\text{Mn}^{2+})$	$n(\text{Fe}^{3+})$	$n(\text{H}_2\text{O})$
Etat initial	10 mmol	50 mmol	Excès	0	0	beaucoup
Etat final						

Couleur finale :

**MÉLANGE 6 :**

	$\text{MnO}_4^-$	$+ 5 \text{Fe}^{2+}$	$+ 8 \text{H}^+ \rightarrow$	$\text{Mn}^{2+}$	$+ 5 \text{Fe}^{3+}$	$+ 4 \text{H}_2\text{O}$
	$n(\text{MnO}_4^-)$	$n(\text{Fe}^{2+})$	$n(\text{H}^+)$	$n(\text{Mn}^{2+})$	$n(\text{Fe}^{3+})$	$n(\text{H}_2\text{O})$
Etat initial	10,05 mmol	50 mmol	Excès	0	0	beaucoup
Etat final						

Couleur finale :

**MÉLANGE 7 :**

	$\text{MnO}_4^-$	$+ 5 \text{Fe}^{2+}$	$+ 8 \text{H}^+ \rightarrow$	$\text{Mn}^{2+}$	$+ 5 \text{Fe}^{3+}$	$+ 4 \text{H}_2\text{O}$
	$n(\text{MnO}_4^-)$	$n(\text{Fe}^{2+})$	$n(\text{H}^+)$	$n(\text{Mn}^{2+})$	$n(\text{Fe}^{3+})$	$n(\text{H}_2\text{O})$
Etat initial	12 mmol	50 mmol	Excès	0	0	beaucoup
Etat final						

Couleur finale :

**MÉLANGE 8 :**

	$\text{MnO}_4^-$	$+ 5 \text{Fe}^{2+}$	$+ 8 \text{H}^+ \rightarrow$	$\text{Mn}^{2+}$	$+ 5 \text{Fe}^{3+}$	$+ 4 \text{H}_2\text{O}$
	$n(\text{MnO}_4^-)$	$n(\text{Fe}^{2+})$	$n(\text{H}^+)$	$n(\text{Mn}^{2+})$	$n(\text{Fe}^{3+})$	$n(\text{H}_2\text{O})$
Etat initial	14 mmol	50 mmol	Excès	0	0	beaucoup
Etat final						

Couleur finale :

**Questions :**

1. Que simule-t-on au travers de tous ces tableaux d'avancement ?

2. Au cours d'un dosage, on verse petit à petit (goutte à goutte) une solution dans une autre. Lorsque ce dosage est colorimétrique, on stoppe l'ajout dès qu'un changement de couleur apparaît.

Parmi tous les tableaux complétés, lequel correspond à cette situation expérimentale décrite ?

3. Au moment particulier du changement de couleur, que peut-on dire des quantités des réactifs ?

## 6.2. Réalisation et exploitation d'un titrage colorimétrique

Montage permettant un titrage colorimétrique : (à connaître !)

Caractéristiques à choisir pour la réaction support du dosage :

La réaction support du dosage doit être :

- .....
- .....
- .....
- .....

Toute transformation chimique qui obéit à ces caractéristiques peut être utilisée lors d'un titrage. En EDS 1ère, les réactions choisies comme support de titrage seront des réactions d'oxydoréduction.

Définition de l'équivalence du dosage

A retenir :

Repérage de l'équivalence du dosage colorimétrique

Dans un dosage colorimétrique, c'est un changement de couleur qui permet de repérer l'équivalence

Exploitation des résultats d'un dosage :

Méthode :

0 (facultatif mais extrêmement utile). Réaliser un schéma du montage du titrage faisant apparaître, dans les annotations, toutes les données (espèces chimiques, volumes, concentrations).

1. Ecrire l'équation correctement ajustée de la réaction support du dosage
2. Ecrire en littéral la relation entre les quantités de matière introduites lorsqu'on est au point particulier de l'équivalence c'est-à-dire lorsque les réactifs ont été introduits dans les proportions stœchiométriques.
3. Faire apparaître dans la relation précédente les données du dosage (volume pipeté de solution titrée, volume de solution titrante versée à la burette et concentration de la solution titrante)
4. Isoler puis calculer la grandeur inconnue (souvent la concentration du réactif titré).

6.3. Exercices sur le dosage colorimétrique

**Exercice 9 et 11 page 75**