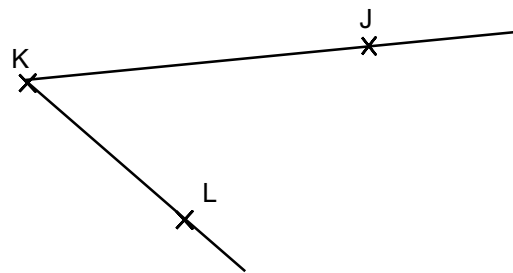
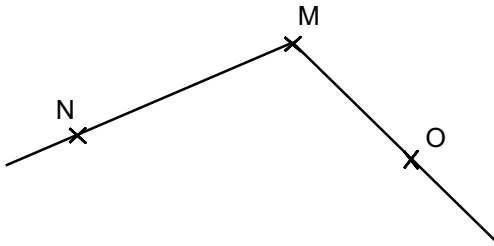
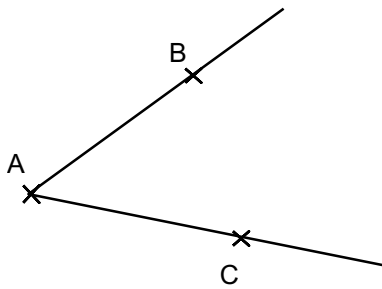


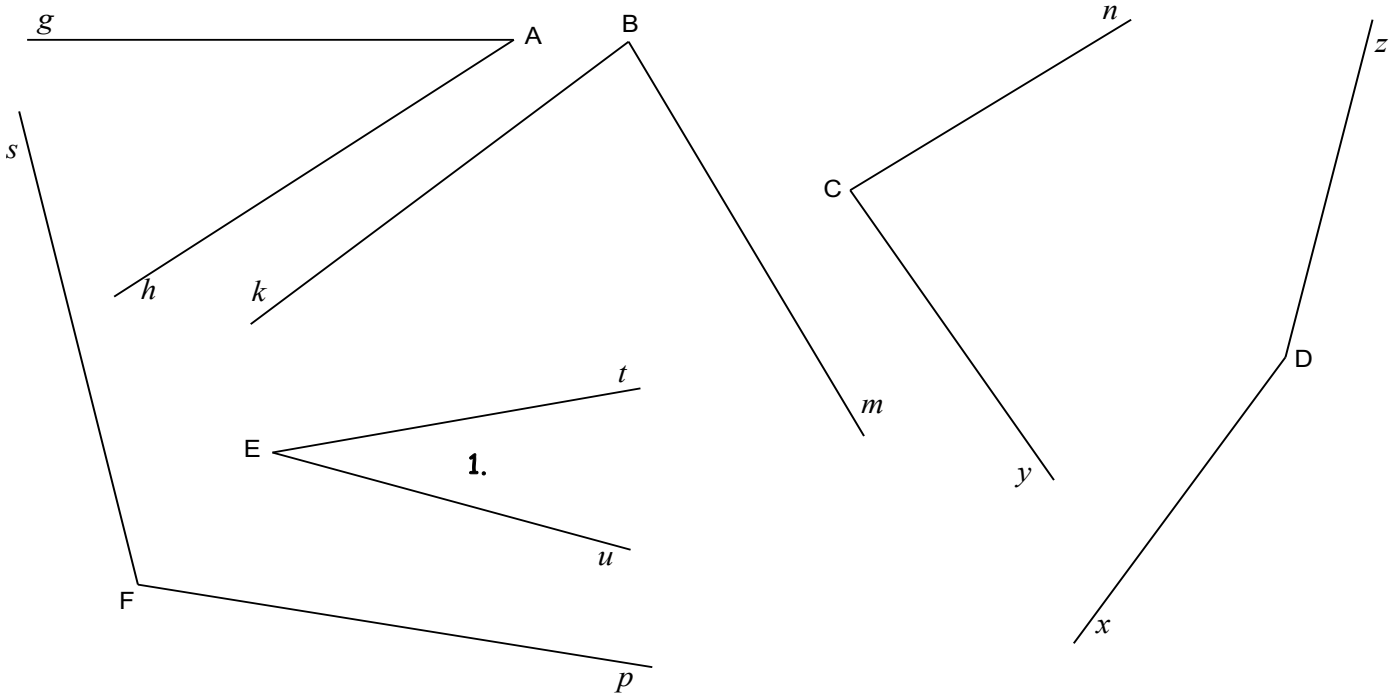
Entraînement 1 : Colorie les angles



LES ANGLES

Un angle est une partie de la feuille comprise entre deux demi-droites.

Entraînement 2 : Compare les angles suivants et range les dans l'ordre croissant, du plus petit au plus grand.



1. L'angle le plus petit est l'angle de sommet **E** et de côtés : $[Et)$ et $[Eu)$.
2. Ensuite, c'est l'angle de sommet et de côtés : et
3. Ensuite, c'est l'angle de sommet et de côtés : et
4. Ensuite, c'est l'angle de sommet et de côtés : et
5. Ensuite, c'est l'angle de sommet et de côtés : et
6. Ensuite, c'est l'angle de sommet et de côtés : et

