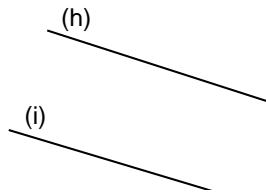
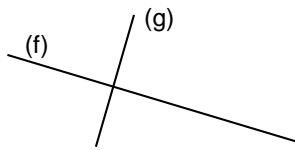
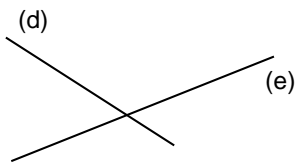
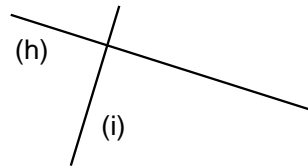
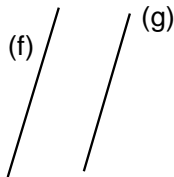
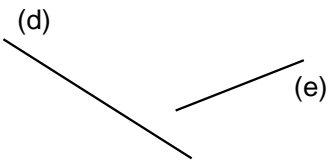


Entraînement 1 Complète par les mots sécantes, parallèles ou perpendiculaires

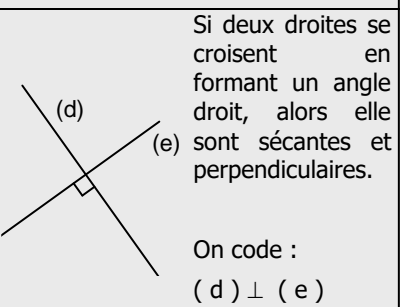
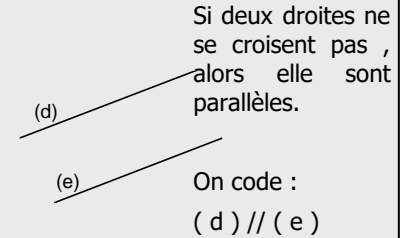
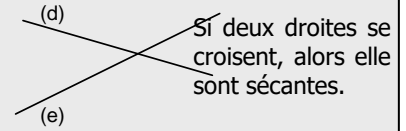


- Les droites (d) et (e) sont des droites
- Les droites (f) et (g) sont des droites
- Les droites (h) et (i) sont des droites

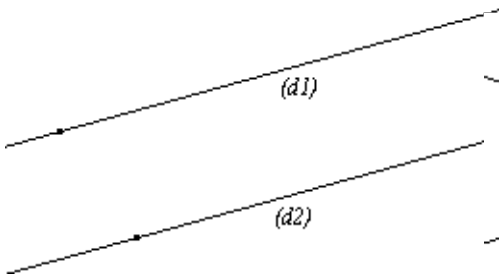


- Les droites (d) et (e) sont des droites
- Les droites (f) et (g) sont des droites
- Les droites (h) et (i) sont des droites

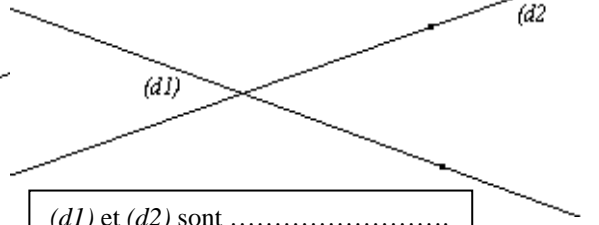
POSITION DE 2 DROITES



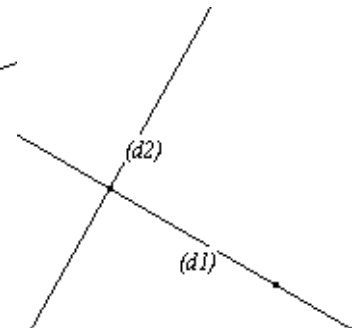
Entraînement 2 Complète les pointillés



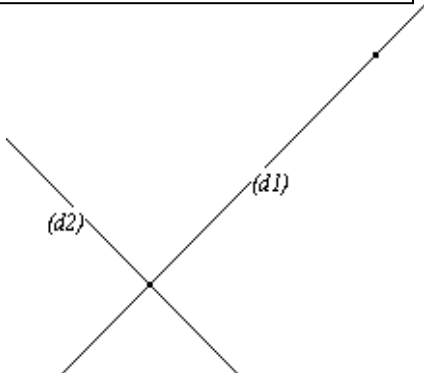
(d1) et (d2) sont
On code (d1) // (d2)



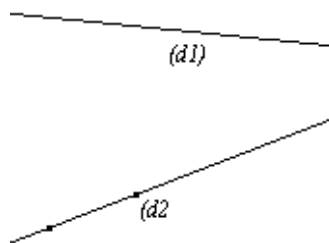
(d1) et (d2) sont



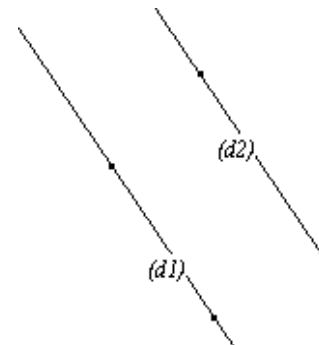
(d1) et (d2) sont
On code (d1) ⊥ (d2)



(d1) et (d2) sont
On code (d1) ... (d2)



(d1) et (d2) sont



(d1) et (d2) sont
On code (d1) ... (d2)

