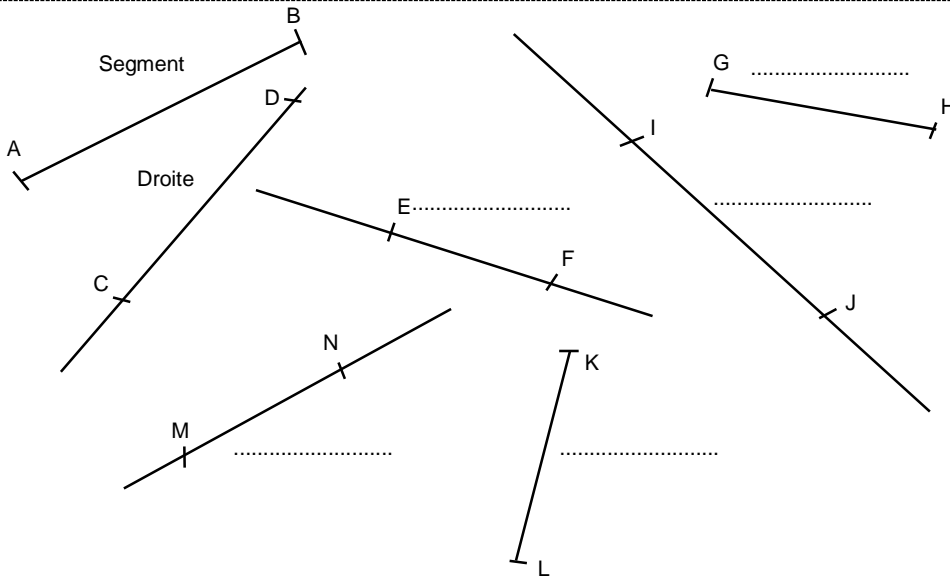
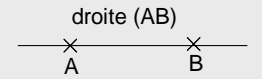


Entraînement 1 Complète avec la bonne étiquette

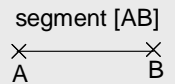


DROITE



Une droite est une ligne tracée à la règle qui n'a pas d'extrémités

SEGMENT



Un segment est une ligne tracée à la règle qui a 2 extrémités.

Entraînement 2

<p>Trace le segment d'extrémités les points A et B.</p> <p>NOM : le segment [AB]</p>	<p>Trace la droite passant par les points A et B.</p> <p>NOM : la droite (AB)</p>	<p>Trace le segment d'extrémités les points A et C.</p> <p>NOM : le segment</p>
<p>Trace le segment [CB]</p> <p>NOM :</p>	<p>Trace la droite (BC).</p> <p>NOM :</p>	<p>Trace les segments [AB], [BC] [CA].</p>

NOTATION MATHÉMATIQUE

La droite qui passe par les points A et B se note : (AB)

Le segment d'extrémités les points A et B se note : [AB]

Entraînement 3 Trace en respectant les consignes

- Trace le segment [AI].
- Trace le segment [CE].
- Trace la droite (DG).
- Trace le segment [FB].
- Trace la droite (AB).
- Trace le segment [HB].
- Les points D, C et H sont-ils alignés ?

