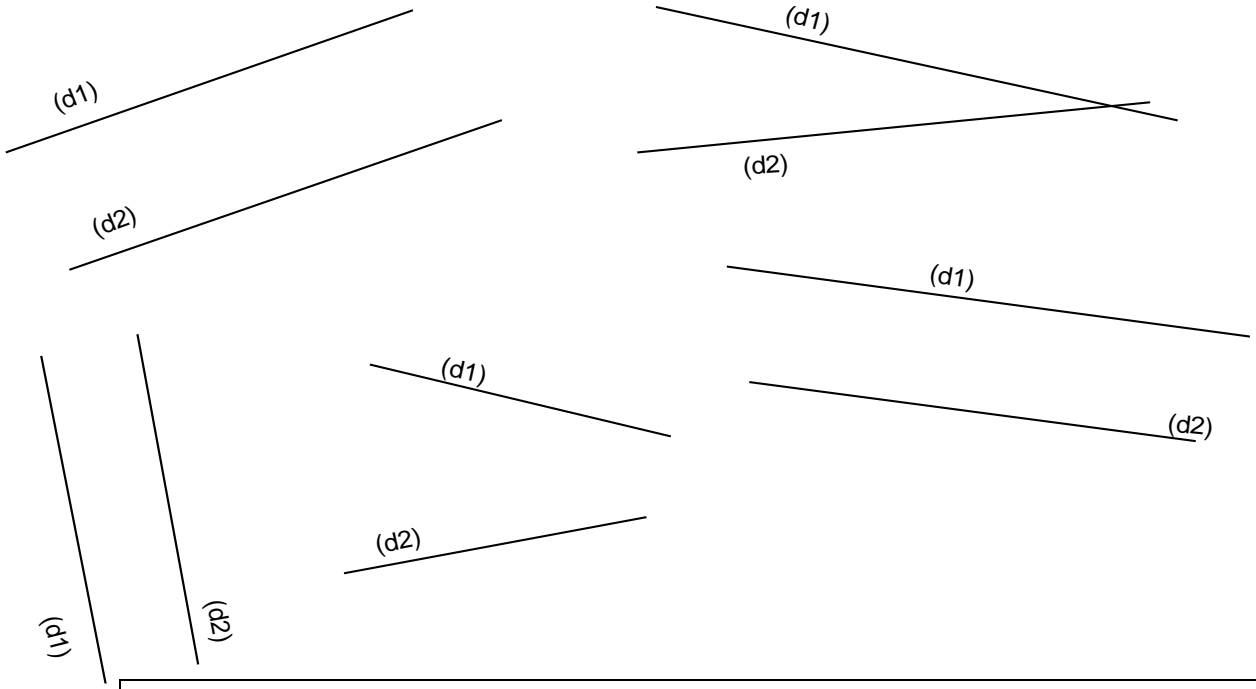


Entraînement 1 Repasse en couleurs les droites (d1) et (d2) qui te semblent parallèles. (Elles ne se toucheront jamais)

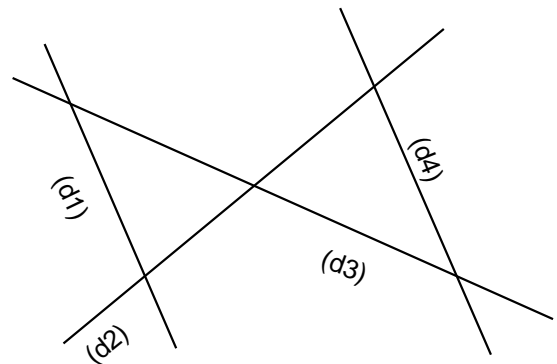
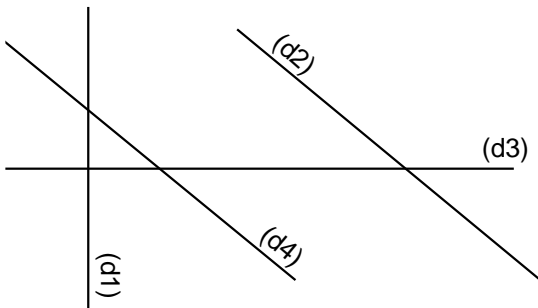
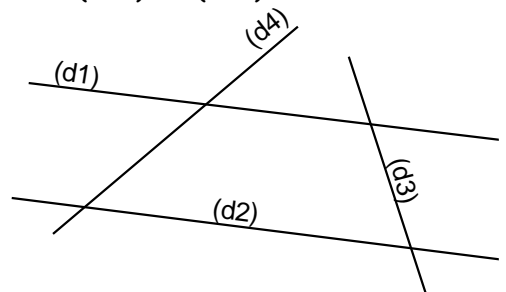
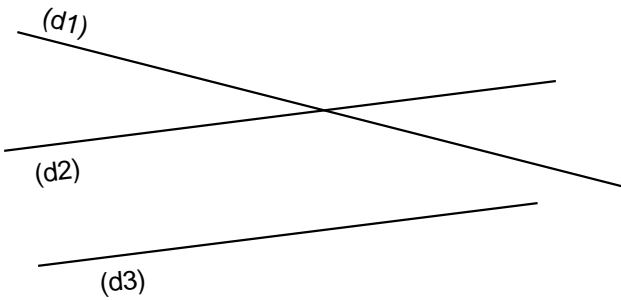


Deux droites qui n'ont pas de point d'intersection sont des droites parallèles

Entraînement 2 Complète avec les mots *sécantes* ou *parallèles*.

Les droites (d1) et (d2) sont
 Les droites (d2) et (d3) sont
 Les droites (d1) et (d3) sont

Les droites (d1) et (d2) sont
 Les droites (d1) et (d4) sont
 Les droites (d3) et (d4) sont



Les droites (d2) et (d4) sont
 Les droites (d1) et (d3) sont
 Les droites (d1) et (d2) sont

Les droites (d1) et (d2) sont
 Les droites (d1) et (d4) sont
 Les droites (d3) et (d4) sont

