

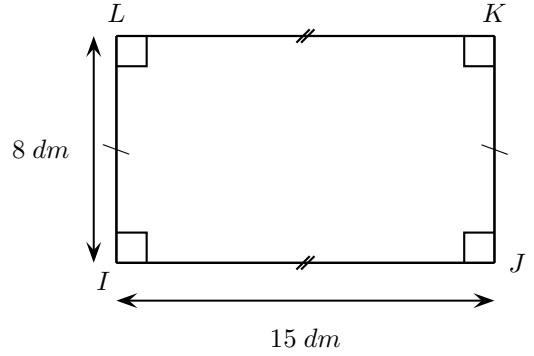
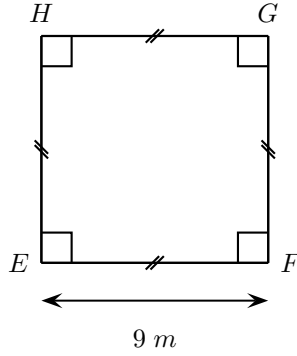
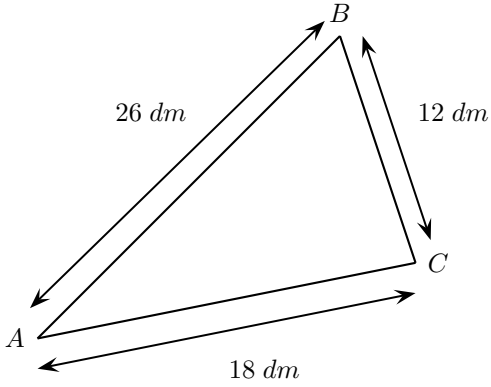
Nom :

Prénom :

Classe :

Exercice 1

Calculer le périmètre des figures suivantes en vous aidant du codage .



Exercice 2

Dans chaque cas, calculer en justifiant, le périmètre de la figure suivante :

- 1) un rectangle de longueur 9,8 cm et de largeur 5,2 cm.
- 2) un carré de côté 7,25 m.
- 3) un triangle ABC isocèle en A tel que $AB = 18,4$ cm et $BC = 12,2$ cm.
- 4) un cercle de diamètre 5,2 cm .

Exercice 3

Calculer l'aire des quatre figures suivantes. Les résultats seront arrondis au centième près.

