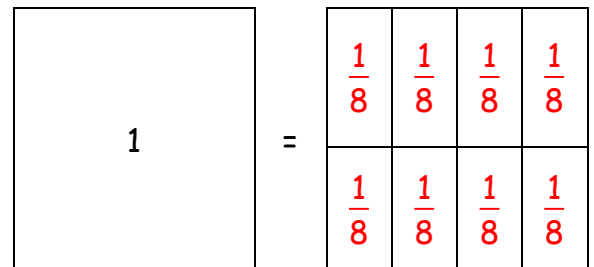
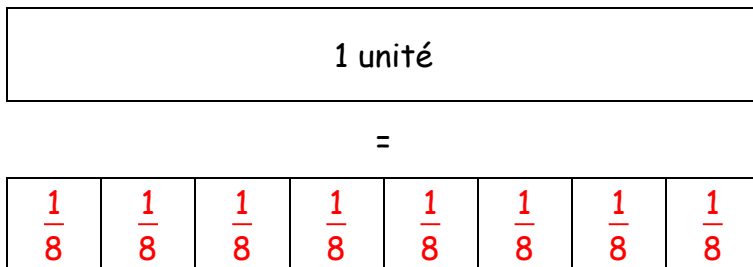
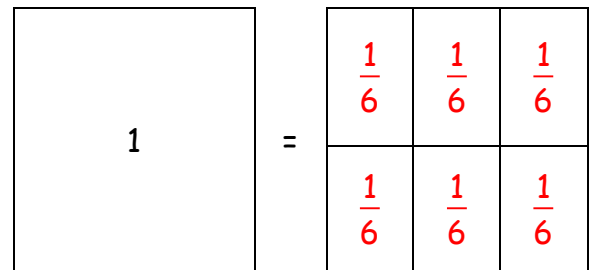
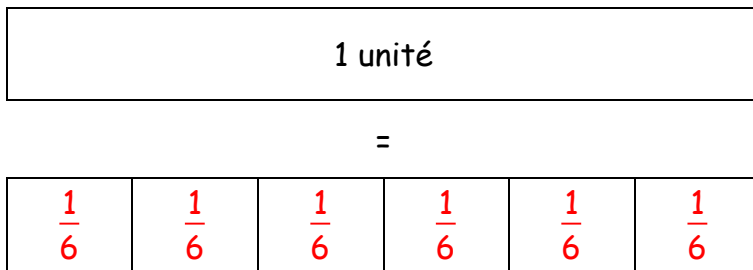
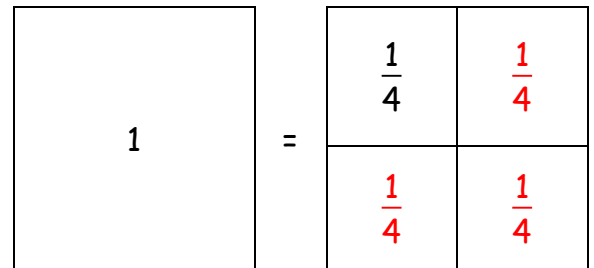
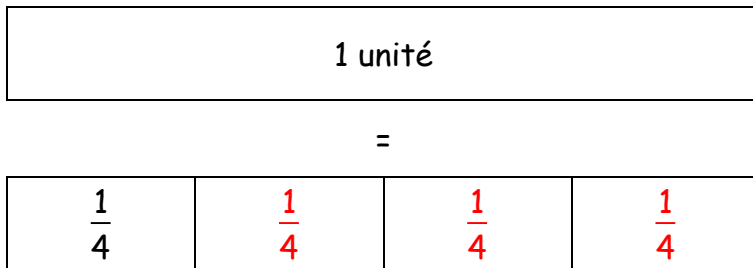
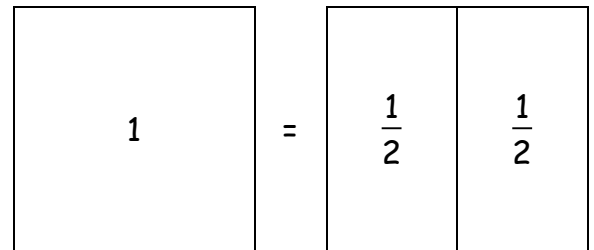
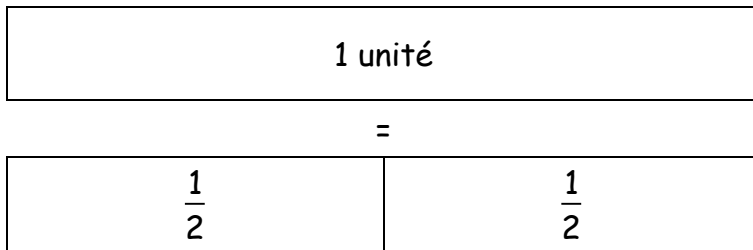


**Entraînement 1 :**

 **Entraînement 2 :** Combien de ..... dans ..... ?

- Combien de demis dans une unité ? Dans une unité, il y a **2** demis.

$$1 = \frac{1}{2} + \frac{1}{2} = \frac{2}{2}$$

- Combien de quarts dans une unité ? Dans une unité, il y a **4** quarts.

$$1 = \frac{1}{4} + \frac{1}{4} + \frac{1}{4} + \frac{1}{4} = \frac{4}{4}$$

- Combien de huitièmes dans une unité ? Dans une unité, il y a **8** huitièmes.

$$1 = \frac{1}{8} + \frac{1}{8} + \frac{1}{8} + \frac{1}{8} + \frac{1}{8} + \frac{1}{8} + \frac{1}{8} + \frac{1}{8} =$$

- Combien de dixièmes dans une unité ? Dans une unité, il y a **10** dixièmes.

$$1 = \frac{1}{10} + \frac{1}{10} + \frac{1}{10} + \frac{1}{10} + \frac{1}{10} + \frac{1}{10} + \frac{1}{10} + \frac{1}{10} + \frac{1}{10} + \frac{1}{10} = \frac{10}{10}$$

