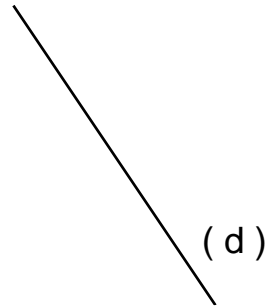


Entraînement 1 :


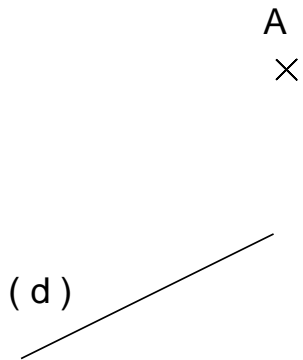
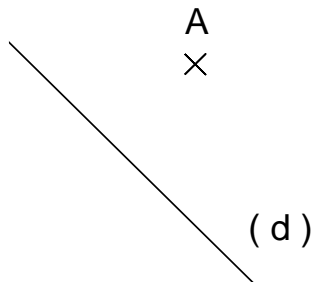
Construis 3 droites perpendiculaires à la droite (d)



Construis 3 droites perpendiculaires à la droite (d)



Entraînement 2 Trace dans chaque cas, la droite perpendiculaire à la droite (d) qui passe par le point A.



Entraînement 3 : Trace la droite (AB). Construis la droite perpendiculaire à la droite (AB) qui passe par le point C.

