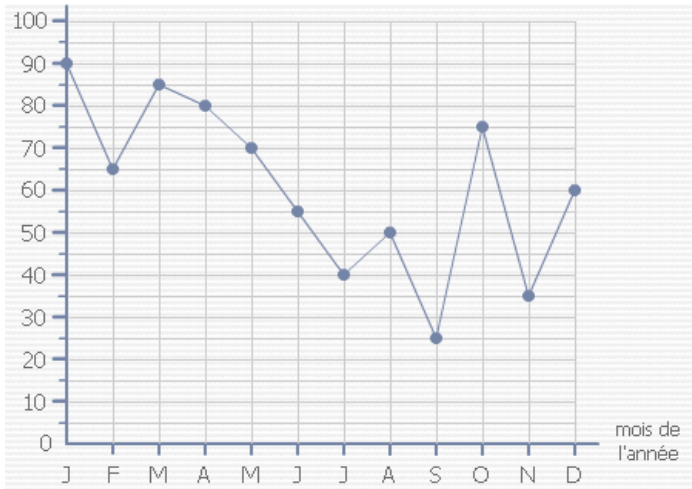


Entraînement 1



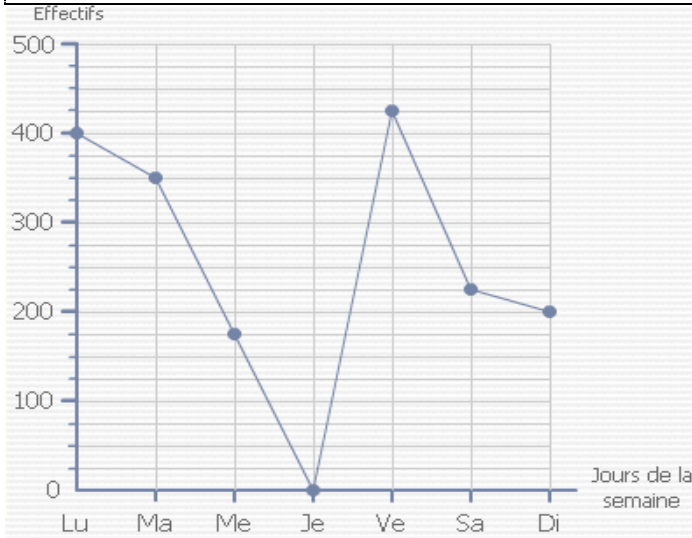
Compte de 5 en 5 :

0 - 5 - 10 - 15 - 20 - 25 - 30
35 - ...40... - ...45... - ...50... - ...55... - 60
...65... - ...70... - ...75... - ...80... - ...85... - 90

Mois	J	F	M	A	M	J
Mm de pluie	90	65	85	80	70	55

Mois	J	A	S	O	N	D
Mm de pluie	40	50	25	75	35	60

Entraînement 2

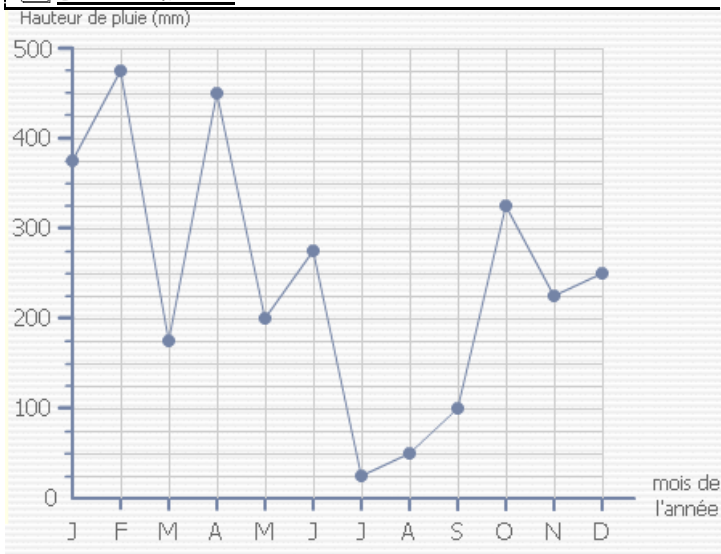


Compte de 25 en 25 :

0 - 25 -50... -75... - 100 - ...125... - ...150...
175 - ..200.. - ...225... - 250 - ...275... - 300
...325... - ...350... - ...375... - ...400... - ..425...
450 - ...475... - 500

jours	Lu	Ma	Me	Je	Ve	Sa	Di
Effe ctifs	400	350	175	0	425	225	200

Entraînement 3



Mois	J	F	M	A	M	J
Hauteur de pluie	375	475	275	450	200	275

Mois	J	A	S	O	N	D
Hauteur de pluie	25	50	100	315	225	250

Quel est le mois ou il tombe le plus de pluie ?

Le mois de Février

Quel est le mois ou il tombe le moins de pluie ?

