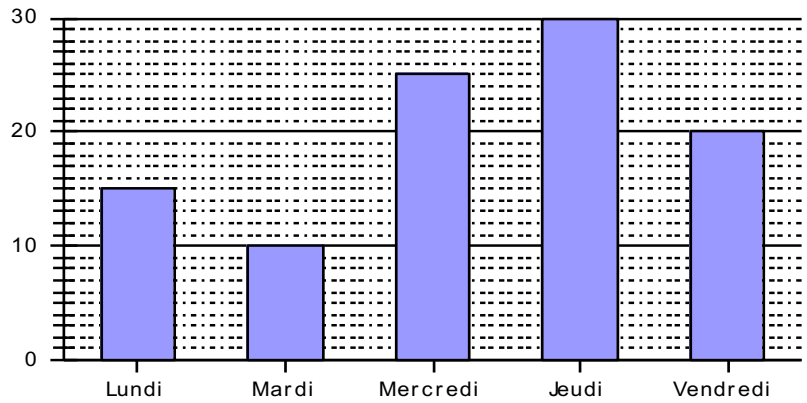


Entraînement 1 complète le tableau à l'aide du graphique

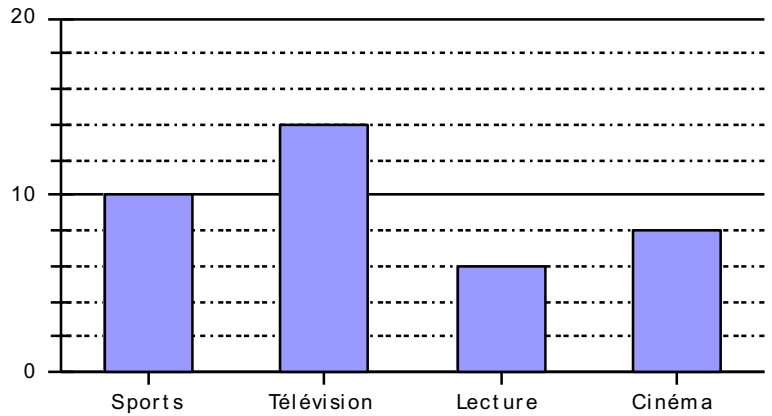
JOURS DE LA SEMAINE	NOMBRE D'ABSENCES
LUNDI	
.....	
.....	
.....	
TOTAL	



- a) Quel est le jour où il y a le plus d'absents ? Le moins d'absents ?
- b) Quels sont les jours où les absences ont été supérieures à 21 ?

Entraînement 2 complète le graphique à l'aide du tableau

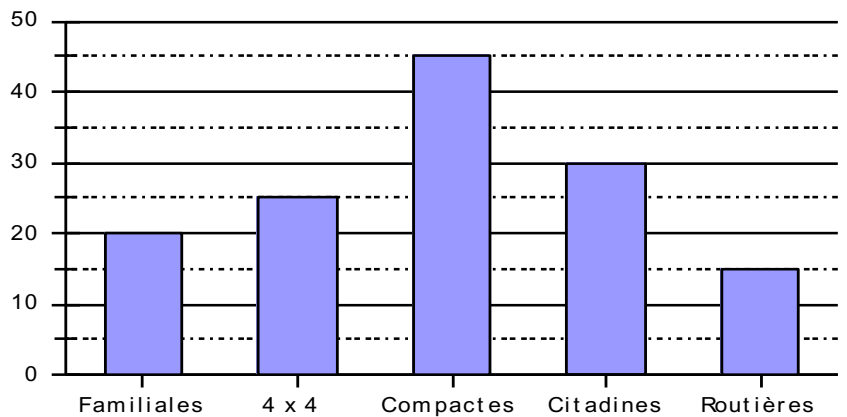
LOISIR PRÉFÉRÉ	NOMBRE DE JEUNES
SPORTS	
TÉLÉVISION	
.....	
.....	
TOTAL	



- a) Quel est le loisir préféré de ces jeunes ?
- b) Combien de jeunes ont été interrogés ?

Entraînement 3 complète le tableau à l'aide du graphique

CATÉGORIE DE VOITURES	NOMBRE DE VOITURES
FAMILIALES	
4 x 4	
.....	
.....	
.....	



- a) Quelle est la catégorie de voitures la plus vendue ?
- b) Combien de voitures ont été vendues ?

