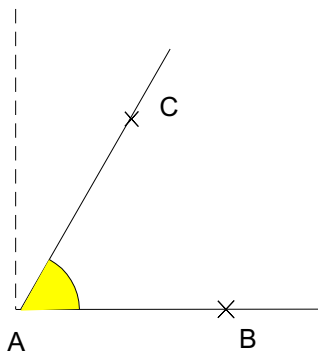
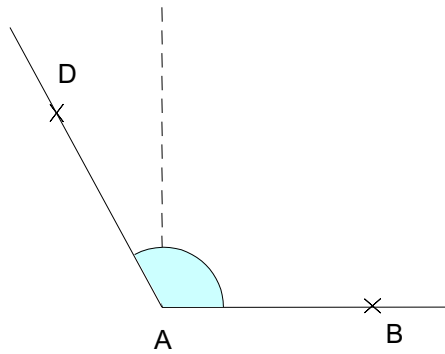


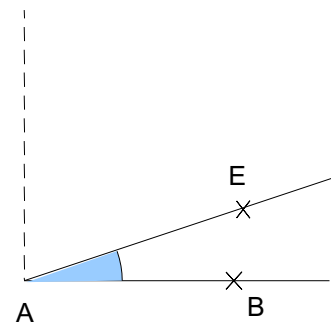
**Entraînement 1** : Complète les cadres



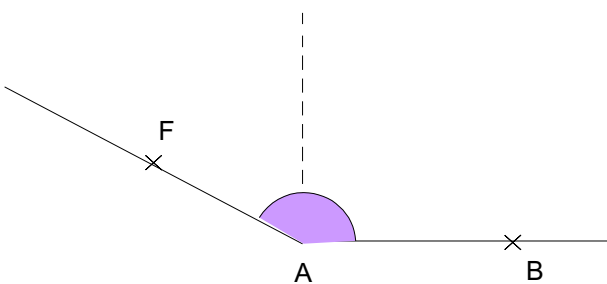
L'angle  $BAC$  est plus petit que l'angle droit, c'est donc un angle : **aigu**



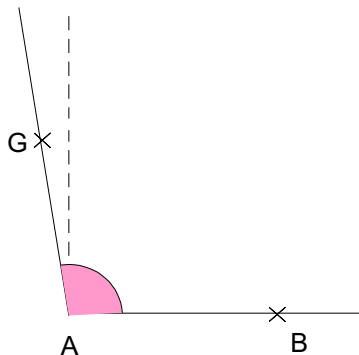
L'angle ..... est plus grand que l'angle droit c'est donc un angle : **obtus**



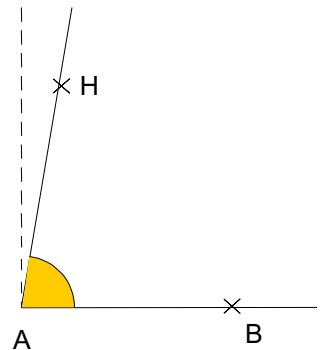
L'angle ..... est ..... que l'angle droit c'est donc un angle :



L'angle ..... est ..... que l'angle droit c'est donc un angle :



L'angle ..... est ..... que l'angle droit c'est donc un angle :



L'angle ..... est ..... que l'angle droit c'est donc un angle :

**Entraînement 2** : Dis si les angles suivants sont **aigus** ou **obtus** ou **droit**.

