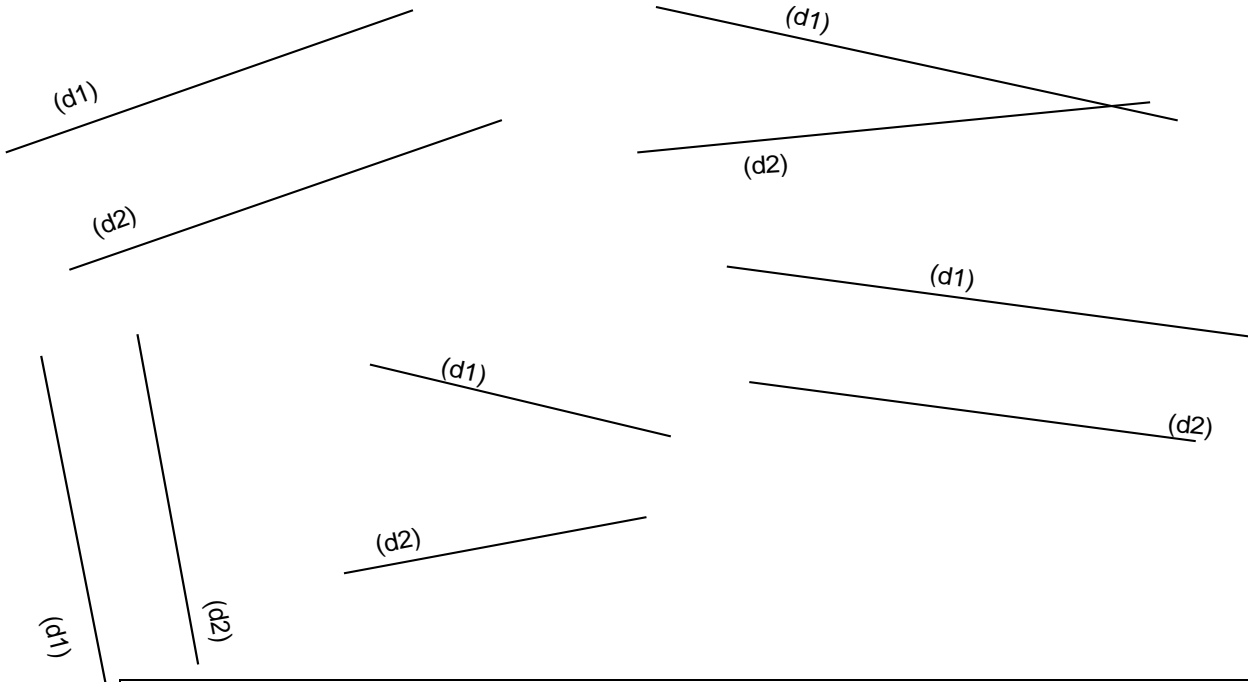


Entraînement 1 Repasse en couleurs les droites (d1) et (d2) qui te semblent parallèles. (Elles ne se toucheront jamais)

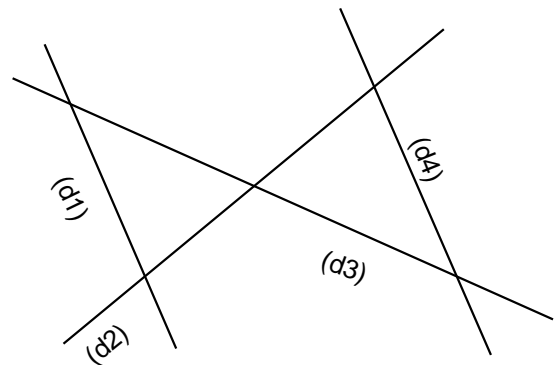
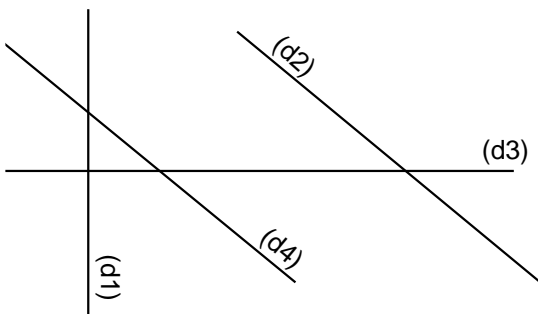
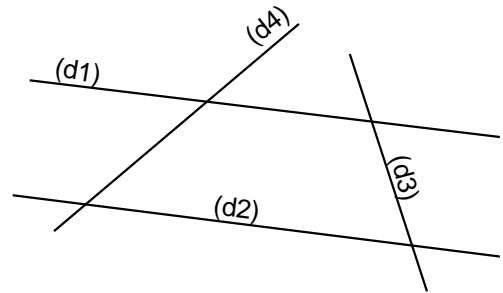
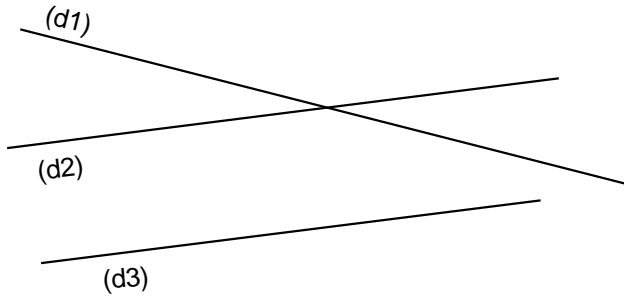


Deux droites qui n'ont pas de point d'intersection sont des droites parallèles

Entraînement 2 Complète avec les mots **sécantes** ou **parallèles**.

Les droites (d1) et (d2) sont **sécantes**
 Les droites (d2) et (d3) sont **parallèles**
 Les droites (d1) et (d3) sont **sécantes**

Les droites (d1) et (d2) sont **parallèles**
 Les droites (d1) et (d4) sont **sécantes**
 Les droites (d3) et (d4) sont **sécantes**



Les droites (d2) et (d4) sont **parallèles**
 Les droites (d1) et (d3) sont **sécantes**
 Les droites (d1) et (d2) sont **sécantes**

Les droites (d1) et (d2) sont **sécantes**
 Les droites (d1) et (d4) sont **parallèles**
 Les droites (d3) et (d4) sont **sécantes**



