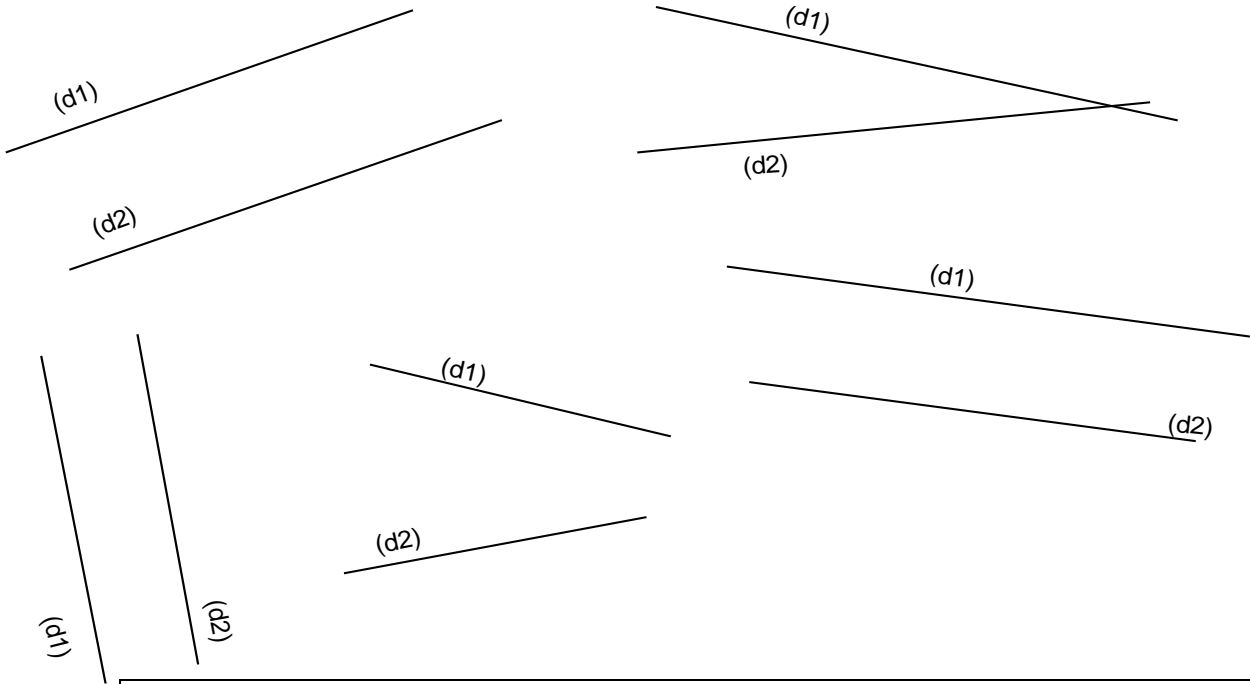


**Entraînement 1** Repasse en couleurs les droites ( d1 ) et ( d2 ) qui te semblent parallèles. ( Elles ne se toucheront jamais )

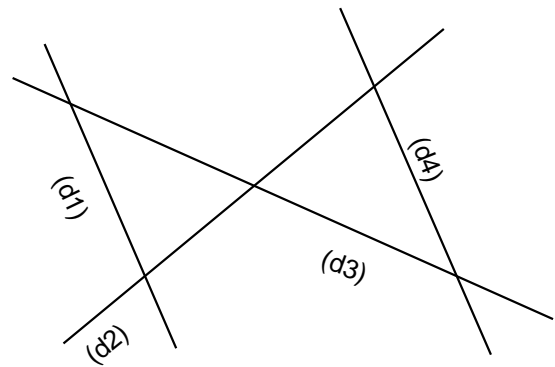
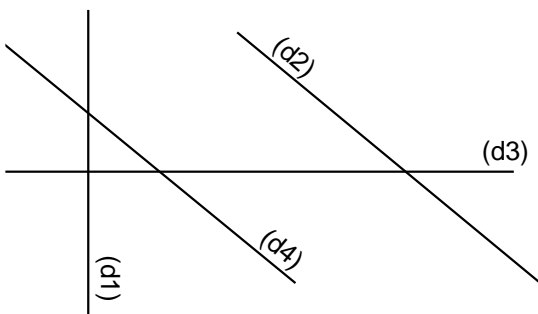
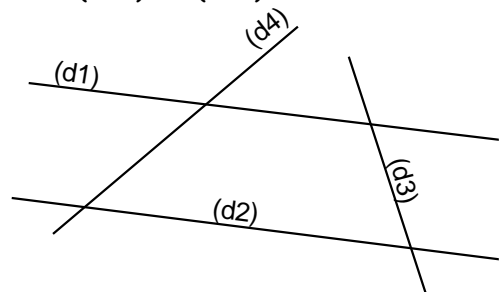
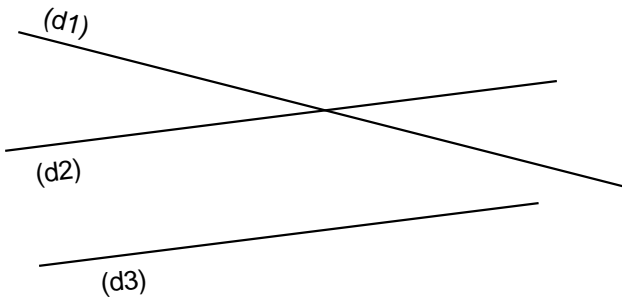


Deux droites qui n'ont pas de point d'intersection sont des droites parallèles

**Entraînement 2** Complète avec les mots *sécantes* ou *parallèles*.

Les droites ( d1 ) et ( d2 ) sont .....  
 Les droites ( d2 ) et ( d3 ) sont .....  
 Les droites ( d1 ) et ( d3 ) sont .....

Les droites ( d1 ) et ( d2 ) sont .....  
 Les droites ( d1 ) et ( d4 ) sont .....  
 Les droites ( d3 ) et ( d4 ) sont .....



Les droites ( d2 ) et ( d4 ) sont .....  
 Les droites ( d1 ) et ( d3 ) sont .....  
 Les droites ( d1 ) et ( d2 ) sont .....

Les droites ( d1 ) et ( d2 ) sont .....  
 Les droites ( d1 ) et ( d4 ) sont .....  
 Les droites ( d3 ) et ( d4 ) sont .....

