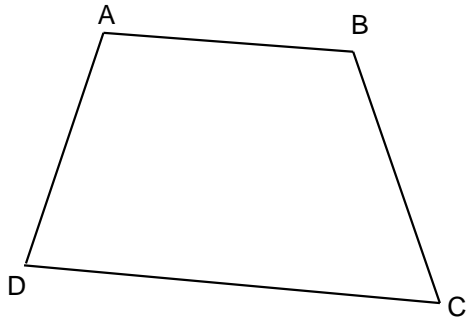
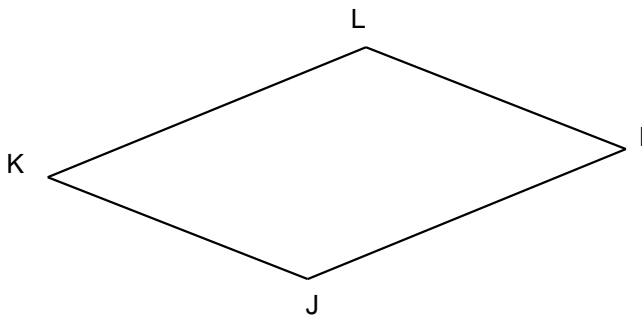
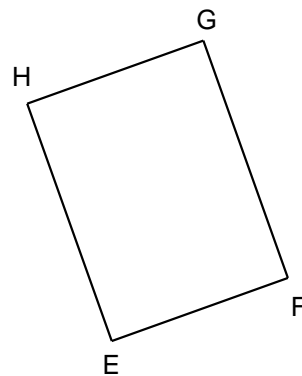


**Entraînement 1** Trace les diagonales des quadrilatères suivants et complète les tableaux



Quadrilatère	
Nom	.....
Côtés opposés	[ AB ] et .....
	[ AD ] et .....
Sommets opposés	A et .....
	B et .....
Diagonales	[ AC ] et .....

Quadrilatère	
Nom	EFGH
Côtés opposés	[ HG ] et .....
	[ GF ] et .....
Sommets opposés	G et .....
	F et .....
Diagonales	[ HF ] et .....



Quadrilatère	
Nom	.....
Côtés opposés	[ KL ] et .....
	..... et .....
Sommets opposés	..... et .....
	..... et .....
Diagonales	..... et .....

Quadrilatère	
Nom	.....
Côtés opposés	..... et .....
	..... et .....
Sommets opposés	..... et .....
	..... et .....
Diagonales	..... et .....

