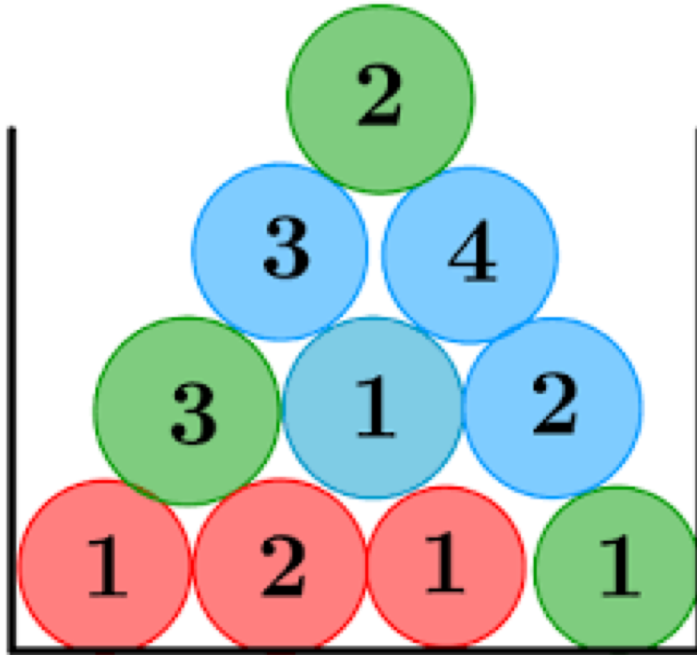
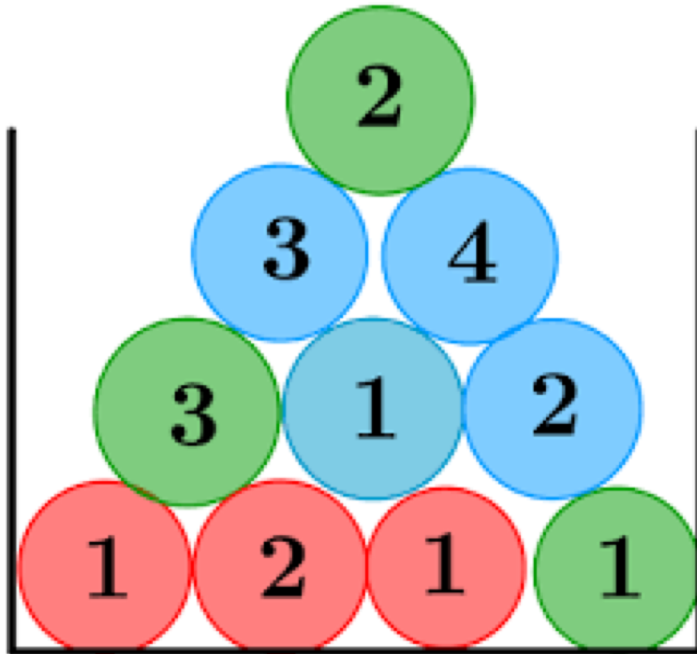


Quelle est la probabilité ?



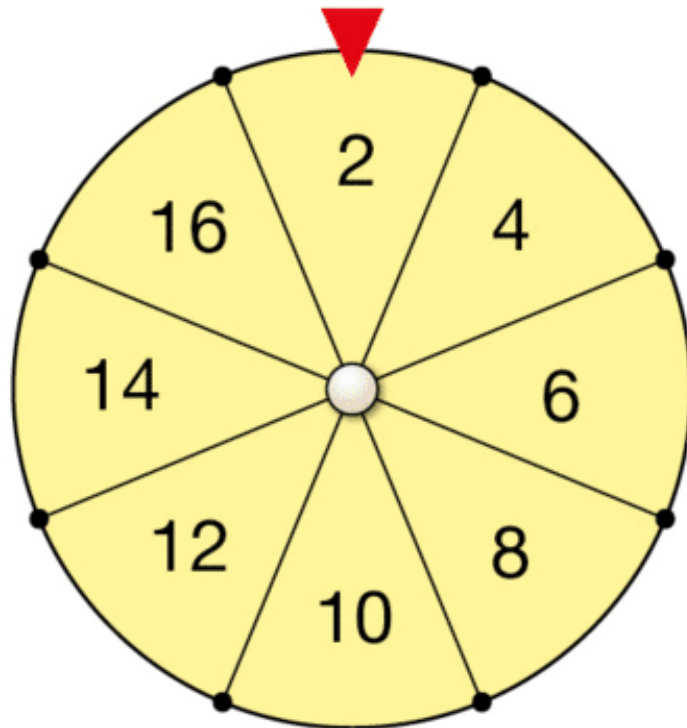
Obtenir une  
boule de couleur  
bleue ?

Quelle est la probabilité ?



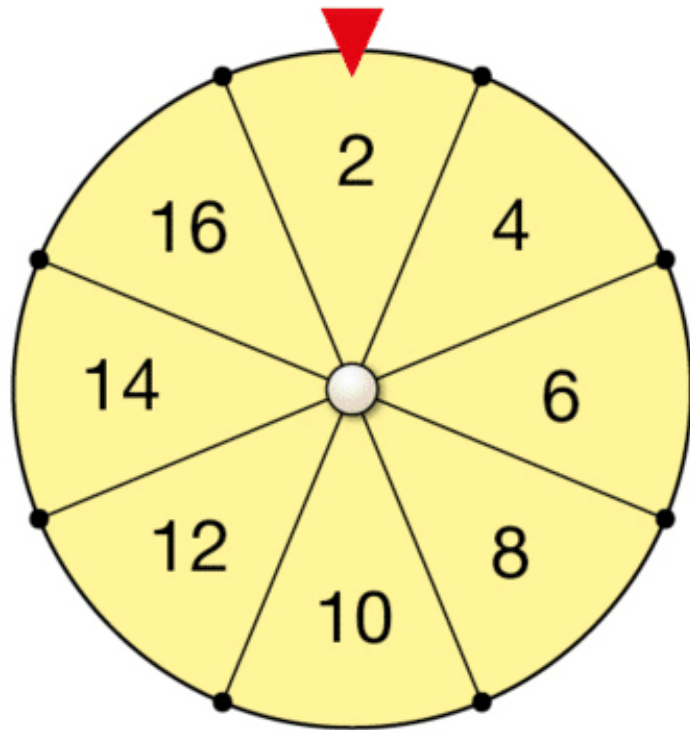
Obtenir une  
boule avec le  
numéro  
supérieur à 1?

Quelle est la probabilité ?



Obtenir un  
nombre inférieur  
à 10 ?

# Quelle est la probabilité ?



Obtenir un  
nombre multiple  
de 3 ?

# Quelle est la probabilité ?



Obtenir un  
nombre impair ?

# Quelle est la probabilité ?

Expérience aléatoire


Lancer un dé



A: "Obtenir un nombre pair"

Obtenir un  
nombre plus grand  
ou égal à 4 ?

# Quelle est la probabilité ?



32 cartes

8 trèfles

8 piques

8 cœurs

8 carreaux

Obtenir une carte  
de famille cœur ?

# Quelle est la probabilité ?

Moyen de transport	Voiture	Marche	Vélo	Total
Garçons	200	330	120	650
Filles	250	320	80	650
Total	450	650	200	1 300

Parmi toutes ces personnes,  
de choisir une fille qui vient à pied ?

# Quelle est la probabilité ?

Moyen de transport	Voiture	Marche	Vélo	Total
Garçons	200	330	120	650
Filles	250	320	80	650
Total	450	650	200	1 300

Parmi tous les garçons,  
de choisir un garçon qui vient en vélo ?

# Quelle est la probabilité ?

Moyen de transport	Voiture	Marche	Vélo	Total
Garçons	200	330	120	650
Filles	250	320	80	650
Total	450	650	200	1 300

Parmi toutes les personnes qui viennent en voiture, de choisir une fille ?