
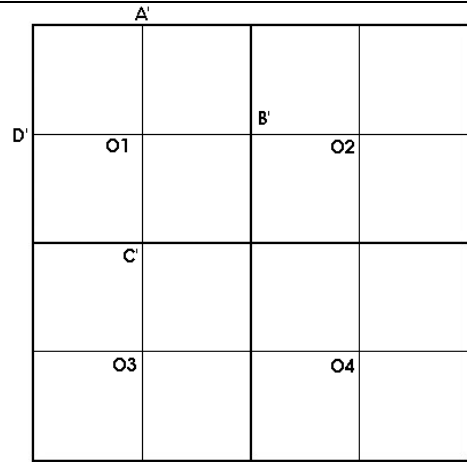



- Suis le programme de construction et reproduis cette figure :




1./ Sur le carré ABCD de 16 cm de côté, place les milieux de chaque côté E, F, G et H. Trace les segments [EG] et [HF]. Place le point O au centre du carré.



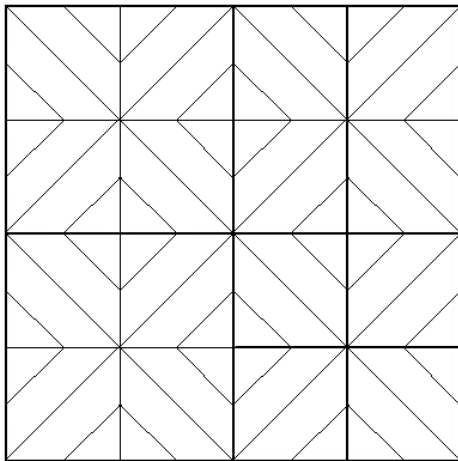
2./ Refais la même chose dans le carré AEOH de 8 cm de côté. Tu obtiens les nouveaux points A', B', C', D' et O1.




3./ Refais la même chose dans le carré AA'O1D' de côté 4 cm. Tu obtiens les nouveaux points 1, 2, 3 et 4.



4./ Trace les diagonales de O1. Relie les points 4 et 1, 4 et 2, 7 et 5, 7 et 10, 9 et 12, 9 et 11, 6 et 8 et enfin 6 et 3.



5./ Réalise les mêmes opérations dans les carrés de centre O2, O3 et O4



6./ Gomme les traits inutiles et colorie.

