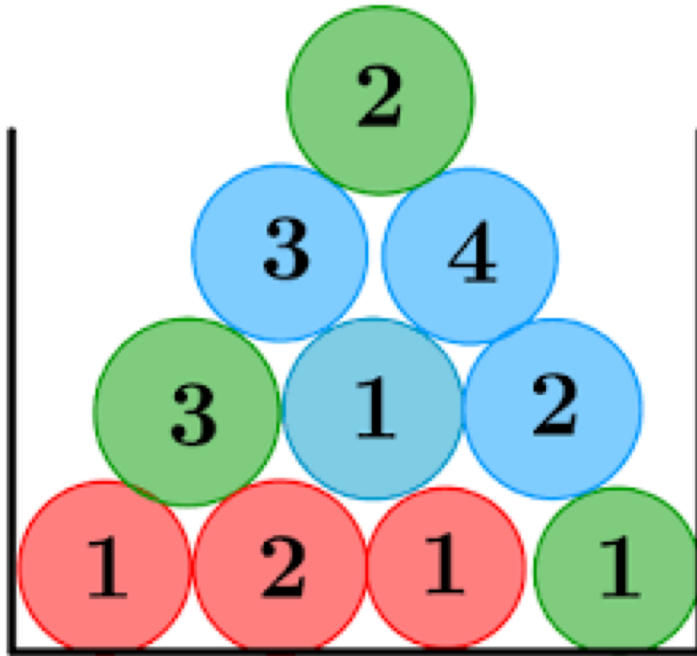
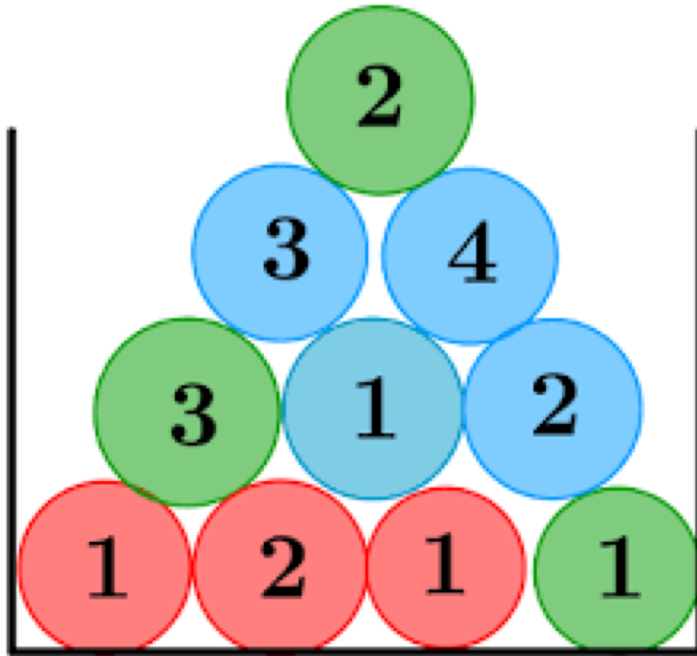


Quelle est la probabilité ?



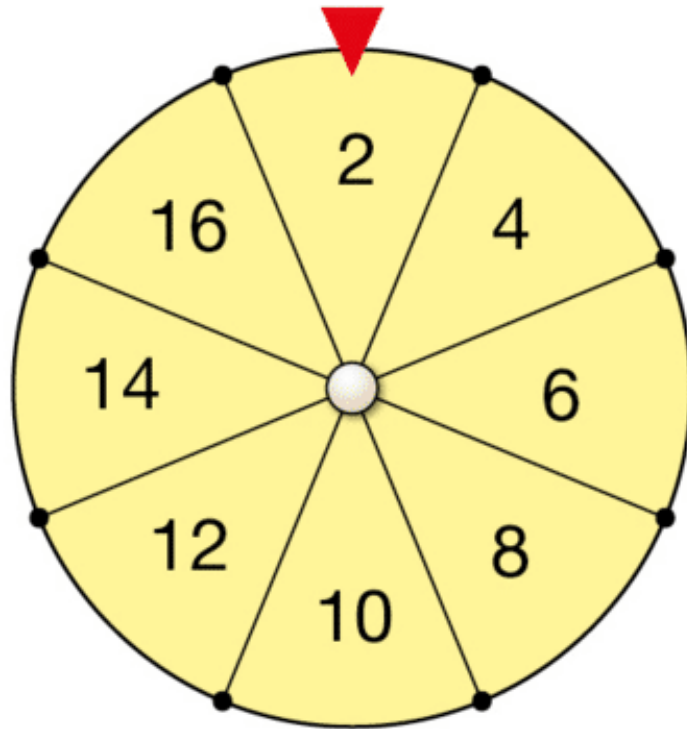
Obtenir une
boule de couleur
verte ?

Quelle est la probabilité ?



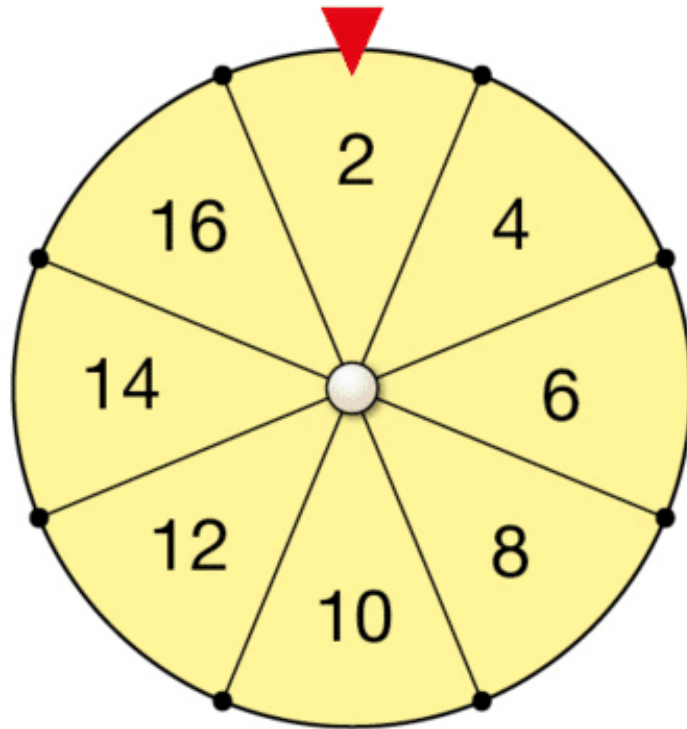
Obtenir une
boule avec le
numéro 3?

Quelle est la probabilité ?



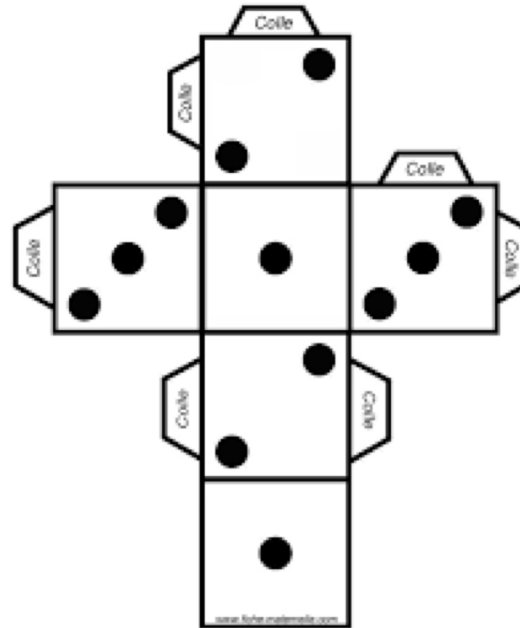
Obtenir le
nombre 10 ?

Quelle est la probabilité ?



Obtenir un
nombre pair?

Quelle est la probabilité ?



Obtenir le
nombre 2?

Quelle est la probabilité ?


Expérience aléatoire
Lancer un dé



A: "Obtenir un nombre pair"

Obtenir un
nombre pair ?

Quelle est la probabilité ?



32 cartes

8 trèfles

8 piques

8 cœurs

8 carreaux

Obtenir un 8 ?

Quelle est la probabilité ?

Moyen de transport	Voiture	Marche	Vélo	Total
Garçons	200	330	120	650
Filles	250	320	80	650
Total	450	650	200	1 300

Parmi toutes ces personnes,
de choisir un garçon qui vient en
voiture ?

Quelle est la probabilité ?

Moyen de transport	Voiture	Marche	Vélo	Total
Garçons	200	330	120	650
Filles	250	320	80	650
Total	450	650	200	1 300

Parmi toutes les filles,
de choisir une fille qui vient en vélo ?

Quelle est la probabilité ?

Moyen de transport	Voiture	Marche	Vélo	Total
Garçons	200	330	120	650
Filles	250	320	80	650
Total	450	650	200	1 300

Parmi toutes les personnes qui viennent en vélo,
de choisir une fille ?