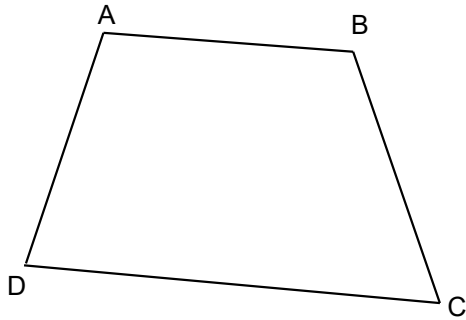
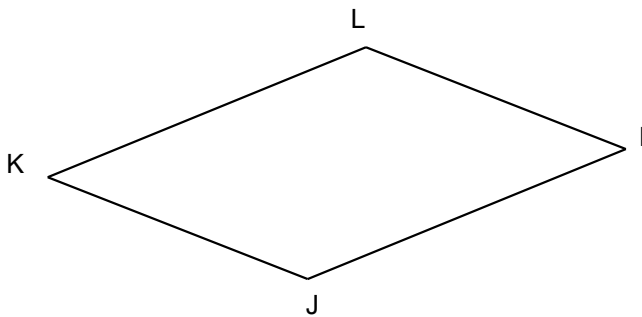
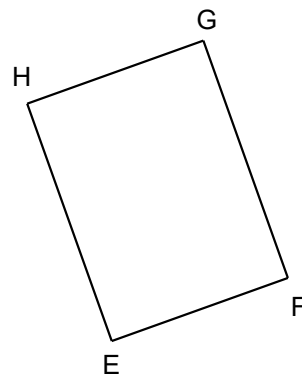


Entraînement 1 Trace les diagonales des quadrilatères suivants et complète les tableaux



Quadrilatère	
Nom
Côtés opposés	[AB] et
	[AD] et
Sommets opposés	A et
	B et
Diagonales	[AC] et

Quadrilatère	
Nom	EFGH
Côtés opposés	[HG] et
	[GF] et
Sommets opposés	G et
	F et
Diagonales	[HF] et



Quadrilatère	
Nom
Côtés opposés	[KL] et
 et
Sommets opposés et
 et
Diagonales et

Quadrilatère	
Nom
Côtés opposés et
 et
Sommets opposés et
 et
Diagonales et

