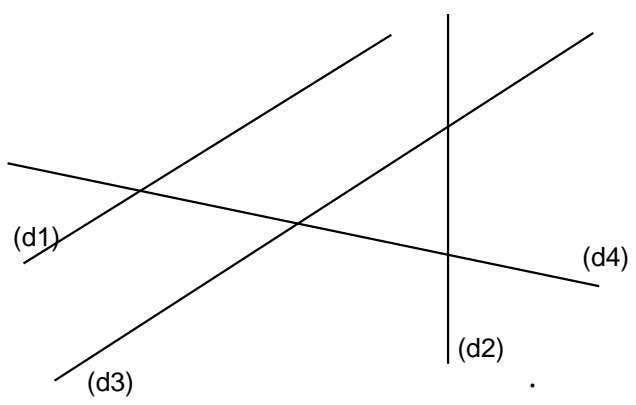
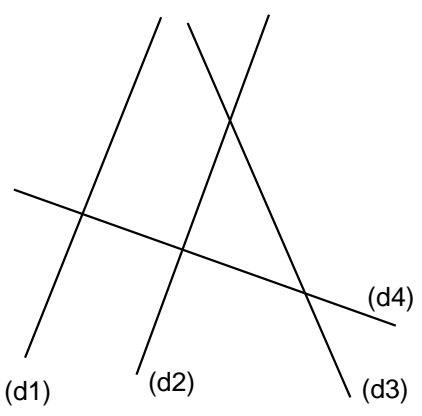
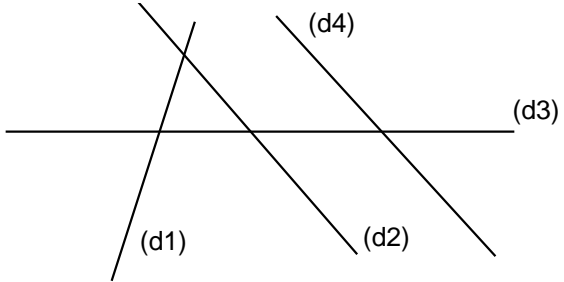
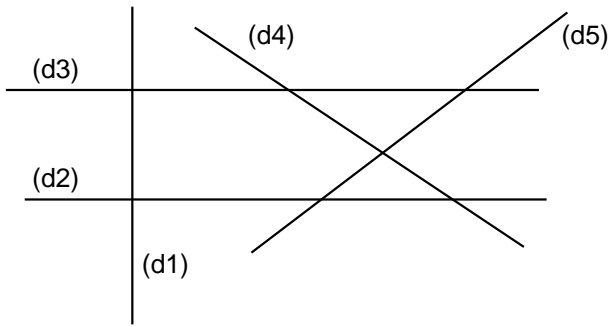
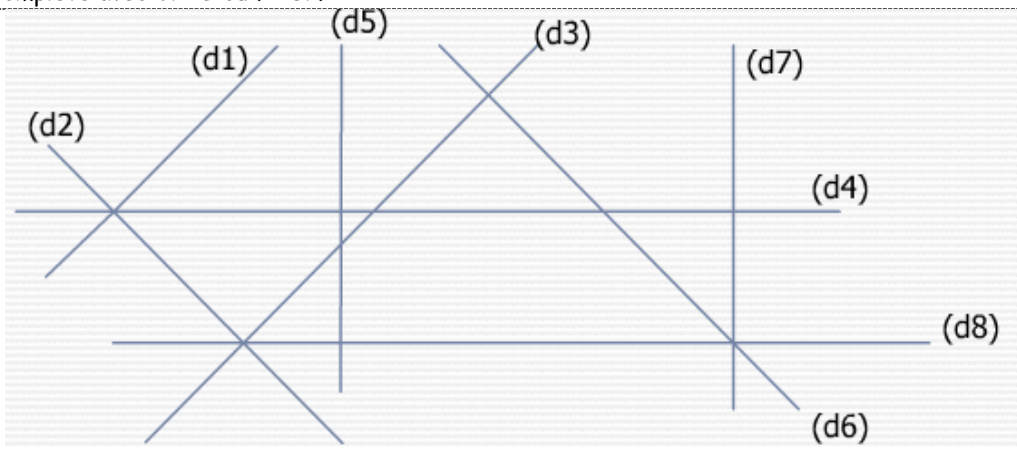


Entraînement 1 Repasse en couleurs les droites qui te semblent parallèles.



Entraînement 2 Complète avec VRAI ou FAUX



- | | | | |
|--|-------|--|-------|
| Les droites (d1) et (d2) sont des droites parallèles : | | Les droites (d2) et (d5) sont des droites sécantes : | |
| Les droites (d1) et (d2) sont des droites perpendiculaires : | | Les droites (d7) et (d4) sont des droites perpendiculaires : | |
| Les droites (d1) et (d3) sont des droites parallèles : | | Les droites (d4) et (d8) sont des droites parallèles : | |
| Les droites (d1) et (d3) sont des droites sécantes : | | Les droites (d6) et (d2) sont des droites parallèles : | |
| Les droites (d1) et (d5) sont des droites parallèles : | | Les droites (d3) et (d6) sont des droites perpendiculaires : | |
| Les droites (d1) et (d5) sont des droites perpendiculaires : | | Les droites (d5) et (d8) sont des droites parallèles : | |

