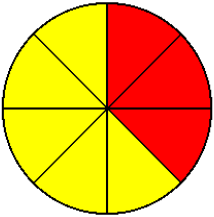
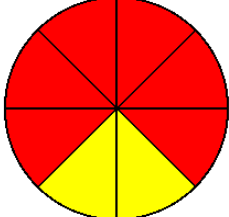
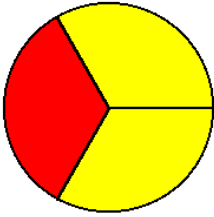
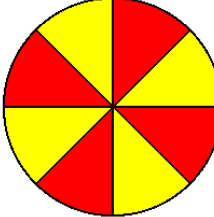
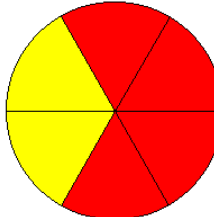
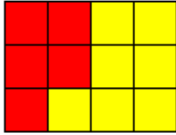
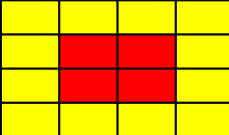
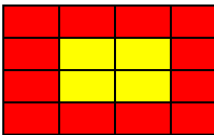

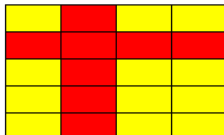
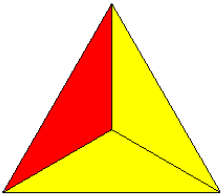
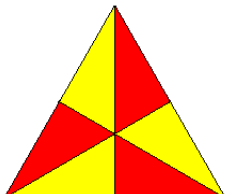
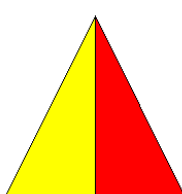
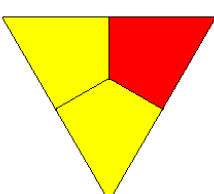
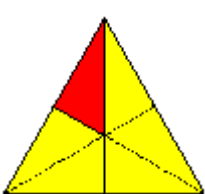

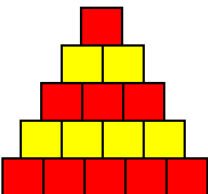
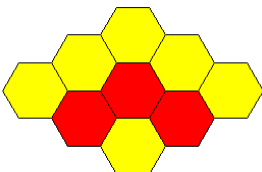
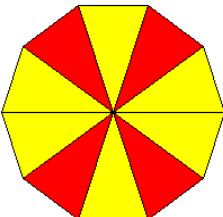
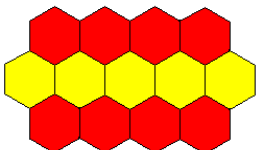


Entraînement 1 :

				
Nombre total de parts : <b>8</b>	Nombre total de parts : .....	Nombre total de parts : .....	Nombre total de parts : .....	Nombre total de parts : .....
Nombre de parts foncées : <b>3</b>	Nombre de parts foncées : .....	Nombre de parts foncées : .....	Nombre de parts foncées : .....	Nombre de parts foncées : .....
Fraction : $\frac{3}{8}$	Fraction : $\frac{.....}{.....}$	Fraction : $\frac{.....}{.....}$	Fraction : $\frac{.....}{.....}$	Fraction : $\frac{.....}{.....}$
				
Nombre total de parts : <b>12</b>	Nombre total de parts : .....	Nombre total de parts : .....	Nombre total de parts : .....	Nombre total de parts : .....
Nombre de parts foncées : <b>5</b>	Nombre de parts foncées : .....	Nombre de parts foncées : .....	Nombre de parts foncées : .....	Nombre de parts foncées : .....
Fraction : $\frac{5}{12}$	Fraction : $\frac{.....}{.....}$	Fraction : $\frac{.....}{.....}$	Fraction : $\frac{.....}{.....}$	Fraction : $\frac{.....}{.....}$
				
Nombre total de parts : .....	Nombre total de parts : .....	Nombre total de parts : .....	Nombre total de parts : .....	Nombre total de parts : .....
Nombre de parts foncées : .....	Nombre de parts foncées : .....	Nombre de parts foncées : .....	Nombre de parts foncées : .....	Nombre de parts foncées : .....
Fraction : $\frac{.....}{.....}$	Fraction : $\frac{.....}{.....}$	Fraction : $\frac{.....}{.....}$	Fraction : $\frac{.....}{.....}$	Fraction : $\frac{.....}{.....}$
				
Fraction :	Fraction :	Fraction :	Fraction :	Fraction :

