

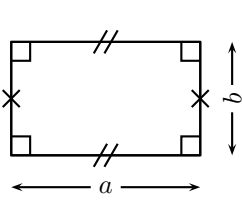
Nom : .....

Prénom : .....

Classe : .....

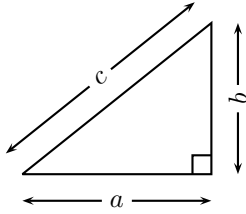
**Exercice 1**

Compléter les formules suivantes :



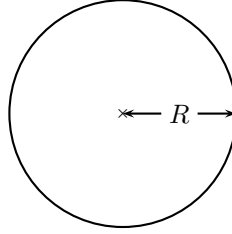
Périmètre

Aire



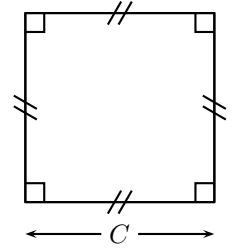
Périmètre

Aire



Périmètre

Aire



Périmètre

Aire

**Exercice 2**

1) Donner les formules d'aire et de périmètre des figures suivantes et faire une figure pour illustrer ses formules.

- a) Un carré
- b) Un rectangle
- c) Un triangle rectangle
- d) Un triangle quelconque

2) Calculer le périmètre et l'aire des figures suivantes :

Figure 1

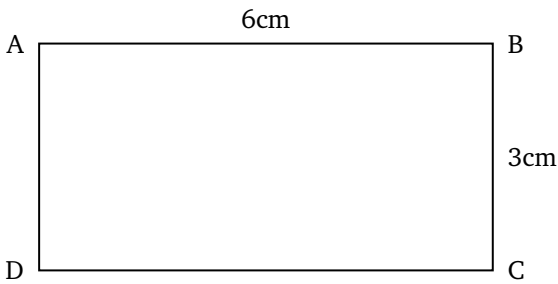
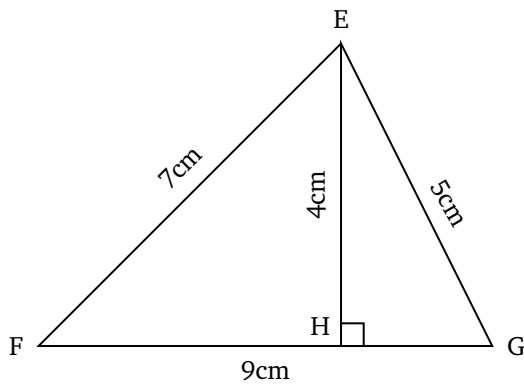


Figure 2



**Exercice 3**

Calculer les volumes des trois solides suivants :

