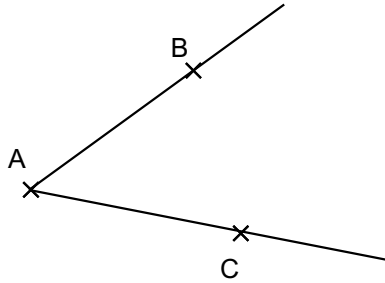
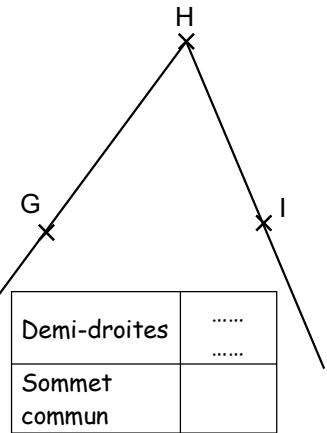
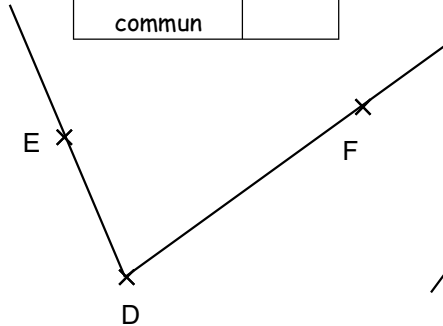


Entraînement 1 : Complète les tableaux

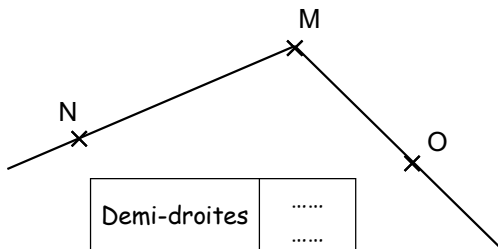
| | |
|---------------|--------------|
| Demi-droites | [AB) [AC) |
| Sommet commun | A |



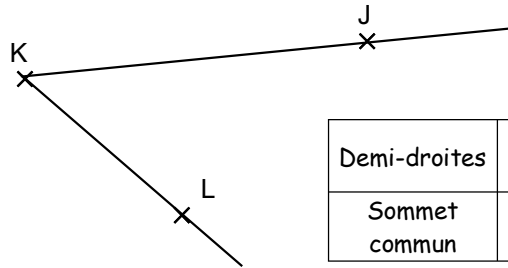
| | |
|---------------|-------|
| Demi-droites | |
| Sommet commun | |



| | |
|---------------|-------|
| Demi-droites | |
| Sommet commun | |

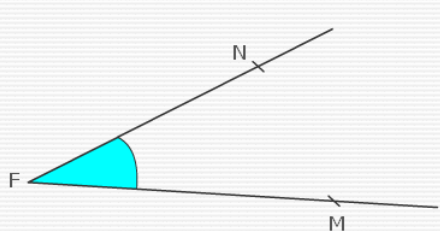


| | |
|---------------|-------|
| Demi-droites | |
| Sommet commun | |

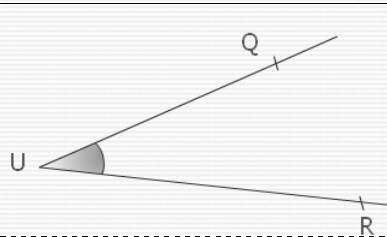


| | |
|---------------|-------|
| Demi-droites | |
| Sommet commun | |

Entraînement 2 : Complète les pointillés avec le bon vocabulaire.

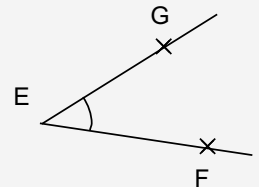


Le point est le **sommet** de l'angle.
Les **demi-droites** et sont les **côtés** de l'angle.



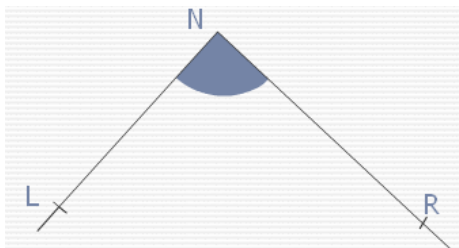
Le point U est le de cet angle.
Les demi-droites [UQ) et [UR) sont les de cet angle

LES ANGLES

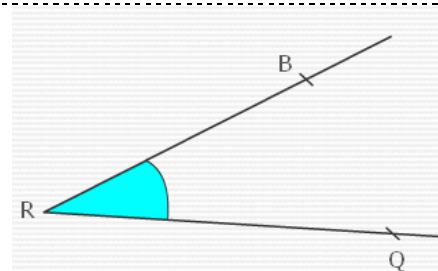


Le point E est le **sommet** de l'angle.
Les **demi-droites** [EG) et [EF) sont les **côtés** de l'angle.

Entraînement 3 : Complète les pointillés



Quel est le sommet de cet angle ?
Quels sont les côtés de cet angle ?



Quel est le sommet de cet angle ?
Quels sont les côtés de cet angle ?

