












Entraînement 1 On a compté le nombre de femmes et d'hommes d'une entreprise

	Femmes 	Hommes 	Total
Effectif			20
En fraction	$\frac{12}{20}$		$\frac{20}{20}$
Ecriture décimale	0,6		1
En pourcentage	60 %		100 %

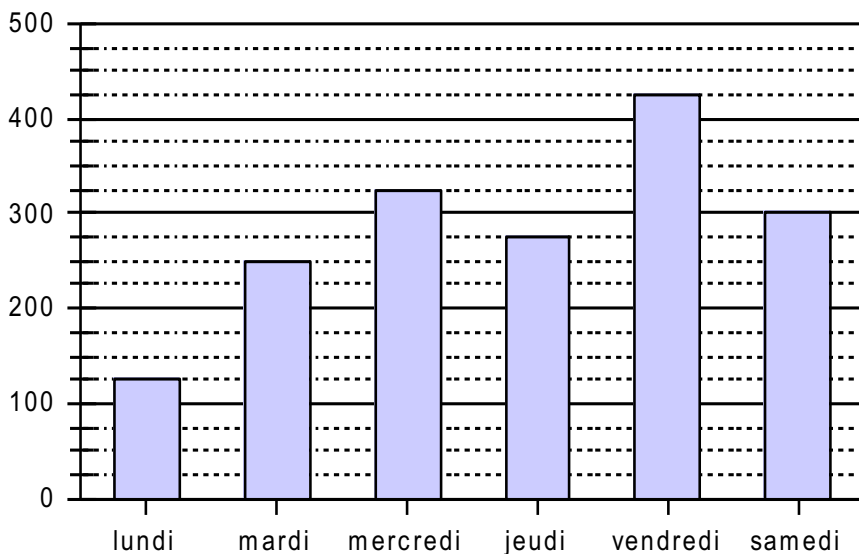


Entraînement 2 Voici les différents types de loisirs utilisés par un groupe de personnes

								Total
Effectif	8							
En fraction	$\frac{8}{40}$							
Ecriture décimale	0,2							
En pourcentage	20 %							



Entraînement 3 Voici les ventes de journaux effectués du lundi au samedi



Semaine	Nombres de journaux vendus	Pourcentage de journaux vendus
Lundi		
Mardi		
Mercredi		
Jeudi		
Vendredi		
Samedi		
Total		

