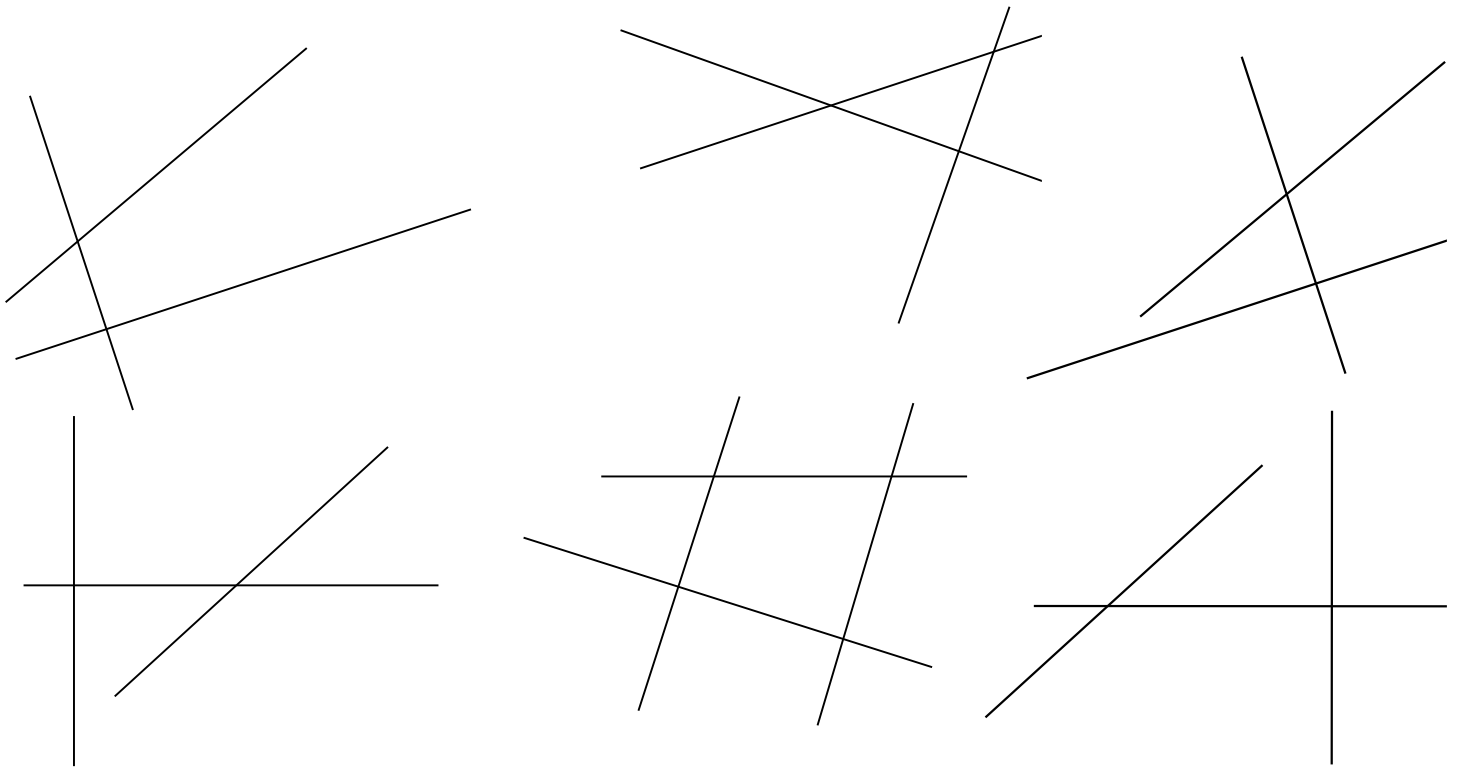

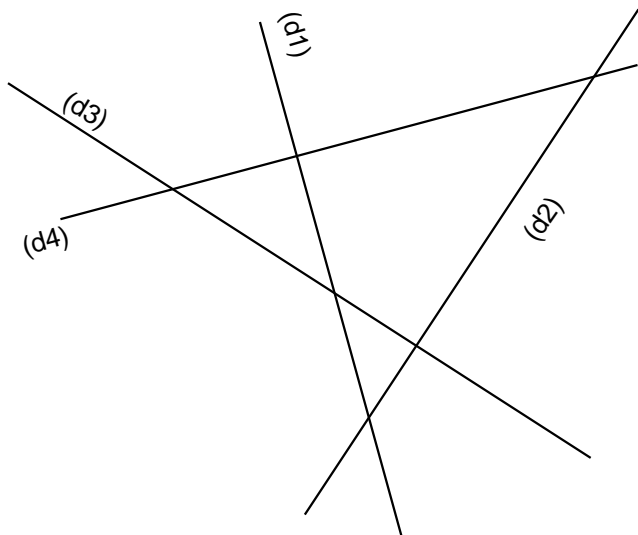
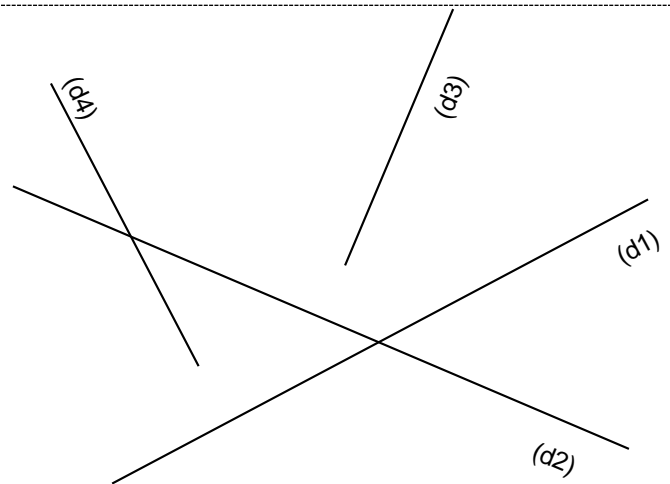
 **Entraînement 1** Retrouve à l'aide de l'équerre les droites perpendiculaires, repasse les en couleur et mets les angles droits.



 **Entraînement 2** Réponds aux questions suivantes à l'aide de ton équerre



- Les droites ( d1 ) et ( d2 ) sont - elles perpendiculaires ? .....
- Les droites ( d1 ) et ( d3 ) sont - elles perpendiculaires ? .....
- Les droites ( d1 ) et ( d4 ) sont - elles perpendiculaires ? .....
- Les droites ( d2 ) et ( d3 ) sont - elles perpendiculaires ? .....
- Les droites ( d2 ) et ( d4 ) sont - elles perpendiculaires ? .....
- Les droites ( d3 ) et ( d4 ) sont - elles perpendiculaires ? .....



- Les droites ( d1 ) et ( d2 ) sont - elles perpendiculaires ? .....
- Les droites ( d1 ) et ( d3 ) sont - elles perpendiculaires ? .....
- Les droites ( d1 ) et ( d4 ) sont - elles perpendiculaires ? .....
- Les droites ( d2 ) et ( d3 ) sont - elles perpendiculaires ? .....
- Les droites ( d2 ) et ( d4 ) sont - elles perpendiculaires ? .....
- Les droites ( d3 ) et ( d4 ) sont - elles perpendiculaires ? .....

