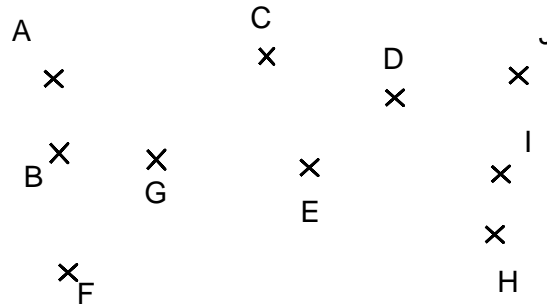


Entraînement 1 : Complète avec les mots : **alignés** ou **non alignés**

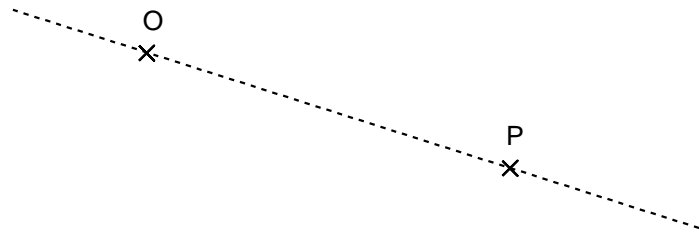


Les points A , B , F sont des points
 Les points C , D , I sont des points
 Les points F , E , J sont des points
 Les points F , E , D sont des points
 Les points I , H , J sont des points

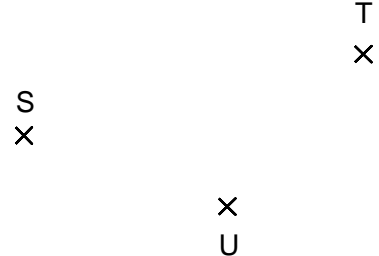
Les points A , G , E sont des points
 Les points E , H , A sont des points
 Les points A , C , D sont des points
 Les points E , G , I sont des points
 Les points C , G , F sont des points

Entraînement 2

Construis 5 points qui sont alignés avec les points O et P.



Construis tous les points qui sont alignés avec les points : U et T.



Entraînement 3

a) Construis tous les points qui sont alignés avec les points :

W et B.



b) Construis tous les points qui sont alignés avec les points :

Y et A.



c) Construis tous les points qui sont alignés avec les points :

A et V.



d) Place le point qui est aligné avec les points W et B et les points Z et Y. Appelle ce point M.

