

Quelle est la probabilité ?




Obtenir une
boule de couleur
verte ?

Quelle est la probabilité ?




Obtenir une
boule qui porte
le numéro 2?

Quelle est la probabilité ?




urne A




urne B

Obtenir une
boule rouge dans
l'urne A ?

Quelle est la probabilité ?



urne A



urne B

Obtenir une
boule qui n'est
pas rouge dans
l'urne B ?

Quelle est la probabilité ?



De tomber sur
cette face quand
on lance la pièce ?

Quelle est la probabilité ?



Obtenir une
couleur bleue ?

Quelle est la probabilité ?



Obtenir une
couleur qui n'est
pas bleue ?

2 Amélie range ses 150 albums de BD par série et elle classe les séries en trois catégories : franco-belges, comics et mangas.

Franco-belges	Comics	Mangas
23 Astérix 22 Tintin 25 Lucky Luke	27 Batman 18 Spider-Man	20 One Piece 15 Naruto

Elle choisit au hasard un album dans sa collection.

Quelle est la probabilité ?

Choisir un album de spider-Man?

2 Amélie range ses 150 albums de BD par série et elle classe les séries en trois catégories : franco-belges, comics et mangas.

Franco-belges	Comics	Mangas
23 Astérix 22 Tintin 25 Lucky Luke	27 Batman 18 Spider-Man	20 One Piece 15 Naruto

Elle choisit au hasard un album dans sa collection.

Quelle est la probabilité ?

Choisir One Piece ou Lucky Luke ?

2 Amélie range ses 150 albums de BD par série et elle classe les séries en trois catégories : franco-belges, comics et mangas.

Franco-belges	Comics	Mangas
23 Astérix 22 Tintin 25 Lucky Luke	27 Batman 18 Spider-Man	20 One Piece 15 Naruto

Elle choisit au hasard un album dans sa collection.

Quelle est la probabilité ?

Choisir un Mangas ?