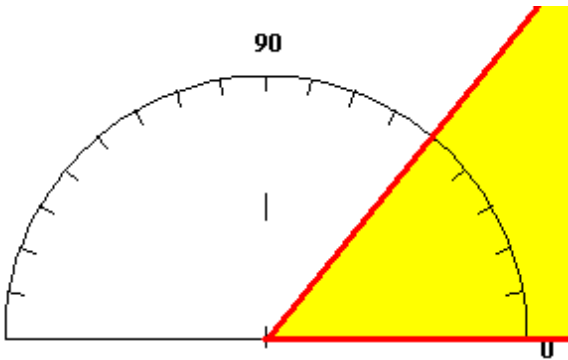
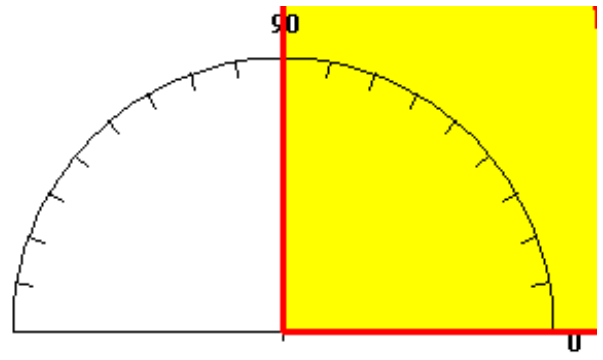


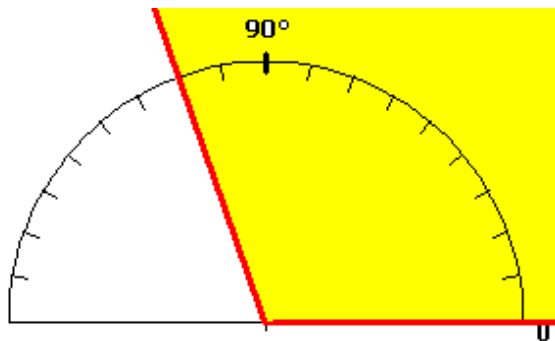
**Entraînement 1** : Complète les cadres par les mots, aigu, obtus, droit, petit, grand.



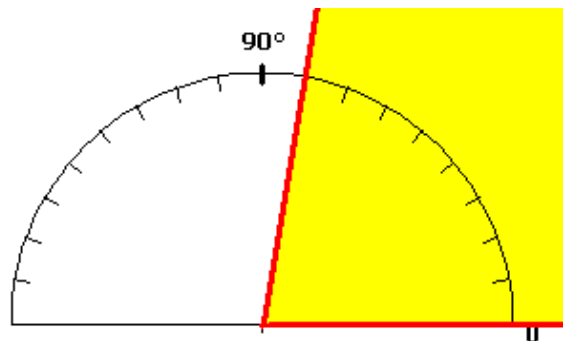
Cet angle est plus petit que  $90^\circ$ ,  
c'est un angle ..... Il mesure  $50^\circ$



Cet angle est égal à  $90^\circ$ ,  
c'est un angle ..... Il mesure .....

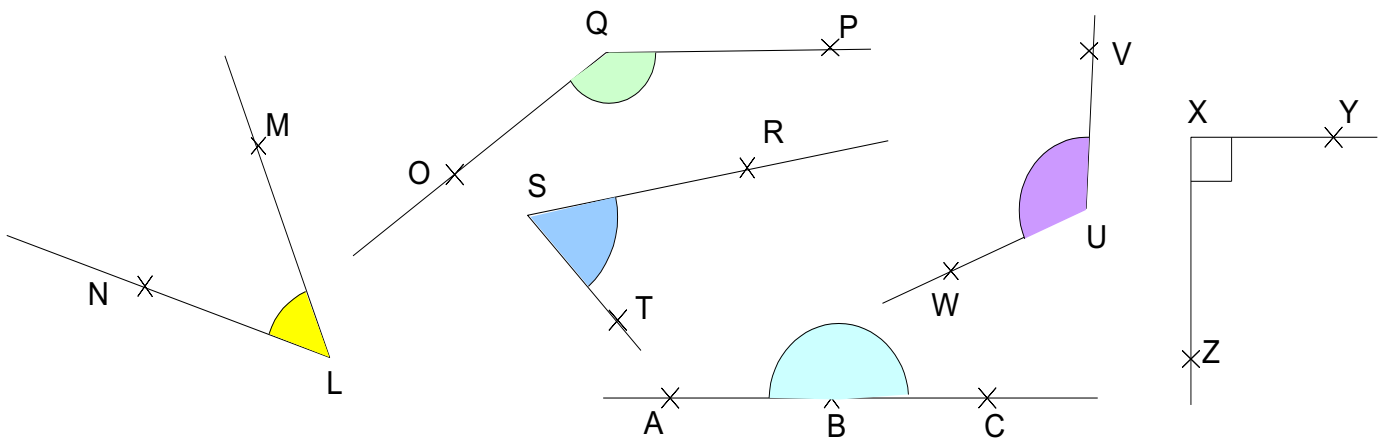


Cet angle est plus ..... que  $90^\circ$ ,  
c'est un angle ..... Il mesure .....



Cet angle est plus ..... que  $90^\circ$ ,  
c'est un angle ..... Il mesure .....

**Entraînement 2** : Dis si les angles suivants sont aigus ou obtus ou droit ou plat.



**Entraînement 3** : Complète le tableau :

Angles	Nature	Angles	Nature	Angles	Nature
$30^\circ$	Aigu	$100^\circ$		$17^\circ$	
$123^\circ$	Obtus	$90^\circ$		$89^\circ$	
$48^\circ$		$136^\circ$		$180^\circ$	

