

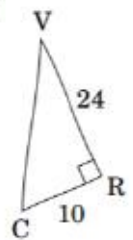
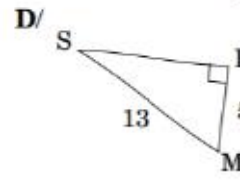
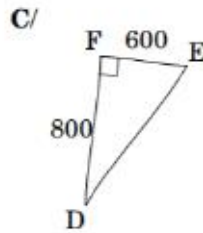
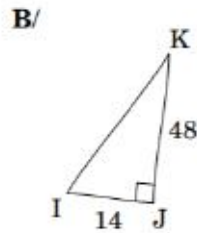
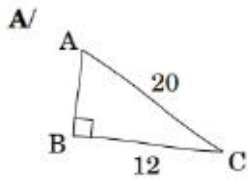
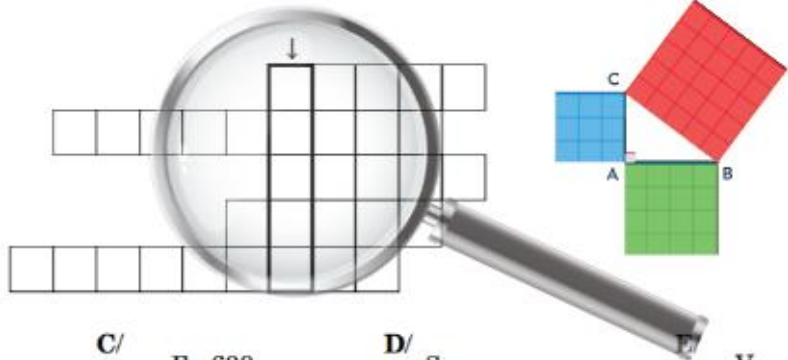
DHC n°..

à rendre avec une feuille ou tu dois détailler le calcul pour chaque triangle

Associe chaque longueur trouvée à son écriture en lettre dans le tableau proposé.
Tu trouveras la ville de naissance de Pythagore.



A
B
C
D
E



DHC n°..

à rendre avec une feuille ou tu dois détailler le calcul pour chaque triangle

Associe chaque longueur trouvée à son écriture en lettre dans le tableau proposé.
Tu trouveras la ville de naissance de Pythagore.



A
B
C
D
E

