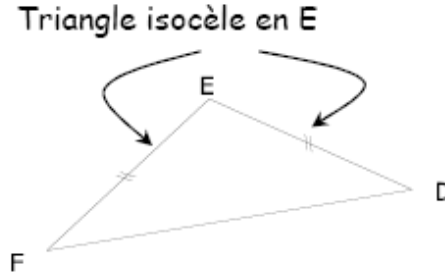
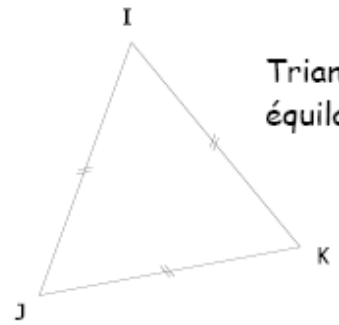


Triangle rectangle en A



Triangle isocèle en E



Triangle équilatéral

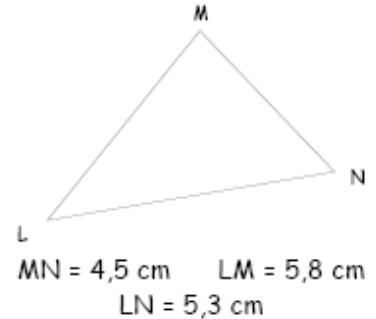
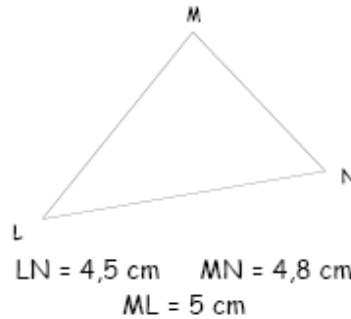
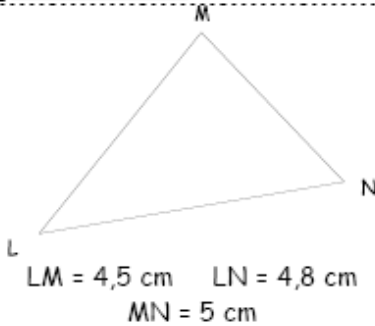
**Entraînement 1** Complète les cadres avec les bons mots

Je suis un triangle qui a deux côtés de même mesure, je suis un triangle : .....

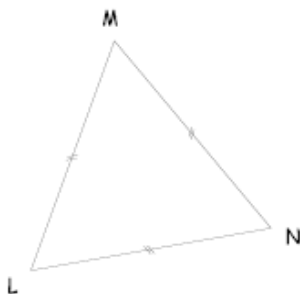
Je suis un triangle qui a un angle droit, je suis un triangle : .....

Je suis un triangle qui a trois côtés de même mesure, je suis un triangle : .....

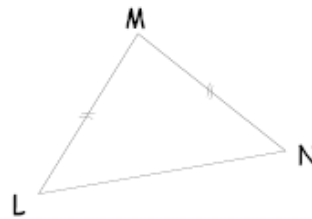
**Entraînement 2** Ecris les mesures sur les triangles ( Les figures ne sont pas en vraies grandeurs )



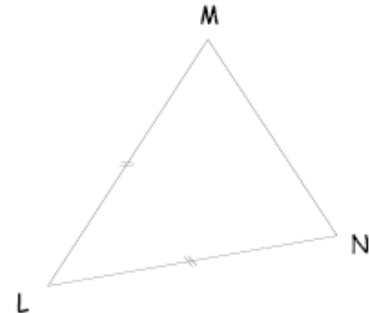
**Entraînement 3** Complète les pointillés ( Les figures ne sont pas en vraies grandeurs )



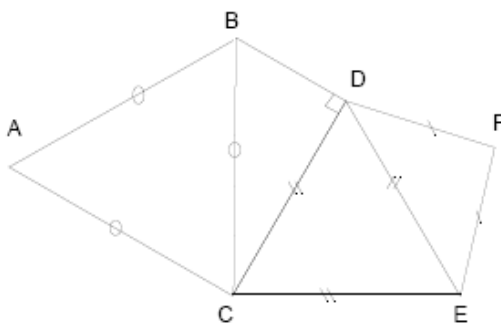
LMN est un triangle .....  
LM = 6 cm LN = ..... cm  
MN = ..... cm



LMN est un triangle ..... en M  
LM = 6 cm LN = 5 cm  
MN = ..... cm



LMN est un triangle ..... en .....  
LM = 4,5 cm MN = 4 cm  
LN = ..... cm



AB = 5 cm CD = 4 cm EF = 3 cm

BC = ..... cm AC = ..... cm CE = ..... cm

DE = ..... cm DF = ..... cm

Le triangle ABC est un triangle .....

Le triangle BDC est un triangle ..... en .....

Le triangle DEC est un triangle .....

Le triangle DFE est un triangle ..... en .....

