







Effectifs, pourcentages

Entraînement 1 On a compté le nombre de femmes et d'hommes d'une entreprise

	Femmes 	Hommes 	Total
Effectif			20
Pour cent			100
En pourcentage	60 %		100 %










Entraînement 2 Voici les différents types de transport utilisés par 25 employés

	Motos 	Voitures 	Bus 	Vélos 	Total
Effectif					25
Pour cent	28				100
En pourcentage					100 %



Entraînement 3 Les élèves d'une classe jettent chacun à leur tour, un dés. On observe la face obtenue.

Face obtenues							Total
Effectif							
Pour 100							



Quelle est la face la plus observée ?

Entraînement 4 On a demandé l'âge des élèves d'une classe de 6^{ème}.

Age des élèves	10	11	12	13	14	15	Total
Effectif							
%							100

10	10	12	11
11	15	12	13
13	14	14	12
10	12	12	15
11	13	15	12
13	10	13	11
15	11	14	11
11	12	10	15

Age des élèves	10 et 11 ans	12 et 13 ans	14 ans et plus	Total
Effectif				
%				

Combien d'élèves ont été interrogés ?

Quel est le pourcentage d'élèves qui ont 13 ans ?

Quel est le pourcentage d'élèves qui ont 12 ou 13 ans ?

