

ПРИЗВИЩЕ, ім'я:

**Тест рівня кінця 6 класу**

Не можна користуватися калькулятором

Писати відповідь на кожне запитання у клітині сірого кольору.

**Числа****1. Розрахувати**

a)  $23 \times 100 =$

b)  $0,03 \times 100 =$

c)  $48 \times 0,1 =$

d)  $61,4 + 20 + 39,6 =$

e)  $18,23 - 13,69 =$

f)  $9 - (4,3 - 2,6) =$

g)  $12 \times \frac{3}{4} =$

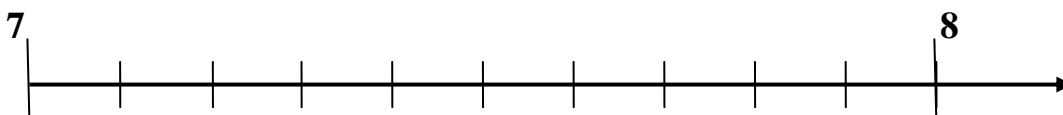
**2. Поставити наступні числа у порядку зростання.**

3,215 ; 0,23 ; 3,22 ; 0,21 ; 0,123

.....

**3. Заповнити наступну таблицю, записавши числа звичайним або десятковим дробом:**

Звичайний дріб	$\frac{45}{10}$			$\frac{9551}{1000}$
Десятковий дріб		5,81	6,3	

**4. Розташувати числа на осі координат.** $\frac{72}{10}$    7,1    $\frac{76}{10}$    7,9

5. У ресторані « Затишок » пляшка води коштує 2,50 €, а кава 2,20 €, але нам невідома вартість комплексного обіду.

а) Заповніть клітини сірого кольору:

За 5 € можна купити  пляшок води.

Якщо ми купимо 5 чашок кави, ми заплатимо  €.

б) Клієнти замовили 5 чашок кави, 2 пляшки води та 5 комплексних обідів. За все вони заплатили 76€.

- Розрахуйте, скільки потрібно заплатити за 5 комплексних обідів:

Розрахунок

5 комплексних обідів коштують:

- Розрахувати вартість одного комплексного обіду:

Розрахунок

Комплексний обід коштує :

6. У класі 25 учнів,  $\frac{2}{5}$  учнів носять окуляри.

а) Розрахувати, скільки учнів носять окуляри.

Розрахунок

Число учнів, що носять окуляри

б) 48% учнів класу – дівчата. Розрахувати, скільки у класі дівчат

Розрахунок

У класі  дівчат

с) Розрахувати, скільки у класі хлопців.

Розрахунок

У класі  хлопців

7. Щоб випекти хліба на 8 осіб, використовують 240 гр борошна.

а) Яку кількість борошна використають для 4 осіб?

Розрахунок

Використають  борошна

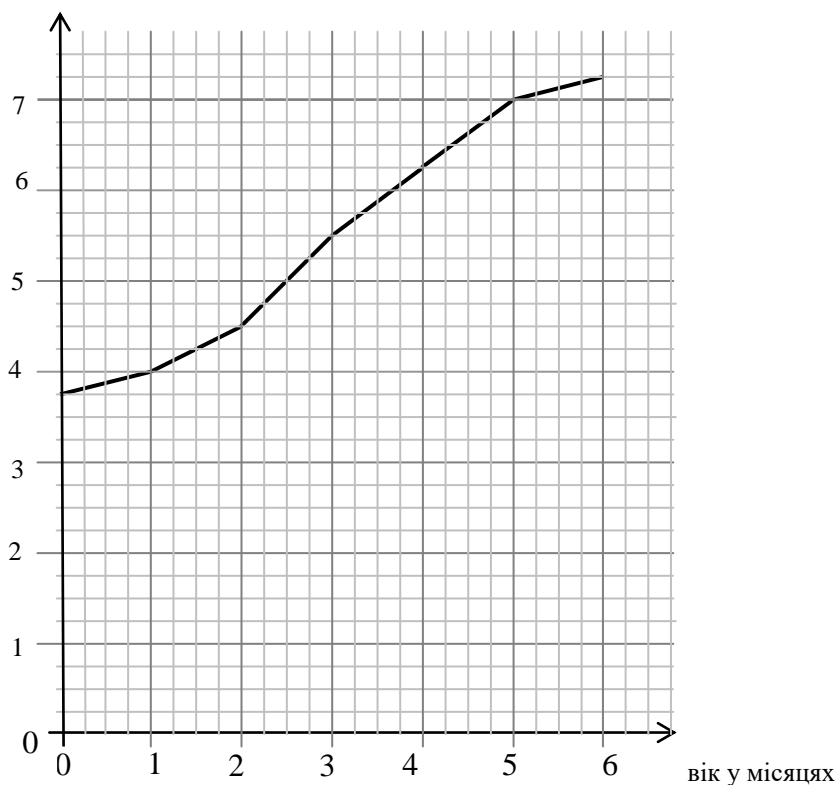
б) Скільки борошна використають для 6 осіб?

Розрахунок

Використають  борошна

8. Ось крива ваги немовляти в залежності від його віку у місяцях

Вага у кг



Використовуючи графік, доповніть наступні фрази:



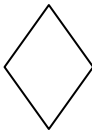

а) Вага немовляти в один місяць складає

б) Коли немовля важить 5,5 кг, його вік складає

в) Вага немовляти за 6 місяців збільшилась на

## Геометрія

9. Заповніть таблицю, використовуючи V, щоб сказати *правильно* або F щоб сказати *неправильно*.

фігури	протилежні сторони паралельні	чотири сторони однакової довжини	фігура має щонайменше один прямий кут	діагоналі однакової довжини
 прямокутник				
 квадрат				
 ромб				
 паралелограм				

10. Накреслити для кожної з фігур фігуру симетричну їй відносно чорної лінії.

