


Les nombres de 0 à 99

1. 👁 Je lis les nombres
 2. ? Je dis le nombre qui vient avant
 3. ? Je dis le nombre qui vient après
 4. ✍ J'écris les nombres en lettres
 5. ✍ Je décompose les nombres : $54 = 50 + 4$



A. 86 - 72 - 39 - 41 - 80


B. 76 - 38 - 63 - 85 - 47

C. 98 - 57 - 83 - 72 - 30

D. 93 - 72 - 94 - 48 - 67

Les nombres de 0 à 99

1. 👁 Je lis les nombres
 2. ? Je dis le nombre qui vient avant
 3. ? Je dis le nombre qui vient après
 4. ✍ J'écris les nombres en lettres
 5. ✍ Je décompose les nombres : $54 = 50 + 4$



A. 86 - 72 - 39 - 41 - 80


B. 76 - 38 - 63 - 85 - 47

C. 98 - 57 - 83 - 72 - 30

D. 93 - 72 - 94 - 48 - 67

Les nombres de 0 à 99

1. 👁 Je lis les nombres
 2. ? Je dis le nombre qui vient avant
 3. ? Je dis le nombre qui vient après
 4. ✍ J'écris les nombres en lettres
 5. ✍ Je décompose les nombres : $54 = 50 + 4$



A. 86 - 72 - 39 - 41 - 80


B. 76 - 38 - 63 - 85 - 47

C. 98 - 57 - 83 - 72 - 30

D. 93 - 72 - 94 - 48 - 67

Les nombres de 0 à 99

1. 👁 Je lis les nombres
 2. ? Je dis le nombre qui vient avant
 3. ? Je dis le nombre qui vient après
 4. ✍ J'écris les nombres en lettres
 5. ✍ Je décompose les nombres : $54 = 50 + 4$



A. 86 - 72 - 39 - 41 - 80

B. 76 - 38 - 63 - 85 - 47

C. 98 - 57 - 83 - 72 - 30

D. 93 - 72 - 94 - 48 - 67