






Les nombres de 0 à 50

1.  Je lis les nombres
2.  Je dis le nombre qui vient avant
3.  Je dis le nombre qui vient après
4.  J'écris les nombres en lettres
5.  Je décompose ($25 = 20 + 5$)






A. $34 - 16 - 28 - 33 - 26$

B. $13 - 9 - 21 - 30 - 37$

C. $42 - 17 - 25 - 38 - 7$

D. $6 - 15 - 46 - 29 - 32$

Les nombres de 0 à 50

1.  Je lis les nombres
2.  Je dis le nombre qui vient avant
3.  Je dis le nombre qui vient après
4.  J'écris les nombres en lettres
5.  Je décompose ($25 = 20 + 5$)






A. $34 - 16 - 28 - 33 - 26$

B. $13 - 9 - 21 - 30 - 37$

C. $42 - 17 - 25 - 38 - 7$

D. $6 - 15 - 46 - 29 - 32$

Les nombres de 0 à 50

1.  Je lis les nombres
2.  Je dis le nombre qui vient avant
3.  Je dis le nombre qui vient après
4.  J'écris les nombres en lettres
5.  Je décompose ($25 = 20 + 5$)






A. $34 - 16 - 28 - 33 - 26$

B. $13 - 9 - 21 - 30 - 37$

C. $42 - 17 - 25 - 38 - 7$

D. $6 - 15 - 46 - 29 - 32$

Les nombres de 0 à 50

1.  Je lis les nombres
2.  Je dis le nombre qui vient avant
3.  Je dis le nombre qui vient après
4.  J'écris les nombres en lettres
5.  Je décompose ($25 = 20 + 5$)

A. $34 - 16 - 28 - 33 - 26$

B. $13 - 9 - 21 - 30 - 37$

C. $42 - 17 - 25 - 38 - 7$

D. $6 - 15 - 46 - 29 - 32$