
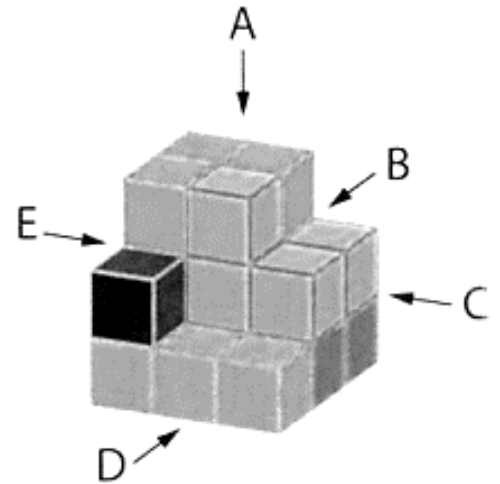



Fiche 2 : Les différentes « vues » d'un solide

Séquence : Les solides


Exemple : Autour de la composition ci-contre, on a indiqué la position de cinq observateurs. Relier chaque représentation à sa vue, parmi les propositions ci-dessous :




①




②



③



④



⑤

A
(vue de dessus)

B
(vue de derrière)


C
(vue de droite)

D
(vue de face)

E
(vue de gauche)

Exercice : Représente les différentes vues (de dessus, de droite, de gauche, de devant et de derrière) de chaque assemblage, puis donne le nombre de cubes qui les constitue.

①



②

