

Exercice de géométrie plane

Exercice 1 : Le matériel autorisé est une **bande papier** et la règle **non gradué**.

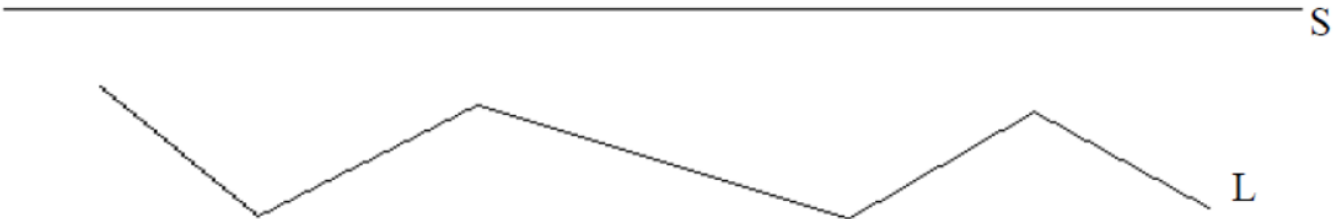
Attention : Vous ne devez **rien** mesurer avec votre règle.



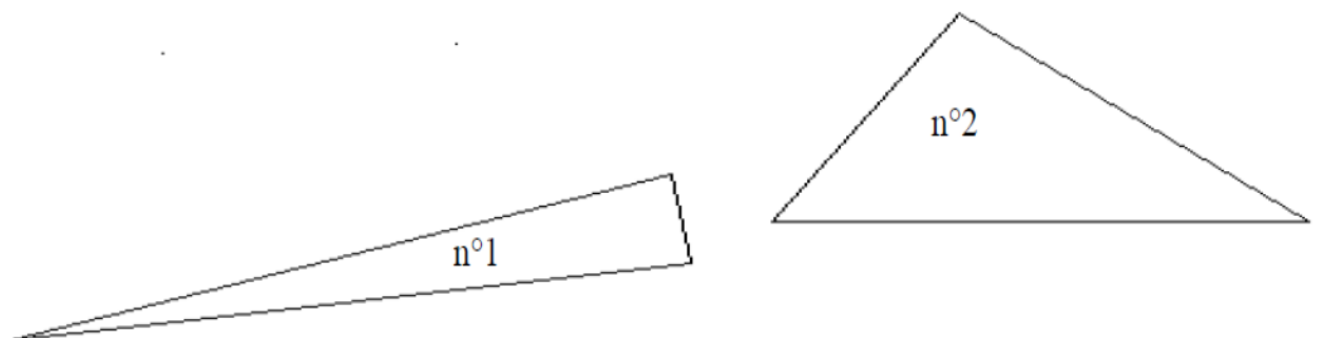
a. Dessine un segment de la même longueur que le segment [AB].

b. Dessine un segment ayant une longueur double de celle du segment [AB].

Exercice 2 : Qui est le plus long, la ligne L ou le segment S ?



Exercice 3 : Parmi ces deux triangles, quel est celui qui a le plus grand périmètre ?



Exercice de géométrie plane

Exercice 1 : Le matériel autorisé est une **bande papier** et la règle **non gradué**.

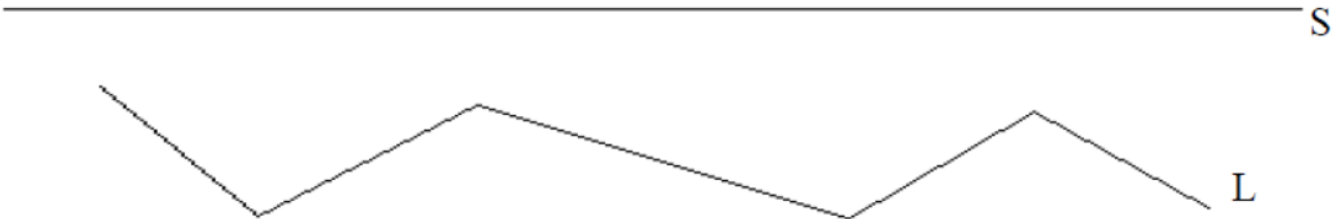
Attention : Vous ne devez **rien** mesurer avec votre règle.



c. Dessine un segment de la même longueur que le segment [AB].

d. Dessine un segment ayant une longueur double de celle du segment [AB].

Exercice 2 : Qui est le plus long, la ligne L ou le segment S ?



Exercice 3 : Parmi ces deux triangles, quel est celui qui a le plus grand périmètre ?

