



Mets le plus grand dans ta tête et le plus petit sur tes doigts et additionne les



$$14 + 8 =$$



Mets le plus grand dans ta tête et le plus petit sur tes doigts et additionne les



$$15 + 9 =$$



Mets le plus grand dans ta tête et le plus petit sur tes doigts et additionne les



$$14 + 7 =$$



Mets le plus grand dans ta tête et le plus petit sur tes doigts et additionne les



$$12 + 9 =$$



Mets le plus grand dans ta tête et le plus petit sur tes doigts et additionne les



$$13 + 9 =$$



Mets le plus grand dans ta tête et le plus petit sur tes doigts et additionne les



$$12 + 8 =$$



Mets le plus grand dans ta tête et le plus petit sur tes doigts et additionne les



$$19 + 6 =$$



Mets le plus grand dans ta tête et le plus petit sur tes doigts et additionne les



$$18 + 7 =$$



Mets le plus grand dans ta tête et le plus petit sur tes doigts et additionne les



$$17 + 6 =$$



Mets le plus grand dans ta tête et le plus petit sur tes doigts et additionne les



$$18 + 5 =$$



Mets le plus grand dans ta tête et le plus petit sur tes doigts et additionne les



$$19 + 4 =$$



Mets le plus grand dans ta tête et le plus petit sur tes doigts et additionne les




$$18 + 6 =$$





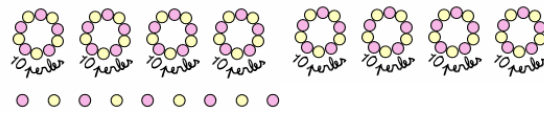
Trouve le nombre représenté par cette décomposition



Ce1



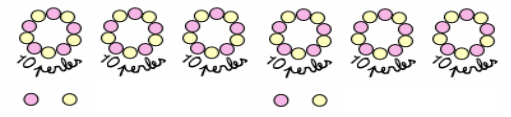
Trouve le nombre représenté par cette décomposition



Ce1



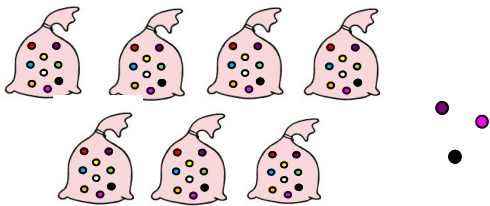
Trouve le nombre représenté par cette décomposition



Ce1



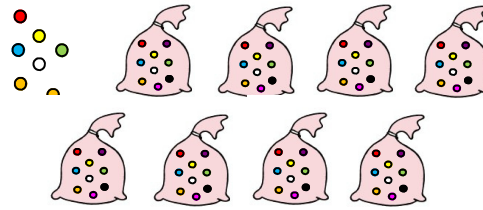
Trouve le nombre représenté par cette décomposition



Ce1



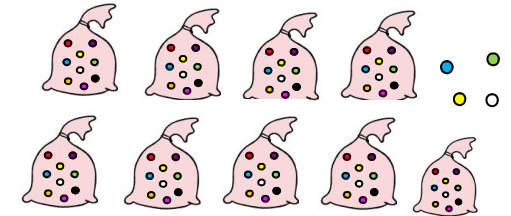
Trouve le nombre représenté par cette décomposition



Ce1



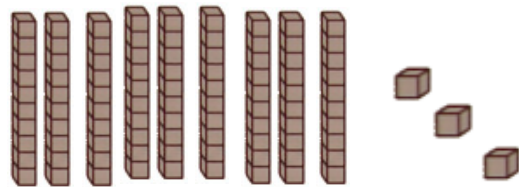
Trouve le nombre représenté par cette décomposition



Ce1



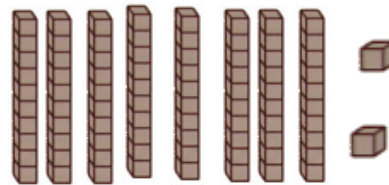
Trouve le nombre représenté par cette décomposition



Ce1



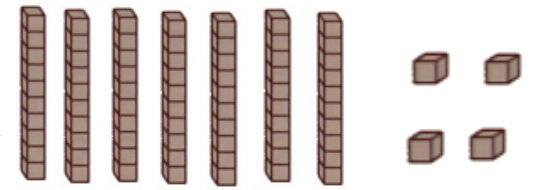
Trouve le nombre représenté par cette décomposition



Ce1



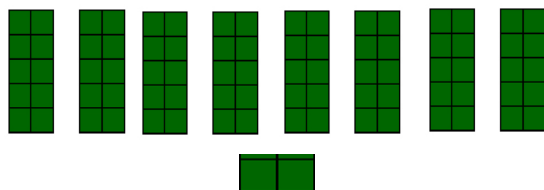
Trouve le nombre représenté par cette décomposition



Ce1




Trouve le nombre représenté par cette décomposition



Ce1



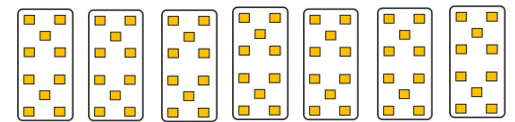
Trouve le nombre représenté par cette décomposition



Ce1



Trouve le nombre représenté par cette décomposition



Ce1



Donne 4 nombres que l'on peut écrire avec au moins 2 de ces mots



dix
huit
soixante
cinq



Donne 4 nombres que l'on peut écrire avec au moins 2 de ces mots



dix
vingt
quatre
sept



Donne 4 nombres que l'on peut écrire avec au moins 2 de ces mots



dix
six
cent
cinq



Donne 4 nombres que l'on peut écrire avec au moins 2 de ces mots



onze
vingt
quatre
cinq



Donne 4 nombres que l'on peut écrire avec au moins 2 de ces mots



treize
soixante
huit
trente



Donne 4 nombres que l'on peut écrire avec au moins 2 de ces mots



deux
seize
cent
un



Donne 4 nombres que l'on peut écrire avec au moins 2 de ces mots



sept
soixante
cinquante
deux



Donne 4 nombres que l'on peut écrire avec au moins 2 de ces mots



dix
soixante
vingt
quatre



Donne 4 nombres que l'on peut écrire avec au moins 2 de ces mots



cent
soixante
quinze
treize



Donne 4 nombres que l'on peut écrire avec au moins 2 de ces mots



quarante
trente
neuf
trois



Donne 4 nombres que l'on peut écrire avec au moins 2 de ces mots



dix
soixante
cent
cinq



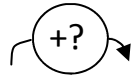
Donne 4 nombres que l'on peut écrire avec au moins 2 de ces mots



neuf
cinquante
huit
cent



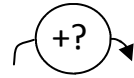
Observe cette suite de nombres et
poursuis la



75	77	79	81	?	?
----	----	----	----	---	---



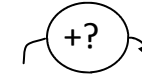
Observe cette suite de nombres et
poursuis la



83	86	89	92	?	?
----	----	----	----	---	---



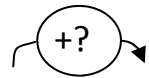
Observe cette suite de nombres et
poursuis la



210	215	220	225	?	?
-----	-----	-----	-----	---	---



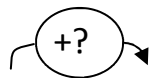
Observe cette suite de nombres et
poursuis la



99	102	105	108	?	?
----	-----	-----	-----	---	---



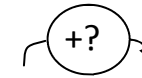
Observe cette suite de nombres et
poursuis la



220	223	226	229	?	?
-----	-----	-----	-----	---	---



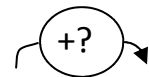
Observe cette suite de nombres et
poursuis la



920	925	930	935	?	?
-----	-----	-----	-----	---	---



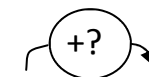
Observe cette suite de nombres et
poursuis la



120	130	140	150	?	?
-----	-----	-----	-----	---	---



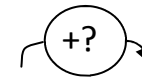
Observe cette suite de nombres et
poursuis la



538	540	542	544	?	?
-----	-----	-----	-----	---	---



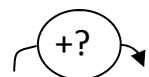
Observe cette suite de nombres et
poursuis la



312	322	332	342	?	?
-----	-----	-----	-----	---	---



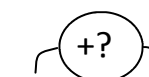
Observe cette suite de nombres et
poursuis la



350	353	356	359	?	?
-----	-----	-----	-----	---	---



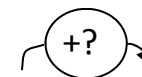
Observe cette suite de nombres et
poursuis la



740	745	750	755	?	?
-----	-----	-----	-----	---	---



Observe cette suite de nombres et
poursuis la



461	463	465	467	?	?
-----	-----	-----	-----	---	---





Montre le plus grand et le plus petit



Ce1 200 - 155 - 190 - 110



Montre le plus grand et le plus petit



Ce1 200 - 155 - 190 - 110



Montre le plus grand et le plus petit



Ce1 433 - 555 - 193 - 620



Montre le plus grand et le plus petit



Ce1 500 - 450 - 390 - 170



Montre le plus grand et le plus petit



Ce1 500 - 450 - 390 - 170



Montre le plus grand et le plus petit



Ce1 377 - 412 - 389 - 570



Montre le plus grand et le plus petit



Ce1 240 - 370 - 520 - 190



Montre le plus grand et le plus petit



Ce1 240 - 370 - 520 - 190



Montre le plus grand et le plus petit



Ce1 111 - 884 - 720 - 964



Montre le plus grand et le plus petit



Ce1 970 - 630 - 310 - 470



Montre le plus grand et le plus petit



Ce1 970 - 630 - 310 - 470



Montre le plus grand et le plus petit



Ce1 675 - 563 - 719 - 667



Montre devant toi le nombre de
loups demandés

Ce1

135



Montre devant toi le nombre de
loups demandés

Ce1

246



Montre devant toi le nombre de
loups demandés

Ce1

378



Montre devant toi le nombre de
loups demandés

Ce1

583



Montre devant toi le nombre de
loups demandés

Ce1

649



Montre devant toi le nombre de
loups demandés

Ce1

760



Montre devant toi le nombre de
loups demandés

Ce1

651



Montre devant toi le nombre de
loups demandés

Ce1

252



Montre devant toi le nombre de
loups demandés

Ce1

933



Montre devant toi le nombre de
loups demandés

Ce1

376



Montre devant toi le nombre de
loups demandés

Ce1

291



Montre devant toi le nombre de
loups demandés

Ce1

362

