


NAAM :	KLASNDR:.....	KLAS : 1A immersie	PUNTEN
VOORNAAM :		DATUM :	/70
	EXAMEN MILIEUSTUDIE (EDM)	MEVR. LUYTS	<input type="text" value="/40"/>

**EEN WOONOMGEVING IN DE STAD EN OP HET PLATTELAND +
TECHNISCHE FICHES**

/15

DEEL 1: WONEN IN EEN STAD

↪ ANALYSEER zelf een andere stad:

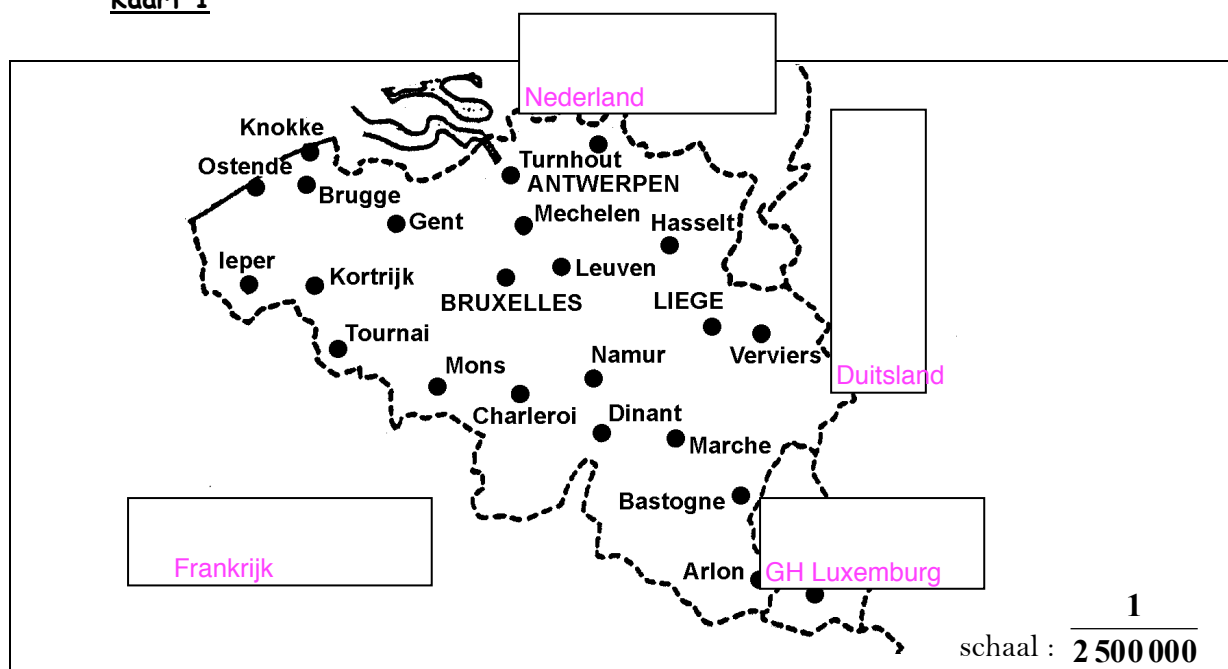


1) SITUEER LEUVEN

a. Vul de buurlanden van België in op kaart 1.

/4

Kaart 1



b. Antwoord op de vragen over LEUVEN op de volgende 3 kaarten:
/6

◇ Op kaart 2: Noem de **provincie**. Kleur die provincie.

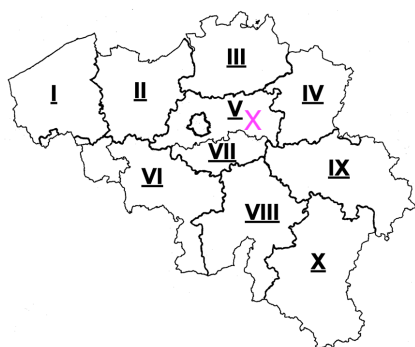
◇ Op kaart 3: Noem de **gemeenschap**. Kleur die gemeenschap.

◇ Op kaart 4: Noem het **gewest**. Kleur het gewest.

kaart 2

naam van de provincie :

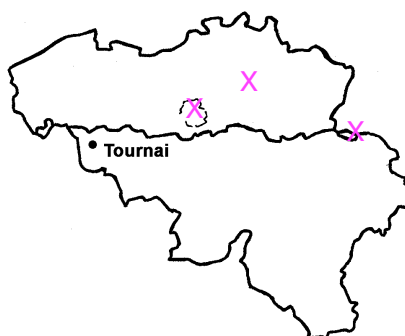
Vlaams-Brabant



kaart 3

naam van de gemeenschap :

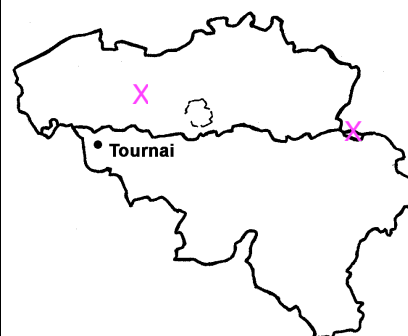
Vlaamse gemeenschap



kaart 4

naam van het gewest :

Vlaams gewest



c. Met kaart 2, vul de tabel in.

/5

	Provincie	Hoofdstad
IX	Luik	Luik
II	Oost-Vlaanderen	Gent
VI	Henegouwen	Bergen
III	Antwerpen	Antwerpen
X	Luxemburg	Aarlen

2) HET ONTSTAAN VAN LEUVEN

Analyseer de documenten 1+2 en antwoord daarna op de vragen p. 4.

DOC. 1

“Al in de 9de eeuw wordt Leuven (Luvanium of Loven) in teksten vermeld (*mentionné*), met de inval van de Noormannen (*invasion des Vikings*). Toen is Leuven een kampplaats (*camps*) in het moeras (*marais*) bij een bos. (Lo = bos en ven = moeras).

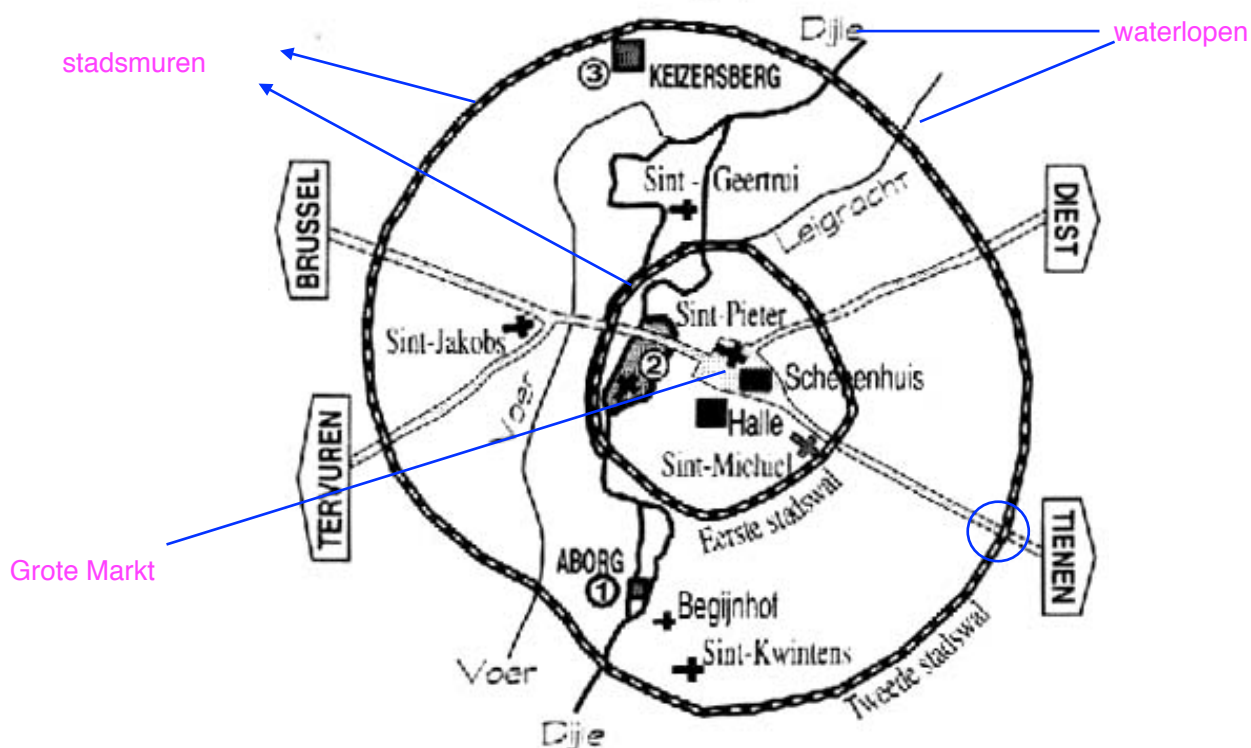
De graaf (*comte*) Lambert “met de baard” bouwt in de 11^{de} eeuw een burcht (*un château fort*) op een eiland (*île*) in de rivier de Dijle. Leuven heeft ook een goede ligging aan de oevers (*rives*) van de Dijle en aan de landweg van Brugge naar Keulen. Om de stad beter te beschermen (*protéger*) wordt rond 1160 de oude burcht vervangen (*remplacé*) door een stenen stadsmuur (*rempart*).

In de 12^{de}-13^{de} eeuw bloeit (*prospérer*) de stad: vishal, broodhuis, vleeshuis en graanhal. De bevolking groeit! Een aantal nieuwe kerken en kapellen worden gebouwd en een tweede stadsmuur wordt gebouwd.”

DOC. 2

LEUVEN IN DE 14DE EEUW

- ① ABORG, oudste site van Leuven
- ② 's HERTOGENEILAND: grafelijke burcht tot 1233
- ③ KEIZERSBERG: hertogelijke burcht 1233-67



a. Welk soort bron is Doc. 1? Omcirkel: Geschreven bron / Ongeschreven bron /1

b. Omcirkel: Leuven ontstaat in de : middeleeuwen / oudheid / nieuwe tijd /1

c. Plaats op de tijdlijn:

/2

1. de referentiedatum van de christelijke tijdlijn

2. de historische periode van het ontstaan van Leuven in het groen

d. Geef de begindatum en de einddatum van de groene periode (2.): /1

van 476 tot 1453

e. Welk millenium is de groene periode? 1ste en 2de millenium

/1



f. Op het plan DOC. 2 van middeleeuws Leuven: /4

- Kleur de waterlopen blauw.
- Kleur de Grote Markt groen. (kijk ook op doc. 3)
- Kleur de stadsmuren geel.
- Omcirkel één stadspoort.

g. Waarom is de stad Leuven daar ontstaan? (pourquoi à cet endroit?) (zie DOC. 1+2) /3

- * waterwegen
- * landwegen
- * burcht

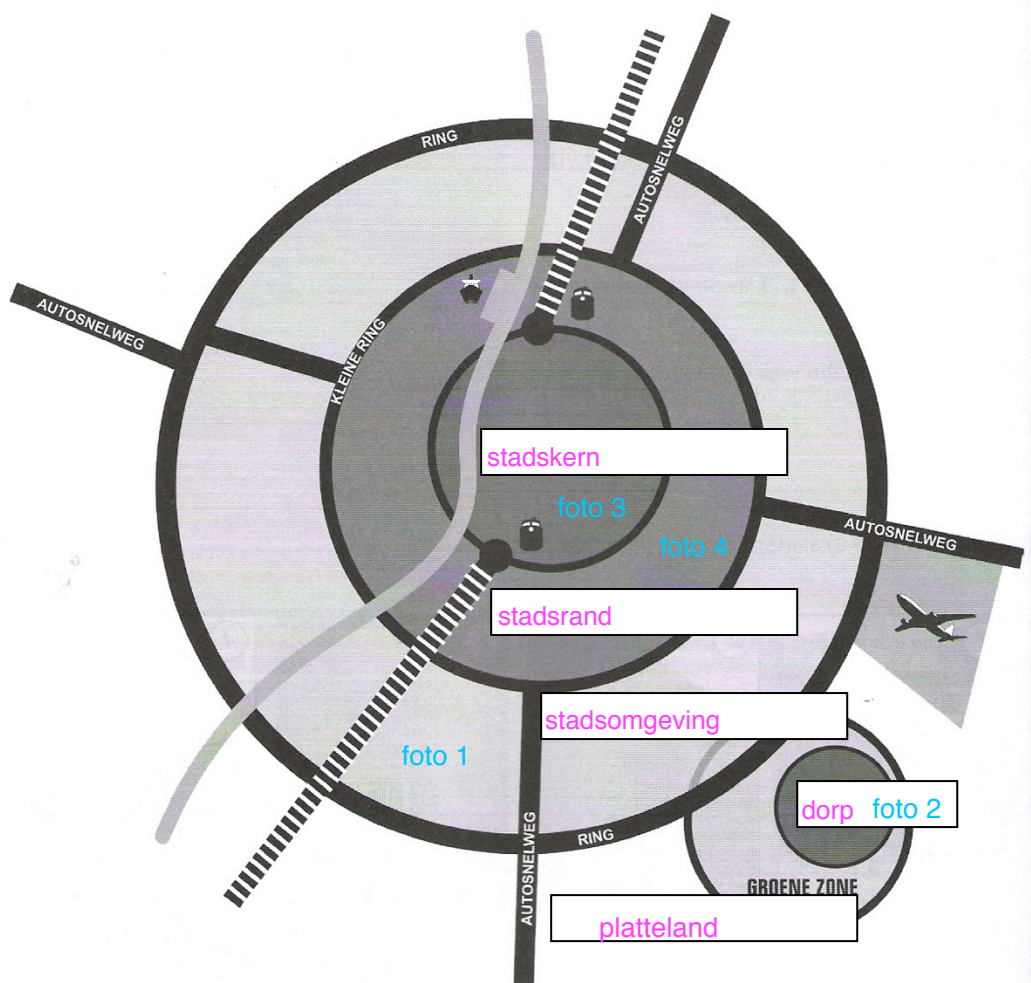
h. Wat is de functie van een stadsmuur? /1

..... bescherming tegen invallen

i. Waardoor (par quoi?) is de laatste stadsmuur van Doornik vervangen (remplacé)? /1

..... door boulevards

- c. Dit is een schema van een denkbeeldige (imaginaire) Europese stad: /5
 → *Vul de kaders in.*



- d. Plaats de nummers van de foto's op de schema.

/4



foto 1



foto 2



foto 3



foto 4

d. Zet in de juiste kolom:

/3

Grote Markt / open bebouwing met groen / arbeidershuis / stadhuis / herenhuis / villa.

de binnenstad (stadskern en stadswijken)	Grote Markt stadhuis (herenhuis)
de stadsrand	herenhuis arbeidershuis
de stadsomgeving	villa open bebouwing

e. Bevolkingsdichtheid van Leuven:

Bereken de bevolkingsdichtheid van de stad Leuven (2008):

/2

<p>oppervlakte: 56,63 km² bevolking: 92 704</p> <p>bevolkingsdichtheid = 1637, 01 inw/km²</p>

/12

4) STRAATANALYSE EN FUNCTIE VAN DE GEBOUWEN IN LEUVENFoto 1: Diestsestraat (20^{ste} eeuw)

Foto 2: Diestsestraat (vroeger)

- Uit welke eeuw dateert het witte huis op foto 2?..... XIV de eeuw /1
- Wat is de **begindatum** en de **einddatum** van die eeuw? 1301-1400 /2
- Welke **historische periode** is dit? de middeleeuwen /1
- Welk **soort bron** is foto 1? iconografische bron /1
- **Analyseer de Diestsestraat met de analysetabel.** /7



☒ De openbare weg, het verkeer en de weggebruikers

<i>Tracé van de straat</i>	recht
<i>Breedte van de straat</i>	smal
<i>Aard van de weg (gebruikte materialen)</i>	kasseien
<i>Reliëf</i>	vlak
<i>Richting van het verkeer</i>	geen
<i>Parkeerplaats</i>	geen
<i>Plaats voor de voetgangers</i>	veel, voetgangerszone
<i>Plantengroei</i>	geen

☒ De gebouwen

<i>Gebruikte materialen</i>	baksteen, natuursteen, beton
<i>Schikking van de gebouwen</i>	rijbebouwing
<i>Geef 1 functie voor de gebouwen op de foto</i>	woonfunctie, commerciële functie
<i>Geef 1 andere functie gezien in de cursus</i>	openbare functie, religieuze functie, schoolfunctie, ...

☒ Hoofdfunctie van de ruimte

<i>Ambiance van de straat</i>	tamelijk druk
<i>Hoofdfunctie van de straat</i>	commerciële functie

/7

DEEL 2: WONEN IN EEN ANDERE OMGEVING

↪ ANALYSEER deze woonomgeving:

SAINT-MAUR

1) LANDSCHAPSANALYSE

- Observeer de gebouwen en de woningen in Saint-Maur.
- Welk milieutype is St-Maur?
- Leg uit met 2 kenmerken (*caractéristiques*). Is het kenmerk een menselijk of natuurlijk landschapselement?


Soort milieu: landelijk milieu of landbouwlandschap

Kenmerken:

1. akkers: landschapselement = menselijk
2. dorp: landschapselement = menselijk

2) SAINT-MAUR

Document: Gravure van Saint-Maur uit de 17^{de} eeuw.



a. Wie is de auteur? (= *idem* de gravure van Doornik)

..... Charles de Croÿ

b. In welk jaar (wanneer) begint de 17^{de} eeuw?

..... 1601

c. Welk historische periode is de 17^{de} eeuw? Omcirkel het juiste antwoord.

middeleeuwen / oudheid / nieuwe tijd / prehistorie / eigen tijd / nieuwste tijd

d. Welk soort bron is dit document? Omcirkel de juiste antwoorden.

geschreven bron / ongeschreven bron / archeologische bron / iconografische bron / mondelinge bron

/5


DEEL 3: DE GESCHIEDENIS VAN DE WONINGEN**Zet de nummers van de documenten bij de juiste periode.** (1 doc. per periode)

de Prehistorie	de Oudheid	de middeleeuwen	de Nieuwe Tijd	de Eigen Tijd
Nr. 5	Nr. 3	Nr. 2	Nr. 4	Nr. 1

1.



2.



3.



5.



4.



Werk goed !