


NAAM :	KLASNR:.....	KLAS : 1A immersie	PUNTEN
VOORNAAM :		DATUM :	/70
	EXAMEN MILIEUSTUDIE (EDM)	MEVR. LUYTS	<input type="text" value="/40"/>

**EEN WOONOMGEVING IN DE STAD EN OP HET PLATTELAND +
TECHNISCHE FICHES**

/15

DEEL 1: WONEN IN EEN STAD

↪ ANALYSEER zelf een andere stad:

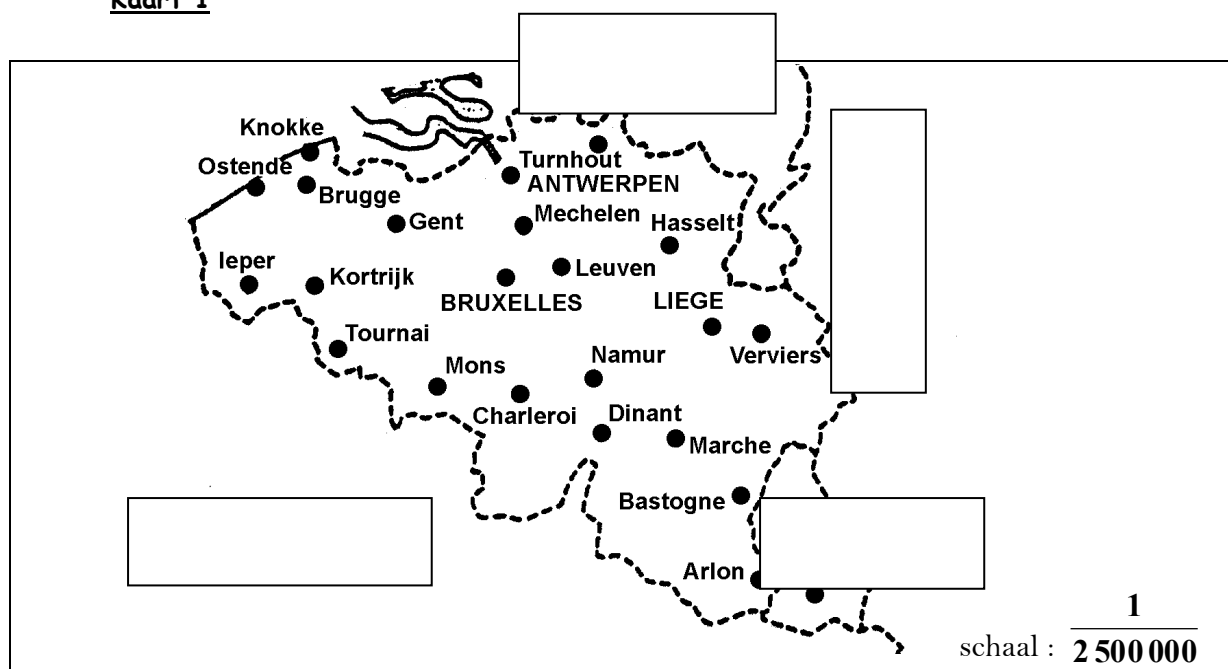
LEUVEN

1) SITUEER LEUVEN

a. Vul de buurlanden van België in op kaart 1.

/4

Kaart 1



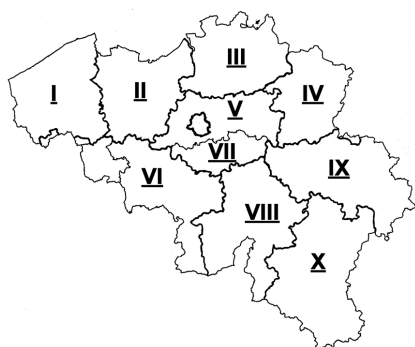
b. Antwoord op de vragen over LEUVEN op de volgende 3 kaarten:
/6

- ◇ Op kaart 2: Noem de **provincie**. Kleur die provincie.
- ◇ Op kaart 3: Noem de **gemeenschap**. Kleur die gemeenschap.
- ◇ Op kaart 4: Noem het **gewest**. Kleur het gewest.

kaart 2

naam van de provincie :

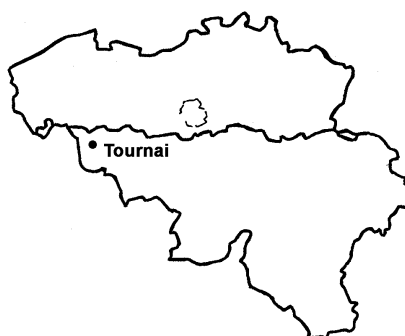
.....



kaart 3

naam van de gemeenschap :

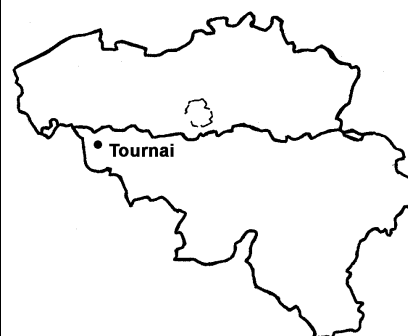
.....



kaart 4

naam van het gewest :

.....



c. Met kaart 2, vul de tabel in.

/5

	Provincie	Hoofdstad
IX		
II		
VI		
III		
X		

2) HET ONTSTAAN VAN LEUVEN

Analyseer de documenten 1+2 en antwoord daarna op de vragen p. 4.

DOC. 1

“Al in de 9de eeuw wordt Leuven (Luvanium of Loven) in teksten vermeld (*mentionné*), met de inval van de Noormannen (*invasion des Vikings*). Toen is Leuven een kampplaats (*camps*) in het moeras (*marais*) bij een bos. (Lo = bos en ven = moeras).

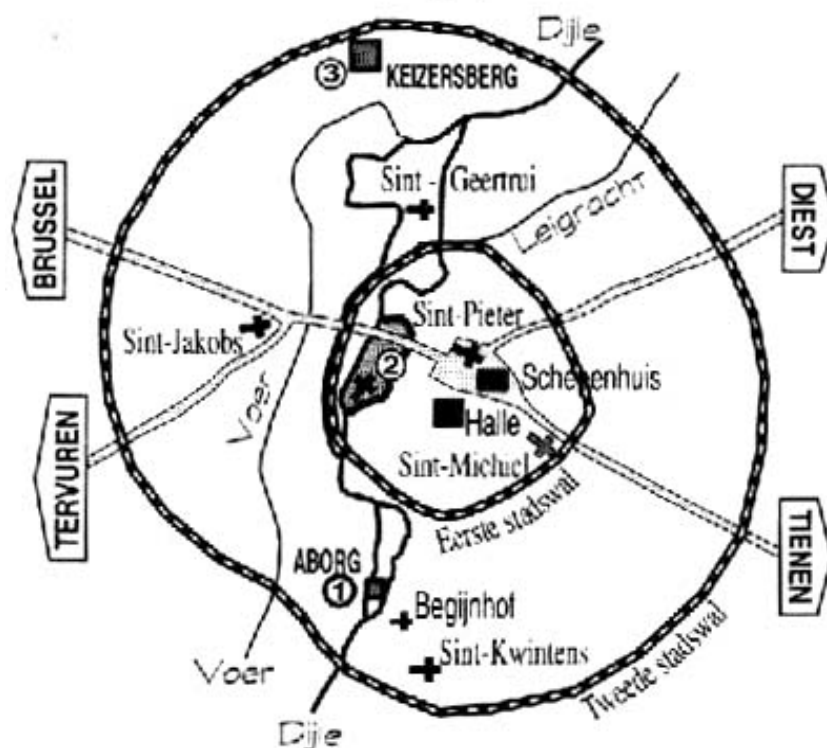
De graaf (*comte*) Lambert “met de baard” bouwt in de 11^{de} eeuw een burcht (*un château fort*) op een eiland (*île*) in de rivier de Dijle. Leuven heeft ook een goede ligging aan de oevers (*rives*) van de Dijle en aan de landweg van Brugge naar Keulen. Om de stad beter te beschermen (*protéger*) wordt rond 1160 de oude burcht vervangen (*remplacé*) door een stenen stadsmuur (*rempart*).

In de 12^{de}-13^{de} eeuw bloeit (*prospérer*) de stad: vishal, broodhuis, vleeshuis en graanhal. De bevolking groeit! Een aantal nieuwe kerken en kapellen worden gebouwd en een tweede stadsmuur wordt gebouwd.”

DOC. 2

LEUVEN IN DE 14DE EEUW

- ① **ABORG**, oudste site van Leuven
- ② **'s HERTOGENEILAND**: grafelijke burcht tot 1233
- ③ **KEIZERSBERG**: hertogelijke burcht 1233-67



a. Welk soort bron is Doc. 1? Omcirkel: Geschreven bron /Ongeschreven bron /1

b. Omcirkel: Leuven ontstaat in de : middeleeuwen / oudheid / nieuwe tijd /1

c. Plaats op de tijdlijn:

/2

1. de referentiedatum van de christelijke tijdlijn

2. de historische periode van het ontstaan van Leuven in het groen

d. Geef de begindatum en de einddatum van de groene periode (2.): /1

van tot

e. Welk millenium is de groene periode?

/1

f. Op het plan DOC. 2 van middeleeuws Leuven: /4

- Kleur de waterlopen blauw.
- Kleur de Grote Markt groen. (kijk ook op doc. 3)
- Kleur de stadsmuren geel.
- Omcirkel één stadspoort.

g. Waarom is de stad Leuven daar ontstaan? (pourquoi à cet endroit?) (zie DOC. 1+2) /3

*

*

*

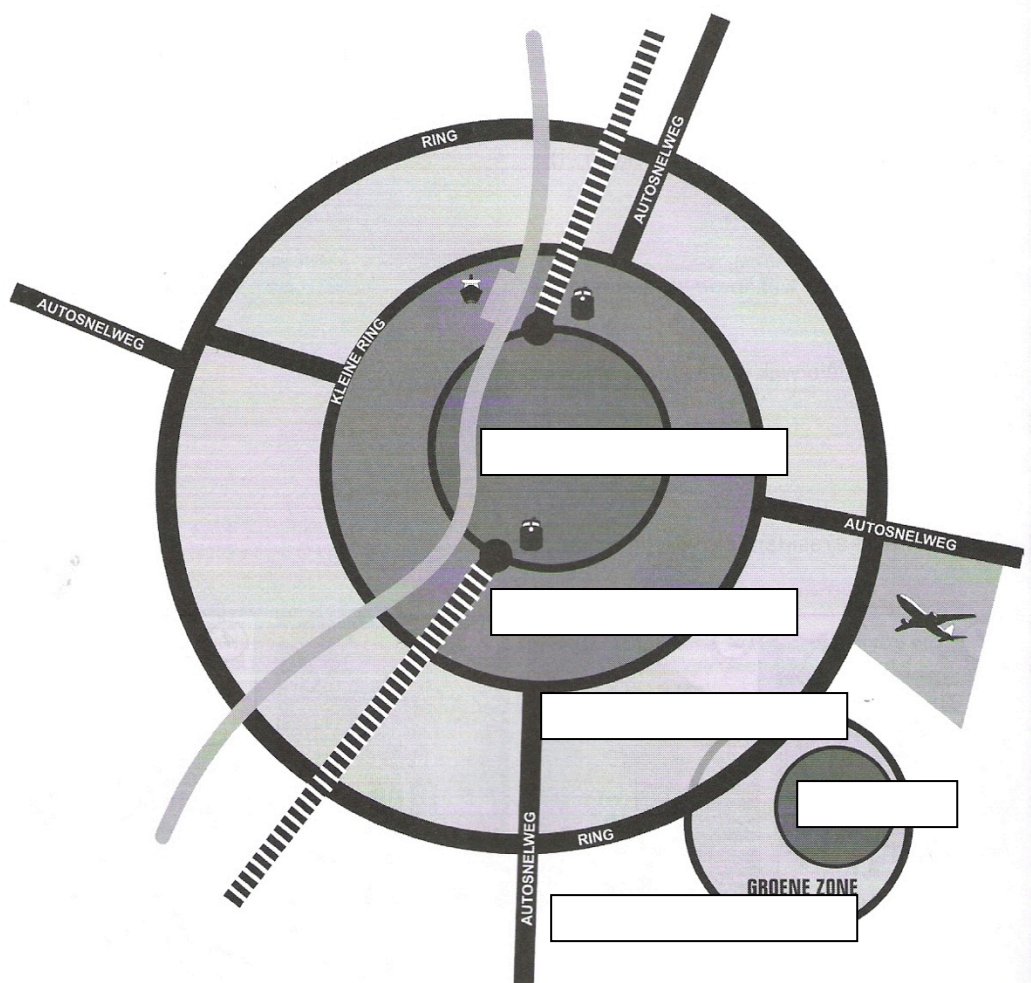
h. Wat is de functie van een stadsmuur? /1

.....

i. Waardoor (par quoi?) is de laatste stadsmuur van Doornik vervangen (remplacé)? /1

.....

- c. Dit is een schema van een denkbeeldige (imaginaire) Europese stad: /5
 → *Vul de kaders in.*



- d. Plaats de nummers van de foto's op de schema. /4



foto 1



foto 2



foto 3



foto 4

d. Zet in de juiste kolom:

/3

Grote Markt / open bebouwing met groen / arbeidershuis / stadhuis / herenhuis / villa.

de binnenstad (stadskern en stadswijken)	
de stadsrand	
de stadsomgeving	

e. Bevolkingsdichtheid van Leuven:

Bereken de bevolkingsdichtheid van de stad Leuven (2008):

/2

oppervlakte: 56,63 km²

bevolking: 92 704

bevolkingsdichtheid =

/12

4) STRAATANALYSE EN FUNCTIE VAN DE GEBOUWEN IN LEUVENFoto 1: Diestsestraat (20^{ste} eeuw)

Foto 2: Diestsestraat (vroeger)

- Uit welke eeuw dateert het witte huis op foto 2? /1
- Wat is de **begindatum** en de **einddatum** van die eeuw? /2
- Welke **historische periode** is dit? /1
- Welk **soort bron** is foto 1? /1
- **Analyseer de Diestsestraat met de analysetabel.** /7



☒ De openbare weg, het verkeer en de weggebruikers

<i>Tracé van de straat</i>	
<i>Breedte van de straat</i>	
<i>Aard van de weg (gebruikte materialen)</i>	
<i>Reliëf</i>	
<i>Richting van het verkeer</i>	
<i>Parkeerplaats</i>	
<i>Plaats voor de voetgangers</i>	
<i>Plantengroei</i>	

☒ De gebouwen

<i>Gebruikte materialen</i>	
<i>Schikking van de gebouwen</i>	
<i>Geef 1 functie voor de gebouwen op de foto</i>	
<i>Geef 1 andere functie gezien in de cursus</i>	

☒ Hoofdfunctie van de ruimte

<i>Ambiance van de straat</i>	
<i>Hoofdfunctie van de straat</i>	

/7

DEEL 2: WONEN IN EEN ANDERE OMGEVING

↪ **ANALYSEER** deze woonomgeving:

SAINT-MAUR

1) LANDSCHAPSANALYSE

- **Observeer de gebouwen en de woningen in Saint-Maur.**
- **Welk milieutype is St-Maur?**
- **Leg uit met 2 kenmerken (*caractéristiques*). Is het kenmerk een menselijk of natuurlijk landschapselement?**

Soort milieu:


Kenmerken:

1.: landschapselement =

2.: landschapselement =

2) SAINT-MAUR

Document: Gravure van Saint-Maur uit de 17^{de} eeuw.



a. Wie is de auteur? (= *idem* de gravure van Doornik)

.....

b. In welk jaar (wanneer) begint de 17^{de} eeuw?

.....

c. Welk historische periode is de 17^{de} eeuw? Omcirkel het juiste antwoord.

middeleeuwen / oudheid / nieuwe tijd / prehistorie / eigen tijd / nieuwste tijd

d. Welk soort bron is dit document? Omcirkel de juiste antwoorden.

geschreven bron / ongeschreven bron / archeologische bron / iconografische bron / mondelinge bron

/5


DEEL 3: DE GESCHIEDENIS VAN DE WONINGEN**Zet de nummers van de documenten bij de juiste periode. (1 doc. per periode)**

de Prehistorie	de Oudheid	de middeleeuwen	de Nieuwe Tijd	de Eigen Tijd
Nr.	Nr.	Nr.	Nr.	Nr.

1.



2.



3.



5.



4.



Werk goed !