

Habiter un espace agricole de faible densité L'exemple du village de Sounbel, au cœur de la savane.

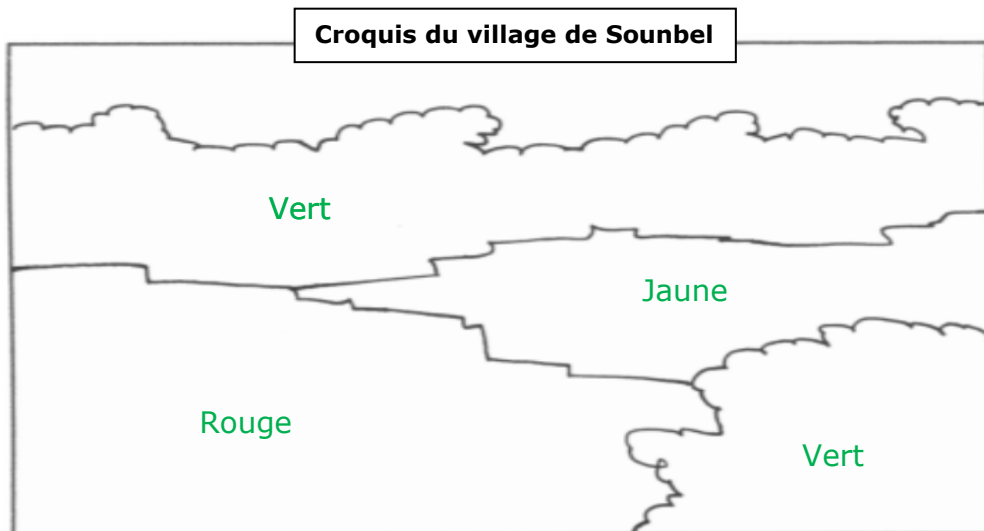
CORRECTION :

les réponses attendues sont en vert,
j'ai ajouté en rouge des commentaires pour faciliter la compréhension.



1. Je présente le village de Sounbel (point rouge sur le planisphère ci-contre)
- a) Précise sa localisation
- son pays : **Le Sénégal**
 - son continent : **L'Afrique**
- b) selon toi Sounbel est situé dans :
- un foyer de population une zone à faible occupation humaine
 - un pays développé un pays en développement
- c) son nombre d'habitants : 35

2. En utilisant le début de la vidéo, colorie le croquis et complète sa légende :



- Jaune** Cultures et élevage
Vert Domaine des grands arbres
Rouge Village de terre et de chaume

Les couleurs sont indicatives, la seule obligation est de les reporter avec rigueur dans la légende

a) En t'aidant du planisphère de la question précédente (point rouge), identifie sur celui des pages 196 et 197, le nom du domaine climatique de Sounbel : **C'est le domaine tropical**

b) Dans la liste suivante, surligne les éléments caractéristiques de ce domaine climatique :

de hautes herbes asséchées / des champs / **un climat sec** / la jungle / **quelques grands arbres**


c) Dans la liste suivante, choisis les éléments qui ont été aménagés par les habitants de Sounbel :

- la savane des immeubles des cases des routes un puits des champs
des greniers à céréales des grands arbres des équipements électriques

Ne pas oublier les champs qui sont bien dus au travail des hommes

3. Je décris l'activité agricole du village de Sounbel

a) Entoure sur les dessins les produits récoltés par les agriculteurs du village :



Le sorgho aurait été possible car c'est avec le mil l'une des céréales caractéristiques du continent africain

b) Laquelle de ces cultures sert :

- à nourrir les habitants du village : **le mil**

On le voit bien dans le passage où une mère et son fils vont chercher leur part de mil au grenier à céréales du village. Le moi est ensuite pilé pour obtenir des graines, l'une des bases de l'alimentation du village

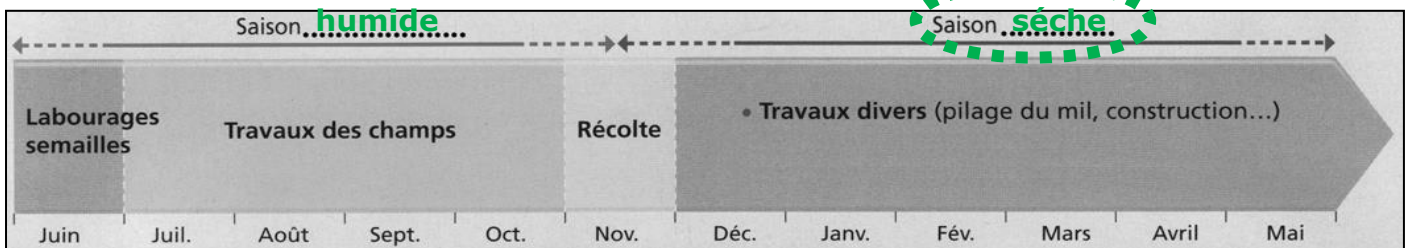
- les quantités récoltées sont : énormes importante limitées

c) Laquelle de ces cultures sert :

- à être vendue à l'extérieur du village : **l'arachide**

- les quantités récoltées sont : énormes importante limitées

Calendrier des activités agricoles pratiquées à Sounbel



d) Place sur les pointillés du calendrier agricole de Sounbel, la saison sèche et la saison humide puis :

- Entoure sur le calendrier la saison durant laquelle le village de Sounbel a été filmé.

- Y avait-il alors des travaux dans les champs ? Pourquoi ? **Il n'y a pas de travaux agricoles car le village manque d'eau. Il ne pleut plus et le puits ne suffirait pas à arroser les récoltes.**

- Quelle activité agricole se poursuivait, même difficilement ? **Les agriculteurs continuent à pratiquer l'élevage**

- Quel caractéristique du climat de Sounbel gêne particulièrement l'activité agricole ?

La chaleur l'humidité la sécheresse le froid

4. Vivre à Sounbel

a) Cite deux exemples de problèmes importants que rencontrent les habitants de Sounbel montrant la pauvreté du village :

- **L'école est abandonné car le village n'a pas assez d'argent pour faire venir un instituteur**

- **La mosquée, le bâtiment religieux du village n'est pas finie ; la prière a donc lieu dehors**

b) En raison de cette pauvreté, penses-tu que tous les jeunes pourront continuer à vivre au village ? En repensant bien au chapitre de géographie sur les villes, essaie de préciser où beaucoup de ces jeunes devront aller vivre et dans quel genre de quartier risquent-ils de s'installer ? **Non, tous les jeunes ne pourront continuer à vivre à Sounbel, (il n'y aura pas assez de terres pour nourrir d'autres familles). Ils devront le quitter pour aller vers une ville (surement y vivre dans un bidonville)**

c) Quel mouvement de population, déjà rencontrés dans le chapitre sur les villes, retrouves-tu dans cet exemple du village de Sounbel ?

l'exode urbain l'urbanisation l'exode rural la ruralisation