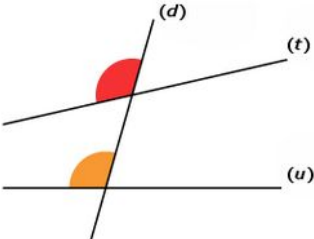
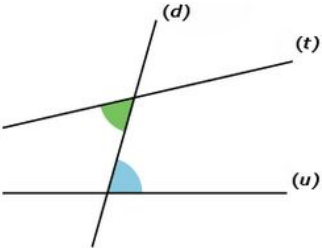
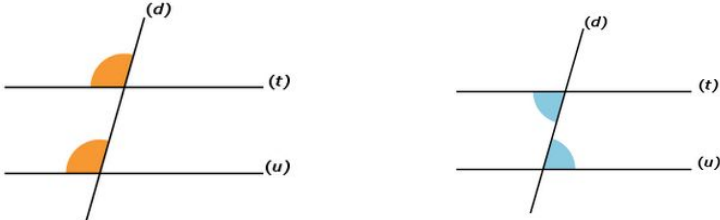
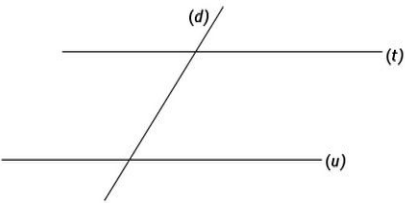


# ANGLES DE MÊME MESURE : DROITES COUPÉES PAR UNE SÉCANTE

Pour cacher les réponses,  
plier jusqu'ici ->

QUESTIONS	RÉPONSES
<p>Les deux angles codés sont dits ?</p> 	<p>... correspondants.</p>
<p>Les deux angles codés sont dits ?</p> 	<p>... alternes-internes.</p>
<p>A quelle condition les angles correspondants ou alternes-internes ont-ils la même mesure ?</p>	<p>... si les deux droites sont parallèles.</p> 
<p>A quelle condition les droites (t) et (u) sont-elles parallèles ?</p> 	<p>... si les angles correspondants ou alternes-internes ont la même mesure.</p> 