



11 класс

История Беларуси

Задания для учащихся

2022

Задания по истории Беларуси составлены к учебному пособию А.В.Касовича и др. «История Беларуси. XIX – начало XXI в.» (2021 г.) для учащихся 11 класса учреждений общего среднего образования.

ОГЛАВЛЕНИЕ

§1. Общественно-политическая жизнь в Беларуси в первой половине и середине XIX в.....	4
§2. Общественно-политическая жизнь во второй половине XIX – начале XX в.....	4
§3. Революционные события 1917 г. и оформление белорусской национальной государственности.....	5
§4. Общественно-политическая жизнь в 1920-1930-е гг.....	6
§5. Общественно-политическая жизнь во второй половине 1940-х – 1980-е гг.....	7
§6. Становление государственного суверенитета Республики Беларусь.....	8
§7. Общественно-политическая жизнь во второй половине 90-х гг. XX в. – начале XXI в.....	9
§8. Решение аграрного вопроса в XIX – начале XX в.....	10
§9. Развитие капиталистических отношений в промышленности в XIX – начале XX в.....	11
§10. Социально-экономическое развитие в 1918-1941 гг.....	12
§11. Социально-экономическое развитие во второй половине 1940-х – 1980-е гг.....	13
§12. Белорусская модель социально-экономического развития и её реализация в условиях государственного суверенитета Республики Беларусь.....	14
§13. Геополитическое положение Беларуси в XIX в.....	15
§14. Беларусь в условиях Первой мировой и польско-советской войн.....	16
§15. Беларусь в межвоенный период.....	17
§16-17. Беларусь в годы Второй мировой и Великой Отечественной войн.....	18
§18. Беларусь на международной арене в 1940-1980-х гг.....	19
§19. Геополитическое положение Республики Беларусь на границе XX-XXI вв.....	20
§20. Формирование белорусской нации в XIX – начале XX в. и вызревание белорусской национальной идеи.....	21
§21. Эволюция этноконфессиональных отношений в XIX – начале XX в.....	22
§22. Развитие белорусской нации в условиях советской политической системы. Конфессиональная политика.....	23
§23. Белорусская нация в условиях государственного суверенитета Республики Беларусь.....	24
§24. Культура Беларуси в XIX – начале XX в.....	25
§25. Культура Беларуси в 1920-1930-е гг.....	26
§26. Развитие белорусской советской культуры во второй половине 1940-х – 1980-е гг.....	27
§27. Развитие образования, науки, искусства и спорта в условиях государственного суверенитета Республики Беларусь.....	28

§1. Общественно-политическая жизнь в Беларуси в первой половине и середине XIX в.

1. Заполните таблицу «Польский вопрос» в политике российского правительства в первой половине и середине XIX в.»:

Правитель	Годы правления	Политика на белорусских землях
Екатерина II		
Александр I		
Николай I		
Александр II		

2. Заполните таблицу «Тайные организации в Беларуси»:

Дата	Организация	Участники	Цели

3. Заполните таблицу «Польские и российские дворянские революционеры и их организации в Беларуси»:

	Польские дворянские революционеры	Российские дворянские революционеры
Социальная база		
Организации		
Цели деятельности		
Способы достижения целей		

4. Заполните таблицу «Восстания 1830-1831 гг. и 1863-1864 гг.»:

	Восстание 1830-1831 гг.	Восстание 1863-1864 гг.
Причины		
Цели		
Участники		
Причины поражения		
Характер восстания		

5. Заполните таблицу «Течения в восстании 1863-1864 гг.»:

Вопросы для сравнения	«Белые»	«Красные»	
		умеренные (правые)	революционеры-демократы (левые)
Социальный состав			
Социально-экономическая программа			
Национальная программа			
Средства борьбы			

§2. Общественно-политическая жизнь во второй половине XIX – начале XX в.

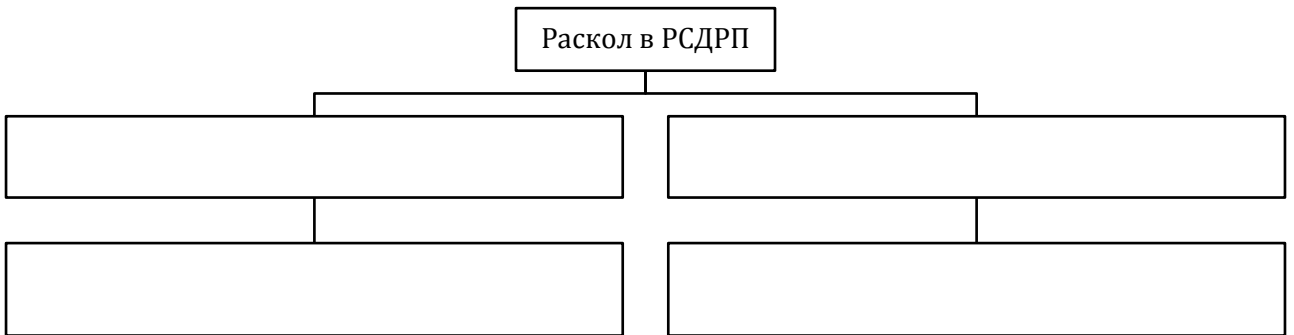
1. Заполните таблицу «Основные этапы общественно-политической жизни Беларуси во второй половине XIX в.»:

Период	Хронологические рамки	Партии и организации
Деятельность народнических организаций		
Создание социал-демократических организаций		
Подъём белорусского национального движения		


2. Заполните таблицу «Политические партии на территории Беларуси в конце XIX - начале XX в.»:

Партия	Дата создания	Цели, задачи, программные требования

3. Составьте схему «Раскол в РСДРП»:



4. Составьте схему «Признаки революционной ситуации»:



5. Заполните таблицу «Политические партии в революции 1905-1907 гг.»:

Политический лагерь	Политические партии	Политическая позиция


6. Постройте график развития революционных событий в 1905-1907 гг.

§3. Революционные события 1917 г. и оформление белорусской национальной государственности

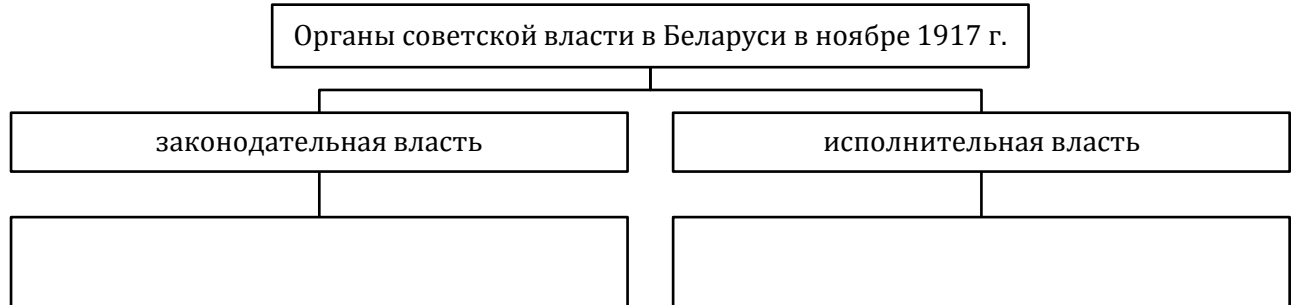
1. Заполните таблицу «Революционные события 1917 г. в Беларуси»:

Революция	Причины (предпосылки)	Установленная власть
Февральская революция		
Октябрьская революция		

2. Начертите в тетради ленту времени и напишите над ней даты соответствующих событий:



3. Составьте схему «Формирование органов советской власти в Беларуси в ноябре 1917 г.»:




4. Заполните хронологическую таблицу «Оформление белорусской советской государственности»:

Дата	Исторические события
30-31 декабря 1918 г.	
1 января 1919 г.	
5 января 1919 г.	
2-3 февраля 1919 г.	
31 июля 1920 г.	
18 марта 1921 г.	

5. Укажите, кто изображён на фотографиях:

- а) председатель Военно-революционного комитета Северо-Западной области и Западного фронта, президиума ЦБ КП(б)Б;
- б) председатель Народного секретариата Беларуси в БНР;
- в) создатель бело-красно-белого флага;
- г) председатель Временного рабоче-крестьянского советского правительства Беларуси;



§4. Общественно-политическая жизнь в 1920-1930-е гг.

1. Дайте определение понятий:

- а) автономия – это ...;
- б) политические репрессии – это ...

2. Соотнесите события с их датами:

- 1) принятие I съездом Советов СССР Декларации и Договора об образовании СССР;
- а) 14-18 декабря 1922 г.;

2) принятие IV Всебелорусским съездом Советов решения о необходимости образования ССР и присоединения к нему БССР;

б) 30 декабря 1922 г.;

3) принятие VIII Всебелорусским съездом Советов второй Конституции Белорусской ССР;

в) 11 апреля 1927 г.

3. Заполните таблицу «Проекты объединения республик в составе СССР»:

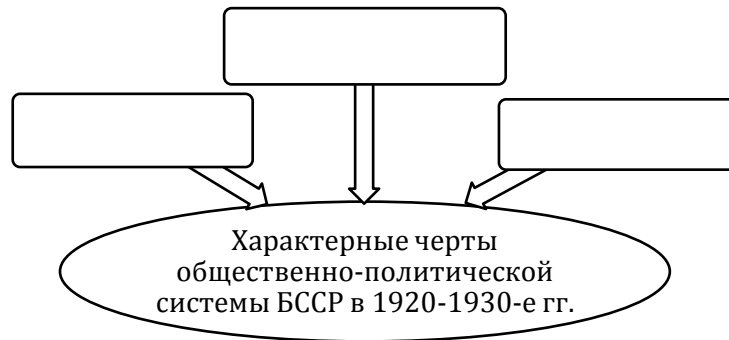
Вопросы для сравнения	Ленинский вариант	Сталинский вариант
Форма государственного устройства		
Права советских республик		

4. Закончите заполнение схемы «Политическая система БССР в 1920-1930-е гг.»:



5. Составьте схему «Органы государственной власти БССР (по Конституции БССР 1937 г.)».

6. Составьте схему «Характерные черты политической системы БССР в 1920-1930-е гг.»:



§5. Общественно-политическая жизнь во второй половине 1940-х – 1980-е гг.

1. Дайте определение понятий:

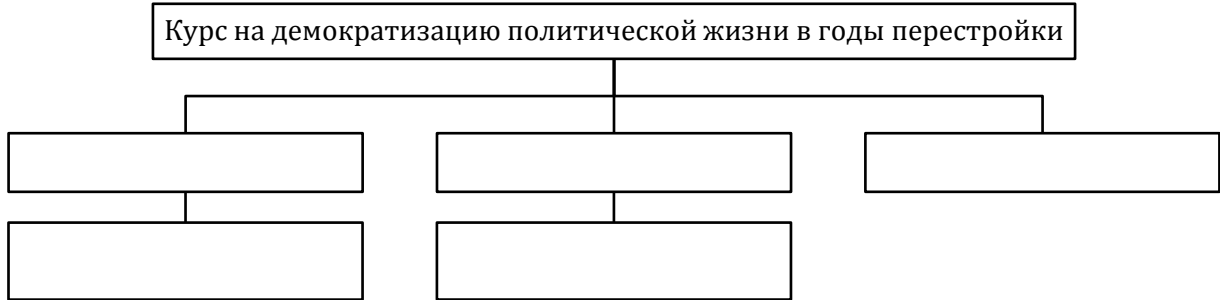
- а) перестройка – это ...;
- б) реабилитация – это ...;
- в) социализм – это ...;
- г) выборы на альтернативной основе - ...

2. Заполните таблицу «Основные черты общественно-политической жизни БССР во второй половине 1940-х – 1980-е гг.»:

Период	Основные черты общественно-политической жизни	Руководители Компартии Беларуси
Вторая половина 1940-х – первая половина 1950-х гг.		
Середина 1950-х – первая половина 1960-х гг.		

Вторая половина 1960-х – первая половина 1980-х гг.		
Вторая половина 1980-х гг.		

3. Составьте схему «Курс на демократизацию политической жизни в годы перестройки»:



4. Укажите руководителей Коммунистической партии Беларуси в послевоенные годы (Первые секретари ЦК КПБ):



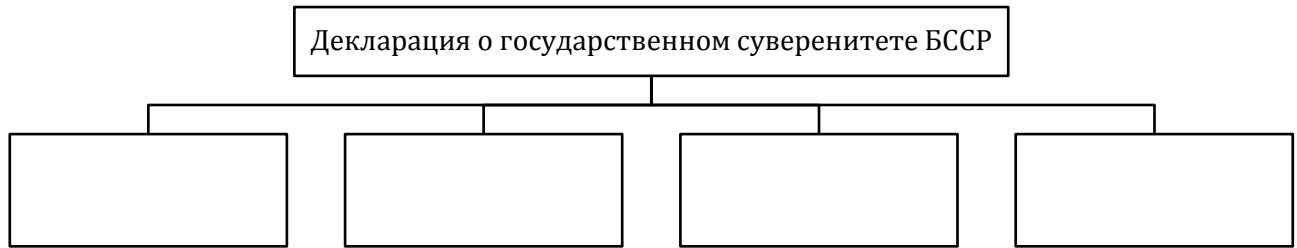
§6. Становление государственного суверенитета Республики Беларусь

1. Дайте определение понятий:
 - а) Беловежские соглашения – это ...;
 - б) государственный суверенитет – это ...;
 - в) Конституция – это ...

2. Заполните таблицу «Распад СССР»:

Причины распада СССР	Последствия распада СССР

3. Составьте схему «Декларация о государственном суверенитете БССР», отразив в ней основные положения Декларации:



4. Заполните хронологическую таблицу «Становление государственного суверенитета Республики Беларусь»:

Дата	Событие

5. Заполните таблицу «Модели республиканской формы правления»:

	Парламентская республика	Президентская республика
Сильные стороны		
Слабые стороны		

6. Укажите, кто изображён на данной фотографии. Когда, где и в связи с каким событием она была сделана?



§7. Общественно-политическая жизнь во второй половине 9-х гг. XX в. – начале XXI в.

1. Дайте определение понятий:

- а) гражданство – это ...;
- б) правовое государство – это ...

2. Составьте сравнительную таблицу «Реализация принципа разделения властей в Республике Беларусь»:

Признаки для сравнения	Конституция Республики Беларусь, принятая 15 марта 1994 г.	Новая редакция Конституции Республики Беларусь с изменениями и дополнениями на референдуме 24 ноября 1996 г.
Законодательная власть		
Исполнительная власть		
Судебная власть		

3. Заполните хронологическую таблицу «Республиканские референдумы в Республике Беларусь»:

Дата проведения	Итоги
14.05.1995 г.	

24.11.1996 г.	
17.10.2004 г.	


4. Заполните хронологическую таблицу «Президентские выборы в Республике Беларусь»:

Дата проведения	Победитель	Количество поданных голосов (в %%)
1994 г.		
2001 г.		
2006 г.		
2010 г.		
2015 г.		
2020 г.		

5. Составьте сравнительную таблицу «Всебелорусские народные собрания»

Собрания	Дата проведения	Результаты
I Всебелорусское народное собрание		
II Всебелорусское народное собрание		
III Всебелорусское народное собрание		
IV Всебелорусское народное собрание		
V Всебелорусское народное собрание		
VI Всебелорусское народное собрание		

6. Составьте схему «Принципы партийного строительства в Республике Беларусь в соответствии с Законом о политических партиях от 5 октября 1994 г.»:



§8. Решение аграрного вопроса в XIX – начале XX в.

1. Дайте определение понятий:

- а) аграрный вопрос – это ...;
- б) «прусский» путь развития капитализма в сельском хозяйстве – это ...;
- в) «американский» путь развития капитализма в сельском хозяйстве – это ...;
- г) сельская община – это ...

2. Составьте схему «Система крестьянского землепользования в разных регионах Беларуси»:



3. Заполните таблицу «Реформы в государственной и помещичьей деревне в XIX в.»:

Параметры сравнения	Реформа в государственной деревне	Инвентарная реформа	Реформа 1861 г.

Цель			
Содержание			
Итоги			

Вывод о результативности реформ: ...

4. Заполните таблицу «Условия наделения крестьян землёй по реформе 1861 г.»:

Губернии	Условия наделения крестьян землёй
Витебская и Могилёвская	
Виленская, Гродненская и Минская	

5. Рассчитайте размер выкупного платежа, который должен получить помещик за земельный надел, с которого крестьянин уплачивал ему ежегодно 15 рублей чинша.

6. Заполните таблицу «Аграрная реформа П.А.Столыпина»:

Цели	
Направления	
Особенности в Беларуси	
Результаты	

7. Составьте сравнительную таблицу «Пути развития капитализма в сельском хозяйстве»:

«Прусский» путь развития капитализма	«Американский» путь развития капитализма

8. Составьте сравнительную таблицу «Развитие сельского хозяйства в Беларуси в XIX – начале XX в.»:

Пережитки феодальных отношений	Черты капиталистических отношений

§9. Развитие капиталистических отношений в промышленности в XIX – начале XX в.

1. Дайте определение понятий:

- а) индустриализация – это ...;
б) «урбанизация – это ...

2. Заполните таблицу «Особенности промышленной революции в Беларуси»:

Особенности	Их проявления

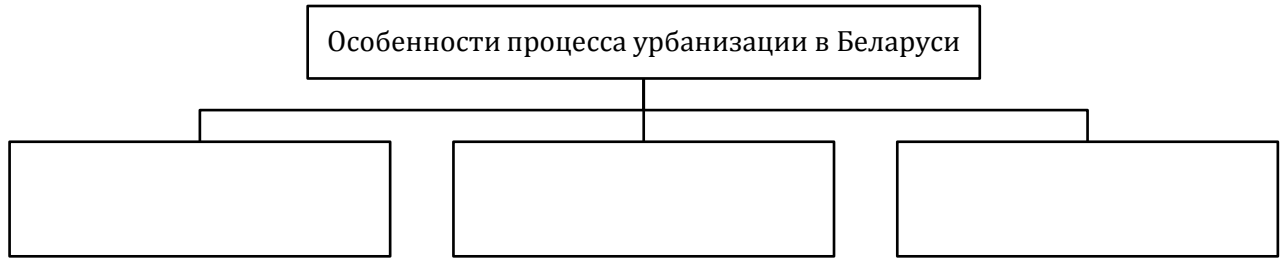
3. Заполните таблицу «Источники формирования основных классов капиталистического общества в Беларуси»:

Класс	Источники формирования


4. Заполните таблицу «Строительство железных дорог на территории Беларуси»:

Причины	Последствия

5. Составьте схему «Особенности процесса урбанизации в Беларуси»:



6. Составьте схему «Особенности развития торговли в Беларуси во второй половине XIX – начале XX в.»:



§10. Социально-экономическое развитие в 1918-1941 гг.

1. Дайте определение понятий:

- а) политика «военного коммунизма» – это ...;
- б) новая экономическая политика – это ...;
- в) индустриализация – это ...;
- г) коллективизация сельского хозяйства – это ...;
- д) национализация – это ...;
- е) раскулачивание – это ...;
- ж) осадничество – это ...

2. Заполните таблицу «Политика «военного коммунизма»»:

Сроки осуществления	
Цели	
Характерные черты	
Итоги	

3. Заполните таблицу «Новая экономическая политика»:

Сроки осуществления	
Цели	
Мероприятия в городе	
Мероприятия в деревне	
Итоги	

4. Заполните таблицу «Индустриализация в БССР»:

Сроки осуществления	
Цели	
Итоги	

5. Заполните таблицу «Коллективизация сельского хозяйства в БССР»:

Сроки осуществления	
Цели	
Методы осуществления	
Особенности в БССР	
Итоги	

6. Заполните таблицу «Экономическое развитие БССР и Западной Беларуси в составе Польши в 1930-е гг.»:

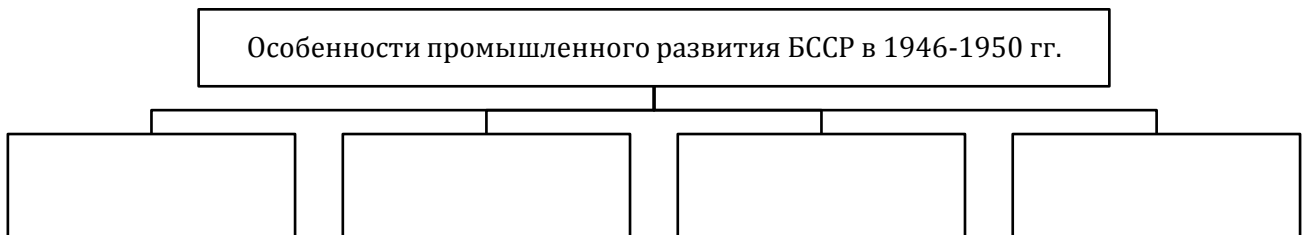
Параметры для сравнения	БССР	Западная Беларусь
Формы собственности		
Источники экономического развития		
Промышленность		
Сельское хозяйство		

§11. Социально-экономическое развитие во второй половине 1940-х – 1980-е гг.

1. Дайте определение понятий:

- а) экстенсивный путь развития экономики – это ...;
- б) интенсивный путь развития экономики – это ...;
- в) агропромышленный комплекс – это ...

2. Составьте схему «Особенности промышленного развития БССР в годы четвёртой пятилетки (1946-1950 гг.):»:



3. Заполните таблицу «Экономическая реформа 1965 г. в СССР»:

Мероприятия в промышленности	Мероприятия в сельском хозяйстве

4. Заполните таблицу «Причины кризисного состояния сельского хозяйства БССР»:

Конец 1950-х – начало 1960-х гг.	1970-1980-е гг.

5. Составьте схему «Продовольственная программа СССР 1982 г.»:



6. Укажите событие, последствия которого отображает данная карта. Когда оно произошло?




§12. Белорусская модель социально-экономического развития и её реализация в условиях государственного суверенитета Республики Беларусь

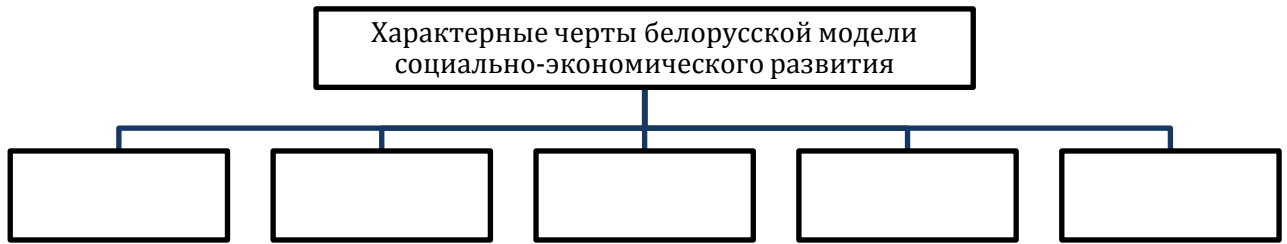
1. Дайте определение понятий:

- а) инфляция – это ...;
- б) информационное общество – это ...;
- в) Таможенный союз – это ...;
- г) социально ориентированная экономика – это ...;
- д) устойчивое развитие – это ...;
- е) человеческий капитал – это ...


2. Составьте схему «Основные проявления экономического кризиса 1991-1995 гг.»:



3. Составьте схему «Характерные черты белорусской модели социально-экономического развития»:



4. Начертите в тетради «линию времени» и обозначьте на ней основные этапы интеграции Республики Беларусь и Российской Федерации:



§13. Геополитическое положение Беларуси в XIX в.

1. Дайте определение понятия:

а) автономия– это ...


2. Заполните таблицу «Российская система территориально-административного деления и управления на землях Беларуси»:

Административно-территориальная единица	Органы управления

3. Заполните таблицу «Российская система территориально-административного деления на землях Беларуси»:

Генерал-губернаторство	Губернии

4. Составьте схему «План Огинского»:



5. Заполните сравнительную таблицу «Отношение к войне 1812 г. разных слоёв населения на белорусских землях»:

Признаки для сравнения	Шляхта и магнаты	Крестьяне
Реакция на обещания Наполеона		

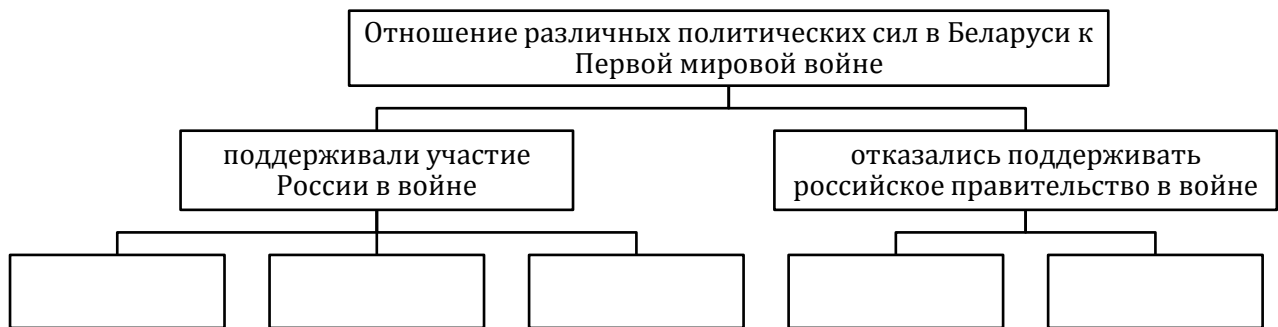
Действия по отношению к наполеоновским войскам		
--	--	--

6. Определите, кто изображён на иллюстрации:
 Политический деятель Речи Посполитой и Российской империи, автор проекта возрождения Великого Княжества Литовского:



§14. Беларусь в условиях Первой мировой и польско-советской войн

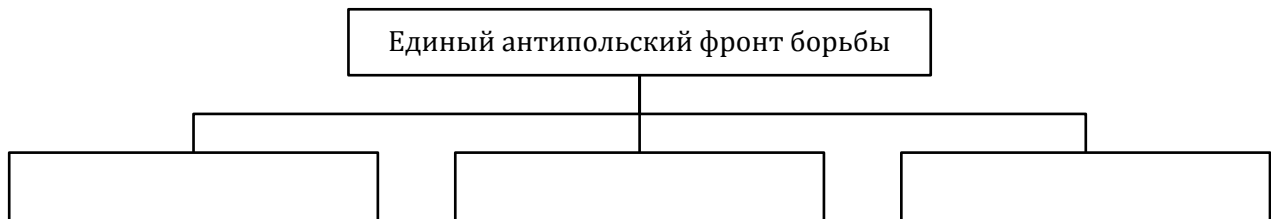
1. Составьте схему «Отношение различных политических сил в белорусских губерниях в Первой мировой войне»:



2. Заполните таблицу «Влияние Первой мировой войны на белорусские губернии»:

Сфера жизни общества	Влияние войны
Экономическая сфера	
Социальная сфера	
Политическая сфера	

3. Составьте схему «Создание единого антипольского фронта борьбы в 1919 г.»:



4. Заполните сравнительную таблицу «Брестский и Рижский мирные договоры»:

Критерии для сравнения	Брестский мирный договор	Рижский мирный договор
Дата подписания		
Страны, подписавшие договор		
Условия договора		
Итоги для белорусских земель		

5. Сформулируйте 5 тезисов, отразив в них роль и место Беларуси в геополитических процессах начала XX в.:


Роль и место Беларуси в геополитических процессах начала XX в.

§15. Беларусь в межвоенный период

1. Заполните хронологическую таблицу «Формирование территории БССР в 1919-1939 гг.»:

Дата	Событие
1 января 1919 г.	
16 января 1919 г.	
31 июля 1920 г.	
Март 1921 г.	
30 декабря 1922 г.	
3 марта 1924 г.	
6 декабря 1926 г.	
Сентябрь 1939 г.	

2. Составьте схему «Причины образования СССР»:



3. Заполните таблицу «Основные этапы интеграции на пути образования СССР»:

Дата	Событие
1 июля 1919 г.	
16 января 1921 г.	
30 декабря 1922 г.	

4. Заполните таблицу «Политика режима Ю.Пилсудского на территории Западной Беларуси»:

Направления	Сущность
Санация	
Пацификация	
Осадничество	
Полонизация	
Геноцид	

5. Заполните таблицу «Национально-освободительное движение на территории Западной Беларуси»:

Критерии для сравнения	Направления в движении	
Политические силы		

Цели борьбы		
Тактика борьбы		

§16-17. Беларусь в годы Второй мировой и Великой Отечественной войн

1. Заполните таблицу «Вторая мировая война»:

Хронологические рамки	
Страны, развязавшие войну	
Количество стран-участниц войны	
Количество стран, на территории которых велись боевые действия	

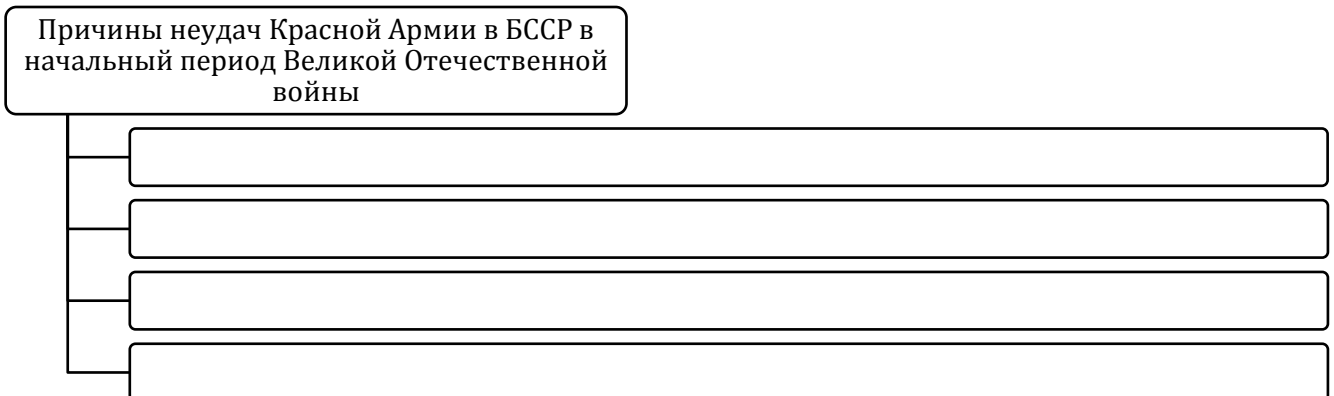
2. Заполните таблицу «Советско-германские отношения в конце 1930-х гг.»:

Дата	Название договора	Содержание, цели договора

3. Заполните таблицу «Мероприятия Советского государства на территории Западной Беларуси после её присоединения к БССР»:

Направления преобразований	Основные мероприятия
Социально-экономическое развитие	
Развитие культуры	

4. Составьте схему «Причины неудач Красной Армии на территории БССР в начальный период Великой Отечественной войны»:



5. Соотнесите территорию Беларуси с административно-территориальным делением, введённым немецко-фашистскими захватчиками:

- | | |
|---|--|
| 1) территория Витебской, Могилёвской, почти всей Гомельской области, восточные районы Минской и несколько районов Полесской областей; | а) рейхскомиссариат «Украина»; |
| 2) южные районы Полесской, Пинской и Брестской областей; | б) генеральный округ «Литва»; |
| 3) Белостокская и северные районы Брестской, часть районов Барановичской областей; | в) рейхскомиссариат «Остланд»; |
| 4) северо-западные районы Вилейской области; | г) Восточная Пруссия; |
| 5) генеральный округ Беларусь; | д) область армейского тыла группы армий «Центр». |

6. Дайте определение понятий:

а) коллаборационизм – это ...;

б) «рельсовая война» - это ...


7. Заполните таблицу «Деятельность белорусских коллаборационистов»:

Организация коллаборационистов	Дата создания	Цели деятельности
Белорусская народная самопомощь		
Белорусский корпус самообороны		
Союз белорусской молодёжи		
Белорусская центральная рада		
Белорусская краевая оборона		

8. Заполните таблицу «Рельсовая война»

Этап	Хронологические рамки	Условия развёртывания
I этап		
II этап		
III этап		

9. Составьте схему «Участники операции «Багратион»»:

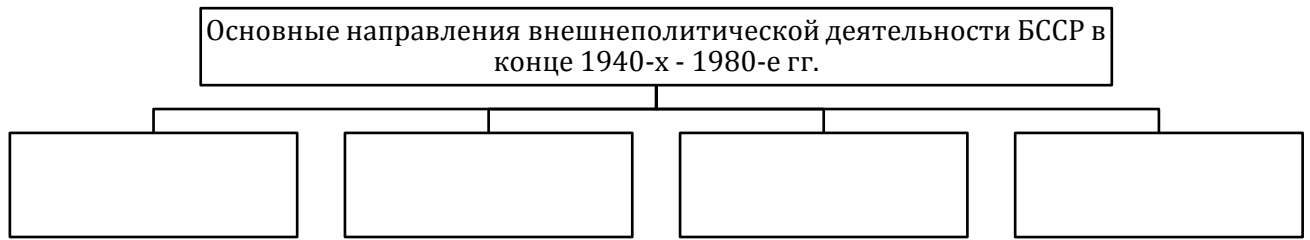


§18. Беларусь на международной арене в 1940-1980-х гг.

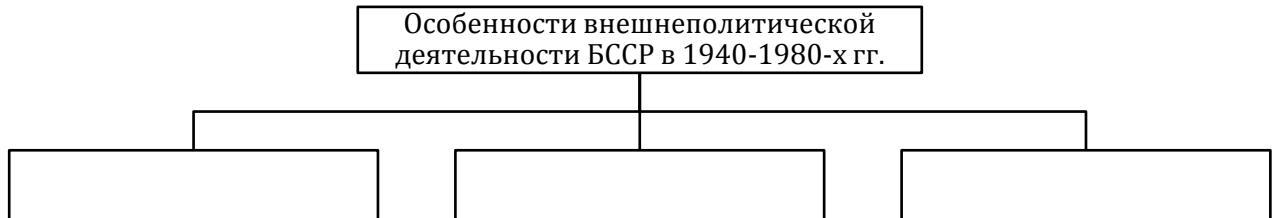
1. Дайте определение понятия:

а) диаспора – это ...

2. Составьте схему «Основные направления внешнеполитической деятельности БССР в конце 1940-х - 1980-е гг.»:



3. Составьте схему «Особенности внешнеполитической деятельности БССР в 1940-1980-х гг.»:



4. Составьте схему «Основные инициативы БССР в ООН»



5. Заполните таблицу «Структура экспортных поставок БССР в страны СЭВ»:

Период	Структура поставок
Первая половина 1950-х гг.	
Середина 1950-х – 1960-е гг.	
1970-е – первая половина 1980-х гг.	

6. Заполните таблицу «Общество «Радзіма»»:

Время основания	
Учредители	
Цель деятельности	
Приоритетное направление деятельности	
Печатный орган	

§19. Геополитическое положение Республики Беларусь на границе XX-XXI вв.

1. Дайте определение понятий:

- а) Беловежские соглашения – это ...;
- б) Евразийский экономический союз – это ...;
- в) интеграция – это ...;
- г) Таможенный союз – это ...;
- д) Союзное государство Беларуси и России – это ...

2. Заполните таблицу «Основные принципы внешней политики Республики Беларусь на современном этапе»:

Принципы	Сущность

3. Заполните таблицу «Республика Беларусь в международных организациях и объединениях». Используйте дополнительные источники информации:

Название организации и объединения	Основные направления деятельности	Участие Республики Беларусь в деятельности организации
ООН		
ЮНЕСКО		
СНГ		
Таможенный союз		
ОДКБ		
Союзное государство		
ОБСЕ		

4. Заполните таблицу «Этапы развития взаимоотношений между Беларусью и Россией»:

Дата	Событие

5. Заполните таблицу «Основные этапы взаимоотношений Беларуси с Европейским союзом»:

Дата	Событие

6. Составьте схему «Объекты Всемирного наследия ЮНЕСКО на территории Беларуси»:



§20. Формирование белорусской нации в XIX – начале XX в. и вызревание белорусской национальной идеи

1. Дайте определение понятий:

- а) нация – это ...;
- б) национальный вопрос – это ...;
- в) национальное самосознание – это ...;
- г) западнорусизм – это ...

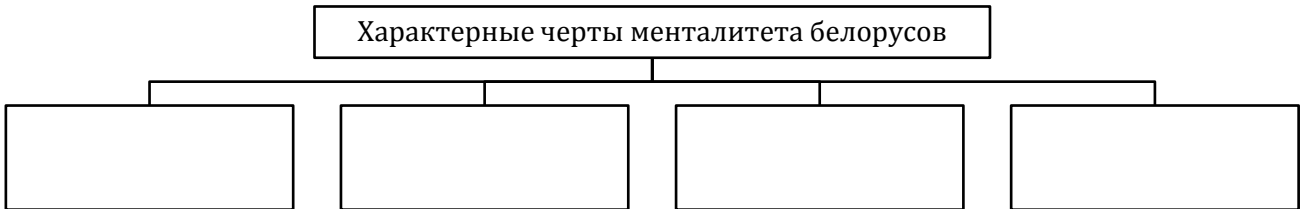
2. Заполните таблицу «Условия формирования белорусской нации»:

Условия	Факты

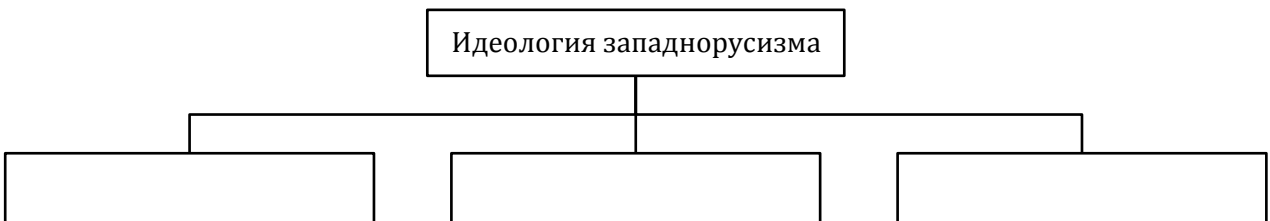
3. Заполните таблицу «Формирование общих национальных признаков»:

Признаки	Особенности формирования

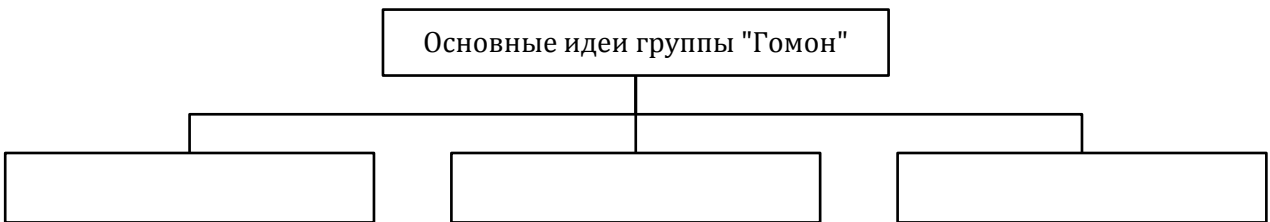
4. Составьте схему «Характерные черты менталитета белорусов»:



5. Составьте схему «Основные положения идеологии западнорусизма»:



6. Составьте схему «Основные идеи группы «Гомон»»:



§21. Эволюция конфессиональных отношений в XIX – начале XX в.

1. Дайте определение понятия:

а) конфессия – это ...


2. Заполните таблицу «Конфессиональная ситуация на территории Беларуси в начале XIX в.»:

Категории религий	Религии	Отношение государства
Господствующая религия		
«Дозволенные» религии		
«Недозволенные» религии		

3. Заполните таблицу «Изменение конфессиональной политики российского правительства в отношении униатов и католиков после восстаний 1830-1831 и 1863-1864 гг.»:

Конфессия	Изменения в конфессиональной политике правительства
Униатство	
Католицизм	

4. Составьте схему «Указ Николая II «Об укреплении начал веротерпимости»»:



5. Составьте схему «Конфессиональная ситуация на белорусских землях в XIX – начале XX в.:



6. Укажите, кто изображён на иллюстрации. Что вы о нём знаете?



§22. Развитие белорусской нации в условиях советской политической системы. Конфессиональная политика

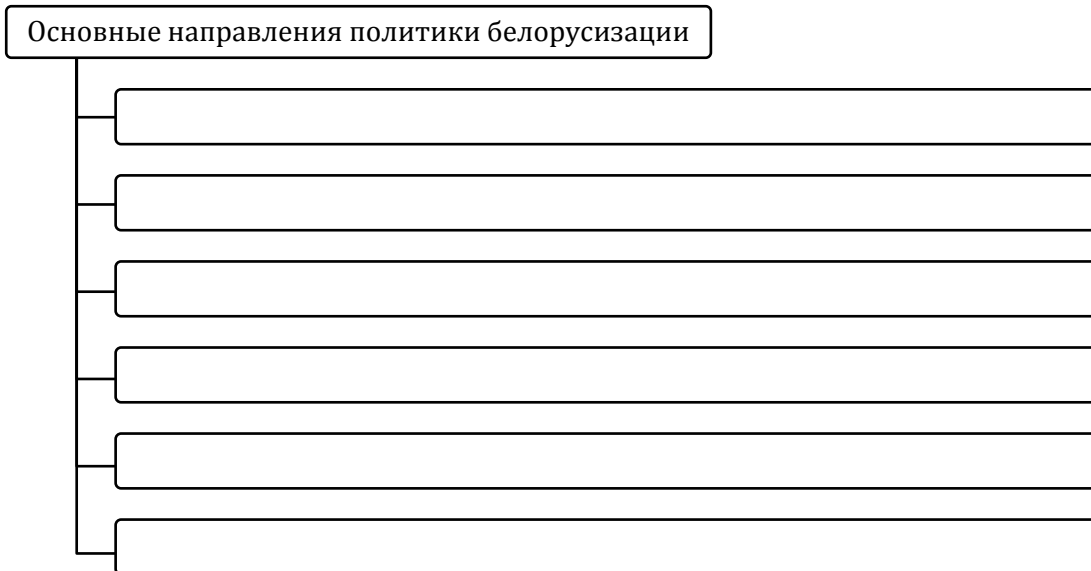
1. Дайте определение понятий:

- а) национальный вопрос – это ...;
- б) белорусизация – это ...;
- в) коренизация – это ...;
- г) атеизм – это ...

2. Заполните таблицу «Становление основ национальной политики большевиков»:

Дата	Документ	Позиция по национальному вопросу
1.01.1919 г.	Манифест о создании ССРБ	
3.02.1919 г.	Конституция ССРБ	
8-16.03.1921 г.	Доклад И.В.Сталина на X съезде РКП(б)	

3. Составьте схему «Основные направления политики белорусизации»:



4. Составьте схему «Положение религиозных конфессий в 1920-1930-е гг.»:



5. Заполните таблицу «Взаимоотношения власти и церкви в 1940-1980-е гг.»:


Период	Краткая характеристика
1941-1945 гг.	
1945-1953 гг.	
1953-1964 гг.	
Вторая половина 1960-х – первая половина 1980-х гг.	
Вторая половина 1980-х гг.	

§23. Белорусская нация в условиях государственного суверенитета Республики Беларусь

1. Сформулируйте определение понятий:

- а) менталитет – это ...;
- б) белорусская национальная идея – это ...;
- в) идеология белорусского государства – это ...

2. Составьте схему «Реальное воплощение белорусской национальной идеи в XX – начале XXI в.»:



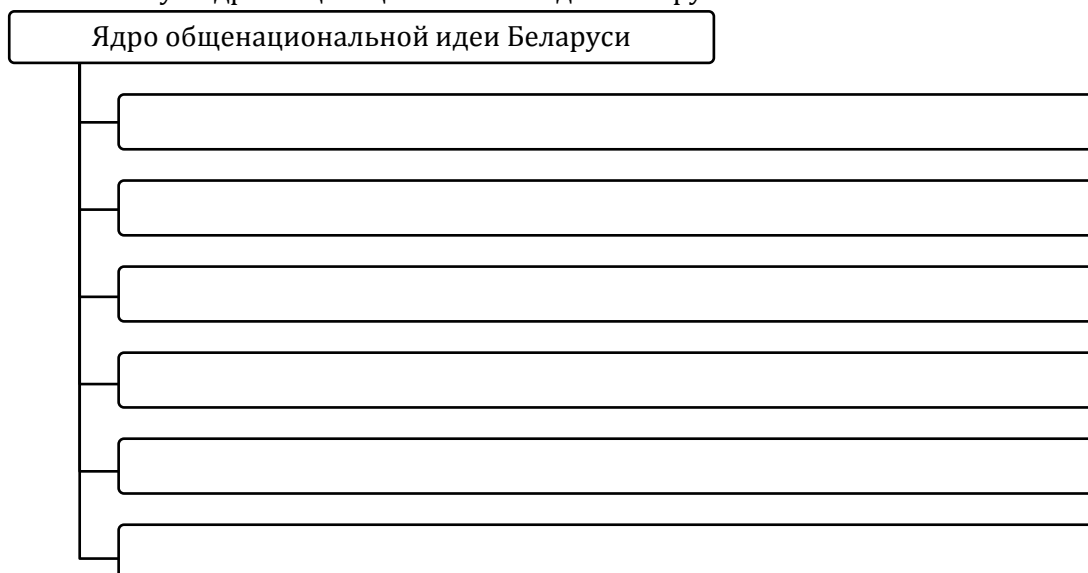
3. Заполните таблицу «Менталитет белорусов»:

Традиционные черты	Современные черты

4. Заполните таблицу «Идеология белорусского государства»:

Назначение	
Характерные черты	
Основные приоритеты	
Роль в современном белорусском обществе	

5. Составьте схему «Ядро общенациональной идеи Беларуси»:



6. Заполните таблицу «Республика Беларусь – многоконфессиональное государство»:


Конфессия	Положение в современном белорусском обществе
Православие	
Католицизм	
Протестантство	
Старообрядцы	
Иудаизм	
Ислам	

§24. Культура Беларуси в XIX – начале XX в.

1. Дайте определение понятия:

- а) белорусоведение – это ...;
- б) эклектика – это ...

2. Составьте схему «Принципы системы образования после реформы 1864 г.»:



3. Заполните таблицу «Система образования после реформы 1864 г.»:

Уровень образования	Типы учебных заведения
Начальное образование	
Среднее образование	
Высшее образование	

4. Заполните таблицу «Развитие белорусоведения в XIX – начале XX в.»:

Отрасль научного знания	Фамилии учёных, исследователей	Результаты исследований

5. Заполните таблицу «Развитие белорусской литературы в XIX – начале XX в.»:

Авторы	Произведения

6. Составьте схему «Основные направления в белорусском изобразительном искусстве XIX - начале XX в.»:



7. Заполните таблицу «Изобразительное искусство Беларуси в XIX – начале XX в.»:

Художник	Жанр	Произведения

8. Заполните таблицу «Архитектура Беларуси XIX – начала XX в.»:

Направление	Типы сооружений

§25. Культура Беларуси в 1920-1930-е гг.

1. Дайте определение понятий:

- а) белорусизация – это ...;
- б) культурная революция – это ...;
- в) метод социалистического реализма – это ...;
- г) принцип партийности – это ...

2. Заполните таблицу «Условия развития культуры Беларуси в 1920-1930-е гг.»:

Советская Беларусь	Западная Беларусь
Вывод:	

3. Заполните таблицу «Политика белорусизации и культурная революция в БССР.»:

	Белорусизация	Культурная революция
Время осуществления политики		
Содержание политики		
Результаты		

4. Заполните таблицу «Культура БССР в 1920-1930-е гг.»:

Направления развития	Особенности и результаты развития
Образование	
Наука	

Литература	
Музыка	
Театр	
Кино	
Изобразительное искусство	
Архитектура	

5. Заполните таблицу «Культура Западной Беларуси в 1920-1930-е гг.»:

Направления развития	Особенности и результаты развития
Образование	
Литература	
Музыка	
Изобразительное искусство	


6. Укажите, кто изображён на фотографии:

Советский историк-славист, первый ректор Белорусского государственного университета:



§26. Развитие белорусской советской культуры во второй половине 1940-х - 1980-е гг.

1. Составьте схему «Успехи белорусской системы образования в послевоенный период»:



2. Заполните таблицу «Достижения белорусских учёных в послевоенный период»:

Отрасль научных знаний	Учёные и их достижения

3. Заполните таблицу «Белорусская литература и искусство в послевоенный период»:

Направления	Авторы, их произведения
Литература	
Музыка	
Изобразительное искусство	
Театр	
Кино	
Архитектура	

4. Заполните таблицу «Олимпийские достижения белорусских советских спортсменов»:

Виды спорта	Спортсмены и их достижения
Вольная борьба	
Спортивная гимнастика	
Метание молота	
Тяжёлая атлетика	
Гребля	

5. Укажите, кто изображён на фотографии:

Белорусский учёный-физик, президент Академии наук БССР в 1969-1987 гг., названный некоторыми белорусскими учёными «научным пророком»:



§27. Развитие образования, науки, искусства и спорта в условиях государственного суверенитета Республики Беларусь

1. Заполните таблицу «Оформление государственного статуса белорусского и русского языков»:

Дата	Документ (событие)	Решение
26.01.1990 г.		
15.03.1994 г.		
14.05.1995 г.		
24.11.1996 г.		

2. Заполните таблицу «Структура образования в Республике Беларусь»:

Уровень образования	Типы учебных заведений
Дошкольное образование	
Общее среднее образование	
Профессионально-техническое образование	
Среднее специальное образование	
Высшее образование	
Послевузовское образование	

3. Составьте таблицу «Наука, литература и искусство в Республике Беларусь»:

Направление	Достижения
Наука	
Литература	
Музыка	
Изобразительное искусство	
Театр	
Кино	

4. Составьте таблицу «Достижения белорусских спортсменов»:

Олимпиада (дата и место проведения)	Достижения
Летние Олимпийские игры	
Зимние Олимпийские игры	
Паралимпийские игры	

