







1. Les lignes de transport maritimes de la CMA-CGM

-  principale ligne régulière
-  autre ligne régulière
-  passage stratégique

2. Les ports et les régions desservies par la CMA-CGM

-  hub (nœud de réseau)
-  autre grand port desservi

EUROPE principale région desservie

-  siège social de la CMA-CGM



4 Le réseau maritime mondial de la CMA-CGM

5 Les dangers de la piraterie

« L'explosion, depuis le début des années 2000, de la piraterie maritime inquiète les compagnies maritimes. Pour Jacques Portail, commandant de porte-conteneurs pour la compagnie CMA-CGM, "les risques étaient devenus minimes dans les années 1970, aujourd'hui on en vient à s'interroger lorsqu'on reçoit un appel d'un navire en perdition : s'agit-il ou non de pirates." Face à cette criminalité - 439 attaques en 2011 selon le Bureau maritime international, principalement en Somalie, dans le golfe de Guinée et en Asie du Sud-Est - les États ont été forcés de réagir car "pour la première fois, la piraterie portait atteinte à l'économie mondiale". L'enjeu est de taille : 80 000 navires transitent chaque année par le détroit de Malacca, entre l'île de Sumatra (Indonésie) et la côte malaise, infesté de pirates, et près de "75 % des flux de conteneurs passent par l'Océan indien occidental", où sévissent les pirates somaliens, rappelle Paul Turret, de l'Institut supérieur d'économie maritime. »




■ AFP, « Face à la piraterie en mer, les États forcés de réagir sur tous les fronts », www.lexpress.fr, 11 mai 2012.

Vocabulaire

Un hub : un port qui redistribue les marchandises des routes maritimes mondiales vers les routes régionales.

Un réseau maritime : l'ensemble des lignes maritimes empruntées pour le transport des marchandises.

ACTIVITÉS

1. **Doc. 4 | J'analyse un document** 
 - a Quelle est la particularité de la projection de ce planisphère ?
 - b Où se situe la principale ligne régulière de transport maritime de la CMA-CGM ? Précisez les noms des océans, des passages stratégiques, etc.
 - c Quelles sont les principales régions du monde desservies par les navires de cette compagnie ?
 - d Quelle route maritime cette projection permet-elle de mettre en évidence ?



La **projection cartographique** est la manière de représenter la Terre (qui est une sphère) sur la surface plane d'une carte.

2. **Doc. 1** | Montrez que la CMA-CGM dispose d'une très grande capacité de transport.
3. **Doc. 3** | Qu'est-ce qu'un **hub** ? Quel est l'intérêt du **hub** de Malte ?
4. **Doc. 5** | À quel problème les navires de la CMA-CGM sont-ils confrontés ? Dans quelles régions ?
5. **Doc. 2** | Décrivez et expliquez cette publicité de la compagnie.