

Géo 6e1 - mardi 9 juin

Bonjour à tous,

J'espère que tout va bien pour vous.

**Voici le travail pour lundi 14 juin.**

Tout d'abord, voici la correction du travail à copier (ou à imprimer et coller) dans le cahier de géographie.

### **I/ Quelle est la répartition de la population dans le monde ?**

Questions 1 à 5 p 294-295

1/ Les trois grands foyers de population du monde sont :

- l'Asie du Sud ( 1 697 millions d'habitants),
- l'Asie de l'Est (1 597 millions d'habitants),
- l'Europe ( 743 millions d'habitants).

2/ Il existe des foyers secondaires : Amérique du Nord-Est, Sud-Est brésilien, Golfe de Guinée, Java.

3/ Les régions très peu peuplées ou inhabitées du monde sont des déserts humains : le grand nord canadien, le Groenland, la Sibérie, l'Amazonie, le Sahara, l'Arabie, le désert australien, l'Antarctique, l'Himalaya.

4/ Les villes les plus peuplées du monde situent surtout dans les grands foyers de population.  
Ex : Paris, Londres, New York, Delhi, Shanghai...

5/ Les littoraux sont des espaces peuplés. Les foyers de population sont proches des littoraux.

Copier ce qui suit dans le cahier de géographie.

### **II/ Comment expliquer cette répartition ?**

1/ Peuplement et contraintes naturelles.

p 300-301

Une contrainte naturelle est un élément de la nature qui peut rendre difficile l'installation des hommes.

Les contraintes naturelles liées aux climats et au relief expliquent en partie la répartition de la population sur Terre.

Travail à faire et à m'envoyer pour lundi 14 juin.

**Carte 4 p 301** : trouve la contrainte naturelle pour chacun des déserts humains et complète le tableau ci-dessous.



Déserts humains	Contraintes naturelles
- Sahara, désert australien	.....
- Sibérie, grand nord canadien, antarctique	.....
- Amazonie, Bassin du Congo	.....
- Himalaya	.....

2/ Peuplement et activités humaines.

Répondre aux questions 1 à 5 p 298-299


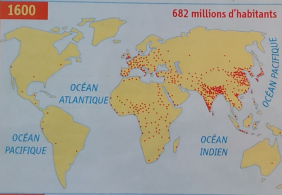
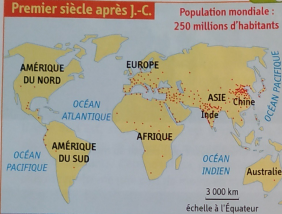
# Des foyers de population anciens

COMPÉTENCE  
Je pratique différents langages  
Rédiger un texte sur le rôle de l'Histoire dans le peuplement

Les foyers de population actuels sont très anciens. Au cours des siècles, les activités économiques et les migrations ont fixé le peuplement des femmes et des hommes.

## Comment l'Histoire explique-t-elle la répartition actuelle de la population ?

### 1 L'évolution du peuplement



### 2 La permanence des foyers de peuplement

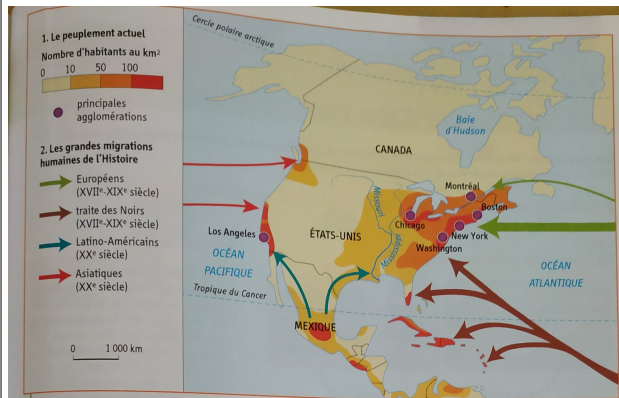
« Les contrastes actuels du peuplement mondial sont assez peu différents de ceux d'il y a deux millénaires. Ainsi, les trois plus grands foyers de peuplement coïncident avec une installation très précoce des hommes, que ce soit en Asie ou en Europe. De même, tous les pays à forte densité rurale (Asie méridionale...) ont été occupés depuis très longtemps. Les premiers hommes sont apparus en Afrique orientale avant 2,5 millions d'années avant J.-C. Puis, le peuplement s'est progressivement diffusé vers le nord de l'Afrique, le Bassin méditerranéen, le Proche-Orient et l'Asie du Sud et de l'Est, avant de s'étendre aux régions froides, au continent américain et à l'Océanie. »

• Olivier David, *La Population mondiale*, © A. Colin, 3<sup>e</sup> éd. 2015.

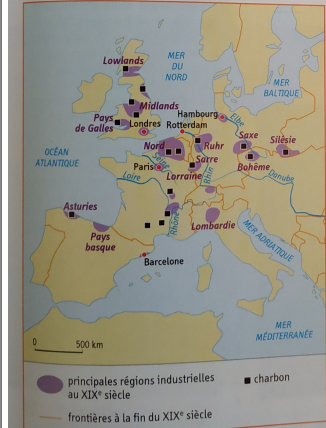


### 3 La culture du riz en Asie au XIX<sup>e</sup> siècle

La culture du riz (riziculture) s'est développée en Chine puis en Inde à partir de 5000 av. J.-C. Elle nécessite une main-d'œuvre nombreuse et permet de nourrir beaucoup d'hommes.



### 4 Peuplement et migrations en Amérique du Nord



### 5 Les régions industrielles en Europe vers 1900

### ACTIVITÉS GÉO-HISTOIRE

- Doc. 2 | Où et quand apparaissent les premiers hommes sur Terre ? Où se diffuse ensuite le peuplement ? (voir aussi doc. 2 et 3 p. 22).
  - Doc. 1 et 2 | Quels sont les trois grands foyers de population au I<sup>er</sup> siècle après J.-C. ? Et aujourd'hui ? (voir planisphère p. 294).
  - Doc. 1 | Que constatez-vous en 1800 ?
  - Doc. 3 et 5 | Quelles activités économiques ont fixé le peuplement en Asie et en Europe ? Comment l'expliquer ?
  - Doc. 4 | Montrez que les migrations sont à l'origine du peuplement de l'Amérique du Nord.
  - Je pratique différents langages**  
Rédigez un texte de quelques lignes montrant que l'Histoire permet d'expliquer le peuplement actuel du monde.
- Compétence** Montrez que les foyers de population sont anciens.  
**Pratique** Expliquez le rôle des activités économiques et des migrations dans le peuplement.