

## **Thème 3**

### **Se loger, travailler, se cultiver, avoir des loisirs dans un espace touristique**

*Nous avons lu en classe les pages introductives. Nous avons discuté des métiers du tourisme.*

*Il faudrait que vous lisiez avec les enfants les pages suivantes ainsi que la leçon.*

*Ces leçons ne seront pas évaluées.*

Nous pourrons ainsi voir en classe le dernier thème de l'année dans le mois et demi qu'il nous restera en classe : Consommer en France


SÉANCE  
1

# Comment le paysage touristique de Menton est-il organisé ?

## DÉCOUVRIR

Doc. 1 **Menton, un lieu touristique**


- 1 À l'aide de cette carte postale, qu'apprends-tu sur Menton ?
- 2 Aimerais-tu y passer des vacances ? Explique ta réponse.



Carte postale de Menton (Alpes-Maritimes).

## APPROFONDIR

Doc. 2 **Le paysage d'une station balnéaire\***



La ville de Menton (Alpes-Maritimes).

- 3 Que vois-tu le long de la côte\* ?
- 4 Décris les bâtiments.
- 5 Que vois-tu à l'arrière-plan ?

Doc. 3

Menton, un espace touristique de la Côte d'Azur

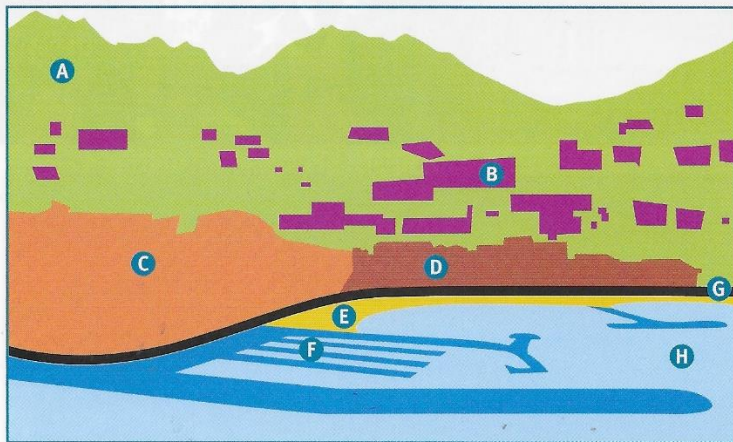


- 6 Où se situe Menton en France ?
- 7 Comment les touristes peuvent-ils se rendre à Menton ?

Carte de la Côte d'Azur.

Doc. 4

L'organisation du paysage de Menton



- 8 À l'aide de la photographie du Doc. 2, indique à quelles lettres correspondent les éléments suivants : les immeubles, le port de plaisance\*, la route, la végétation sur la montagne, la mer, la plage, la vieille ville, les constructions sur la montagne.

Croquis du paysage de Menton.

- 9 Parmi ces différents éléments, lesquels sont naturels ?
- 10 Lesquels sont construits par les hommes ?
- 11 Parmi ces différents éléments, lesquels sont utiles à l'activité touristique ?

D'après ces documents et tes réponses, explique comment le paysage touristique de Menton est organisé.

**\* Lexique**

**la côte** : une bande de terre qui longe une mer ou un océan.

**un port de plaisance** : un port pour les bateaux de loisir.

**une station balnéaire** : un lieu touristique en bord de mer.

# Comment expliquer l'importance du tourisme à Menton ?

## DÉCOUVRIR

### Doc. 1 L'organisation de grandes fêtes

- 1 Que se passe-t-il durant la fête du Citron à Menton ?
- 2+ À ton avis, pourquoi cette fête est-elle organisée ?



En 2015, le défilé de la 82<sup>e</sup> édition de la fête du Citron a réuni 27 000 spectateurs, presque autant que d'habitants dans la ville.

## APPROFONDIR

### Doc. 2 Une ville tournée vers le tourisme

Jadis<sup>(1)</sup> petit port et centre agricole spécialisé dans la culture du citron, Menton verra vite se développer son activité touristique, accueillant [de très riches visiteurs] venus de l'Europe du Nord. La ville a été aussi fréquentée par des artistes et des peintres comme Jean Cocteau, qui a décoré la mairie et auquel deux musées sont consacrés. Tout comme Nice, la vieille ville fait plus penser à l'Italie qui commence à ses portes qu'à la Provence. Le site de l'ancien château est aujourd'hui occupé par un cimetière duquel on a une vue splendide sur la cité et sur le littoral. Tout à côté, le Menton plus récent est riche en hôtels et en lieux de villégiature [vacances] pour des résidents fortunés.

Philippe Blanchet, Jean-Michel Turc et Remi Venture,  
*La Provence pour les nuls*, © Éditions First, 2012.

(1) Jadis : autrefois.

- 3 Qui sont les premiers touristes venus à Menton ?
- 4+ Présente 2 éléments qui peuvent donner envie à des touristes de se rendre à Menton.

oc. 3 Une ville très ensoleillée\*


L'ensoleillement y est de 316 jours par an. [...] Les hivers y sont doux et ensoleillés : le [thermomètre] descend rarement en dessous de 0 °C, la température la plus basse est de 11,3 °C en janvier. Les étés sont chauds. [...] Menton détient le record de France de la température la plus élevée au mois de juillet avec une température moyenne de 24,8 °C.

Extrait du site de l'office de tourisme de Menton, [www.tourisme-menton.fr](http://www.tourisme-menton.fr).


- 5 Montre, à l'aide d'un exemple, que la ville de Menton est très ensoleillée.
- 6 À ton avis, pourquoi est-ce un avantage pour attirer les touristes ?

oc. 4 La croissance de la ville de Menton

- 7 Quand ces deux photographies ont-elles été prises ?
- 8 Quels changements observes-tu ?
- 9+ Que penses-tu de ces changements ?



a. Photographie de la baie\* de Menton prise en 1893.



b. Photographie de la baie de Menton prise en 2007.

\*Lexique

**une baie** : une partie de la mer qui s'avance à l'intérieur des terres.

**ensoleillé** : où il y a beaucoup de soleil.

D'après ces documents et tes réponses, explique l'importance du tourisme à Menton.

# Quels sont les types d'espaces touristiques ?

## DÉCOUVRIR

### Doc. 1 Des vacances parfois sportives

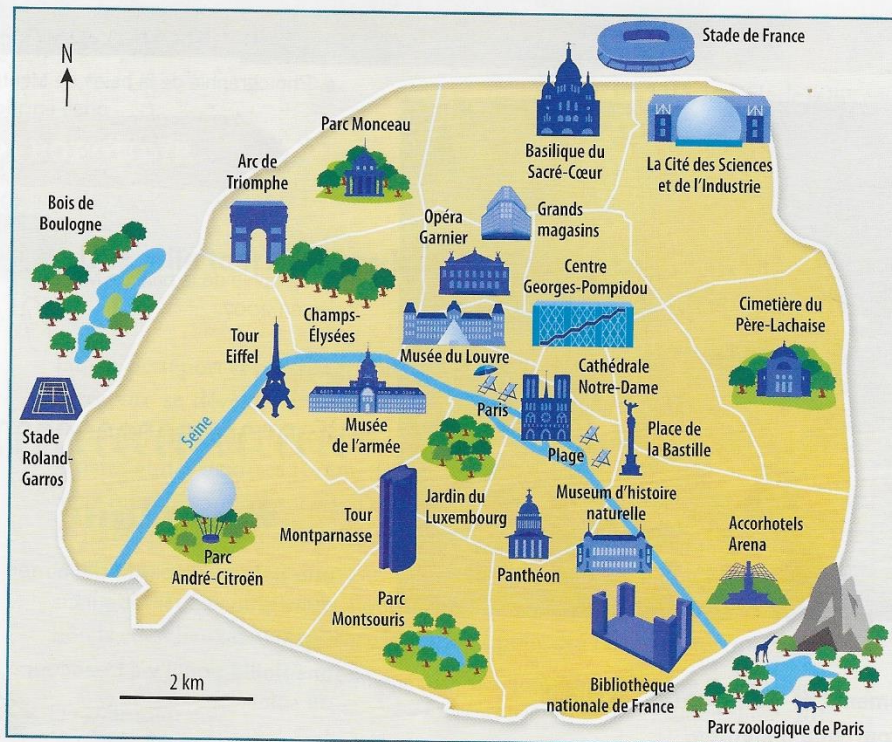
- 1 Présente le document.
- 2 Quel type de vacances cet enfant est-il en train de passer ?



Couverture du magazine *Géo Ado*, n° 137, août 2014, © Milan Presse.

## APPROFONDIR

### Doc. 2 La diversité des activités touristiques à Paris



- 3 Cite un monument\* et un musée que les touristes peuvent visiter.
- 4 Cite un lieu dans lequel les touristes peuvent :
  - se promener dans un parc ;
  - assister à une compétition sportive.
- 5+ Quels sont les 3 lieux que tu aimerais visiter ? Explique ta réponse.


Plan des lieux touristiques parisiens.

### 3 • SE LOGER, TRAVAILLER, SE CULTIVER, AVOIR DES LOISIRS DANS UN ESPACE TOURISTIQUE

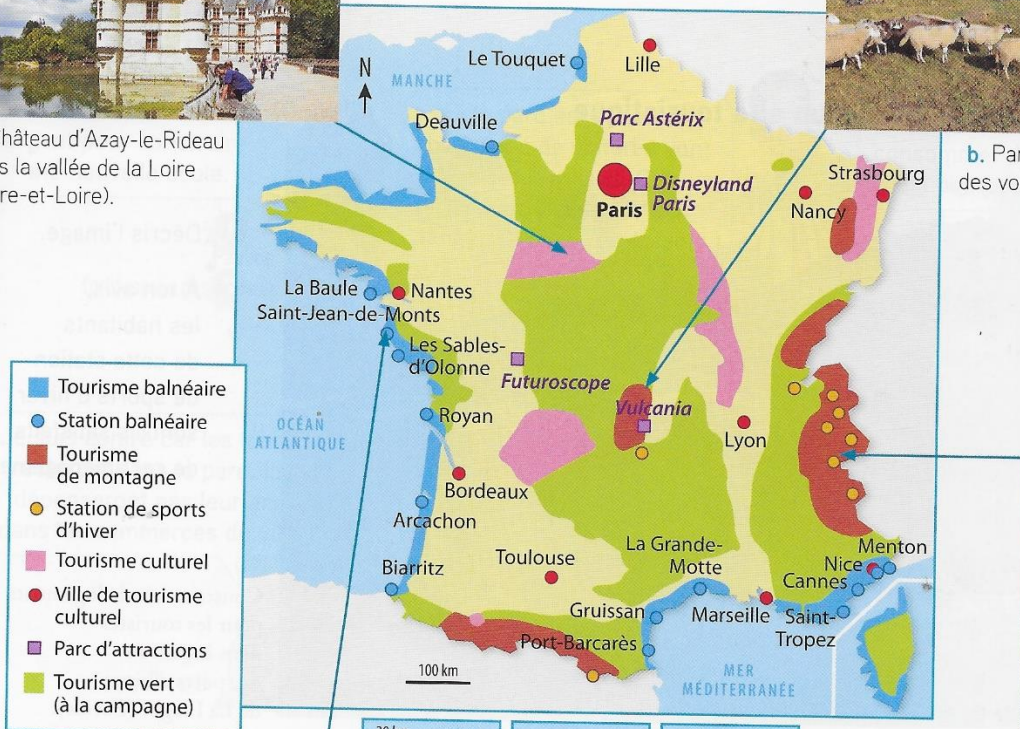
#### Doc. 3 La diversité des espaces touristiques en France



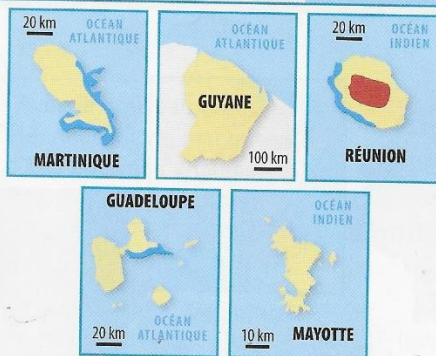
a. Château d'Azay-le-Rideau dans la vallée de la Loire (Indre-et-Loire).



b. Parc naturel régional des volcans d'Auvergne.



c. Station balnéaire de Saint-Jean-de-Monts (Vendée).



d. Station de sports d'hiver de Val-Thorens (Savoie).

- 6 Cite les noms de 2 villes de tourisme culturel.
- 7 Qu'est-ce que le tourisme vert ?
- 8 Décris la station de sports d'hiver de Val-Thorens.
- 9+ Observes-tu des points communs entre une station de sports d'hiver et une station balnéaire ? Explique ta réponse.

 D'après ces documents et tes réponses, présente les types d'espaces touristiques en France.

**\* Lexique**

**un monument :** un bâtiment remarquable.



## DÉCOUVRIR

Doc. 1 L'aménagement d'un site touristique



- 1 Décris l'image.
- 2 À ton avis, les habitants de cette station de sports d'hiver sont-ils satisfaits de cet aménagement ?

Construction de logements pour les touristes dans la station de sports d'hiver de La Plagne (Savoie).


## APPROFONDIR

Doc. 2 Le risque de dégradation des sites touristiques



Dans le Finistère (un nom qui signifie « fin de la terre » !), la Bretagne ouvre une large gueule. [...] Au bout de la mâchoire sud, c'est la pointe du Raz. La pointe du Raz reçoit plus de 1 million de visiteurs par an. Beaucoup trop ! La lande\* naturelle, à force d'être piétinée, a fait place à un véritable désert de cailloux. Pour reconquérir cet espace, on a tracé des sentiers dont il ne faut pas s'éloigner. Par endroits, déjà, la végétation reverdit...

Bernard et Renée Kayser, *La France expliquée aux enfants*, © Éditions Gallimard Jeunesse, 2011.



Touristes à la pointe du Raz (Finistère).

- 3 Où la pointe du Raz se situe-t-elle ?
- 4 Quel problème les visiteurs posent-ils ?
- 5 Quelle solution a été trouvée ?



Doc. 3 La construction d'un parc de loisirs : avantages et inconvénients

Le maire du village organise une réunion pour présenter le projet aux habitants. Lors de cette réunion, des habitants prennent la parole pour donner leur opinion.

Il paraît qu'il va falloir refaire les routes. On ferait mieux d'utiliser cet argent pour construire une nouvelle école.

Pauline  
(professeur des écoles)



Si le parc est construit, beaucoup de voitures vont traverser le village. Cela va être bruyant et surtout dangereux pour les enfants !

Aline  
(mère de 4 enfants)



Ce projet me semble intéressant car tous ces touristes viendront consommer dans le village. C'est bon pour les affaires.

Alfredo  
(patron d'un restaurant)



Je suis contre car les touristes resteront dans le parc. Ils ne dépenseront pas leur argent dans les commerces du village.

Roger  
(commerçant)



Si ce parc est aménagé, les chômeurs\* du village retrouveront un emploi !

Hervé  
(chômeur)



La forêt est une zone naturelle où vivent des animaux. Elle est publique et sert aux promeneurs. Elle ne doit pas être vendue !

Christelle  
(présidente du Club de marche du village)



Ce projet est super car on va pouvoir profiter des activités du parc.

Achille  
(enfant du village)



Avec le nouveau parc, l'été, nous allons manquer d'eau pour nos champs. Je suis contre ce projet.

Sandrine  
(agricultrice)



C'est formidable : ce sera l'occasion, pour des touristes de tous les pays, de venir découvrir notre village !

Rachel  
(enfant du village)



- 6 Quels sont les habitants favorables au projet ? Pourquoi ?
- 7 Quels sont les habitants opposés au projet ? Pourquoi ?
- 8<sup>+</sup> Et toi, qu'en penses-tu ?



D'après ces documents et tes réponses, présente les conséquences du tourisme.

### \* Lexique

**un chômeur** : une personne qui n'a pas d'emploi et qui en cherche un.

**la lande** : un ensemble de plantes sauvages généralement de faible hauteur.




## FAIRE LE POINT

### 3 • SE LOGER, TRAVAILLER, SE CULTIVER, AVOIR DES LOISIRS DANS UN ESPACE TOURISTIQUE

#### SEANCE 1

#### Comment le paysage touristique de Menton est-il organisé ?

- ◆ Située sur la Côte d'Azur, Menton est une commune qui accueille beaucoup de touristes : c'est une **station balnéaire**.
- ◆ À Menton, les espaces sont aménagés pour permettre aux touristes de se déplacer (routes, parkings, port...), d'y **séjourner** (immeubles en front de mer) et d'y pratiquer des activités (repos sur la plage, activités nautiques, promenades dans la vieille ville, au port ou à l'extérieur de la ville...).



#### SEANCE 2

#### Comment expliquer l'importance du tourisme à Menton ?

- ◆ Le tourisme est une activité très ancienne à Menton. Cette ville possède de nombreux atouts pour attirer les touristes : sa situation en bord de mer, son climat, la beauté de son cadre naturel, la richesse de son patrimoine et les manifestations organisées par la mairie, comme la fête du Citron.
- ◆ Le tourisme a profondément transformé le paysage de la ville : de nombreux bâtiments ont été construits et il y a moins d'espaces verts.



#### SEANCE 3

#### Quels sont les types d'espaces touristiques ?

- ◆ Les espaces touristiques en France sont très variés. On distingue :
  - le tourisme balnéaire (sur les côtes atlantique et méditerranéenne, la Manche) ;
  - le tourisme de montagne (dans les Alpes, les Pyrénées, le Massif central...) ;
  - le tourisme culturel (principalement dans les grandes villes comme Paris) ;
  - le tourisme vert (dans les espaces peu urbanisés comme le centre du territoire français).



#### SEANCE 4

#### Quelles sont les conséquences du tourisme ?

- ◆ Le tourisme développe l'activité économique et permet de créer des emplois.
- ◆ Mais l'arrivée des touristes a aussi des conséquences négatives : des nuisances pour les habitants (bruit, difficultés de circulation...) ; la dégradation des paysages et plus particulièrement du milieu naturel (comme c'est le cas à la pointe du Raz, en Bretagne).

