

LE ADDIZIONI IN COLONNA



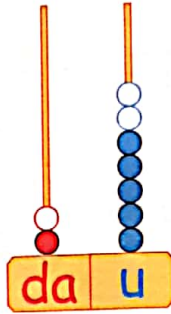
1 Completa l'addizione sull'abaco, poi scrivi il risultato.

addendo

addendo


somma
o totale

da	u
1	5
1	2

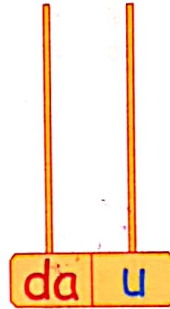


2 Rappresenta sull'abaco, poi esegui i calcoli in colonna.


da	u
2	5
1	3



da	u
1	4
2	2



da	u
2	3
1	2



3 Esegui le addizioni in colonna.

da	u
1	1
1	5

da	u
1	8
2	0

da	u
1	6
3	3

da	u
	8
2	1

da	u
1	6
1	0

da	u
1	9
2	0

da	u
1	4
2	4

da	u
1	4
1	3

da	u
1	7
2	2

da	u
	6
2	3

da	u
1	1
2	5

da	u
1	5
2	4

INCOLONNARE... PER SOMMARE

✿ Scrivi in colonna, poi esegui.



$14 + 2 = \dots\dots$

da	u	
1	4	+
	2	=
1	6	

$25 + 2 = \dots\dots$

da	u	
		+
		=

$10 + 27 = \dots\dots$

da	u	
		+
		=

$15 + 13 = \dots\dots$

da	u	
		+
		=

$21 + 16 = \dots\dots$

da	u	
		+
		=

$21 + 13 = \dots\dots$

da	u	
		+
		=



$18 + 21 = \dots\dots$

da	u	
		+
		=

$17 + 22 = \dots\dots$

da	u	
		+
		=

$30 + 3 = \dots\dots$

da	u	
		+
		=

$15 + 13 = \dots\dots$

da	u	
		+
		=

$3 + 34 = \dots\dots$

da	u	
		+
		=

$4 + 32 = \dots\dots$

da	u	
		+
		=

✿ Esegui in colonna sul quaderno.



$15 + 0 + 4 = \dots\dots$

$16 + 3 + 20 = \dots\dots$

$1 + 3 + 14 = \dots\dots$

$7 + 20 + 11 = \dots\dots$

$4 + 13 + 20 = \dots\dots$

$5 + 20 + 11 = \dots\dots$

$6 + 30 + 2 = \dots\dots$

$4 + 31 + 4 = \dots\dots$

$5 + 24 + 10 = \dots\dots$