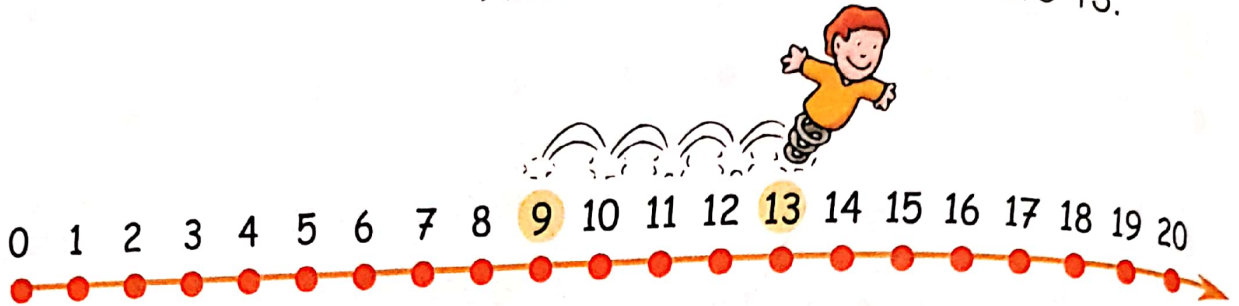


CONTARE... IN LINEA!

1 Conta sulla linea dei numeri e scrivi i risultati.


$$9 + 4 = \boxed{\dots\dots}$$

Parti da 9. Fai 4 salti verso destra. Arrivi al risultato: è il numero 13.

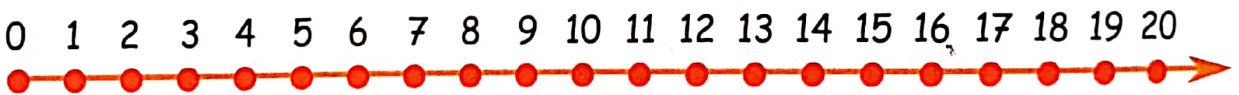


2 Continua seguendo l'esempio.

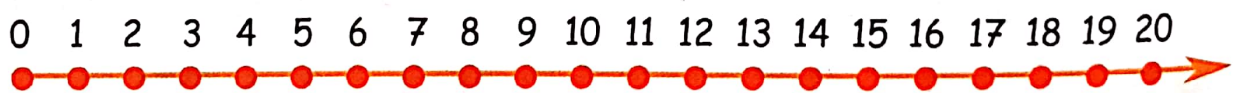
$$6 + 8 = \boxed{\dots\dots}$$



$$3 + 8 = \boxed{\dots\dots}$$



$$5 + 12 = \boxed{\dots\dots}$$



3 Prova sulla linea dei numeri, poi completa.

$$2 + 11 = \dots\dots \quad 12 + 7 = \dots\dots \quad 13 + 4 = \dots\dots \quad 8 + 2 = \dots\dots$$

$$8 + 8 = \dots\dots \quad 2 + 9 = \dots\dots \quad 3 + 13 = \dots\dots \quad 9 + 8 = \dots\dots$$

$$15 + 5 = \dots\dots \quad 11 + 3 = \dots\dots \quad 1 + 14 = \dots\dots \quad 13 + 6 = \dots\dots$$

$$8 + 0 = \dots\dots \quad 18 + 2 = \dots\dots \quad 14 + 0 = \dots\dots \quad 7 + 7 = \dots\dots$$