
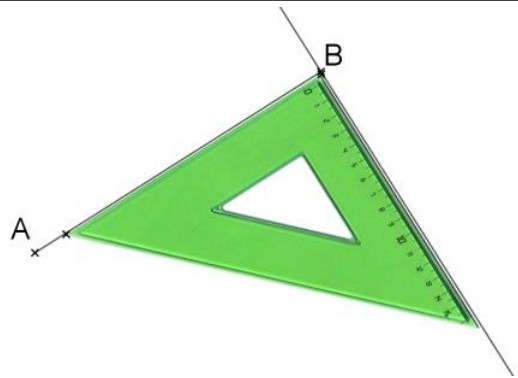


Leçon 4 : tracer un carré

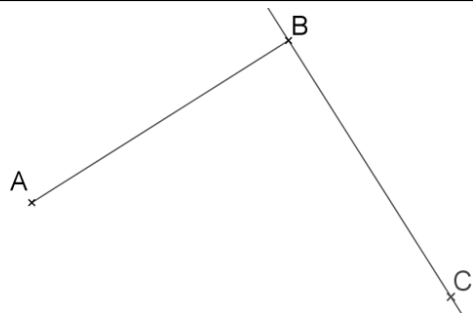
1. Je trace le côté de la mesure souhaitée.



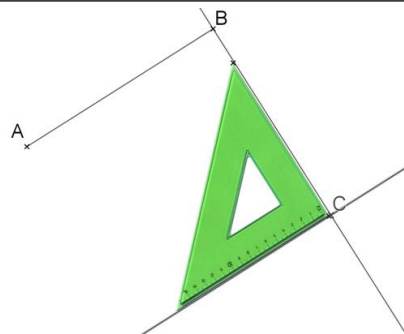
2. Je trace une droite à angle droit.



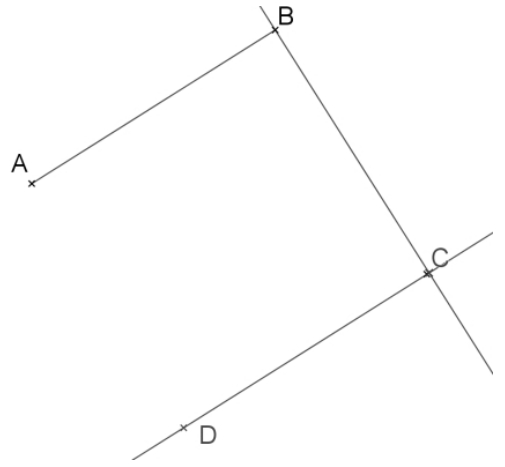
3. Je pose le point C tel $BC = AB$ (en mesurant ou avec le compas).



4. Je trace le troisième côté du carré à angle droit.



5. Je reporte la même longueur avec la règle ou le compas.



6. Je trace le dernier côté.

