


Le nombre du jour (2)

1. Écris dans le tableau :

Classe des millions			Classe des mille (ou des milliers)			Classe des unités simples		
centaine	dizaine	unité	centaine	dizaine	unité	centaine	dizaine	unité

2. Place ce nombre sur la droite graduée :



3. Encadre ce nombre à la dizaine près :

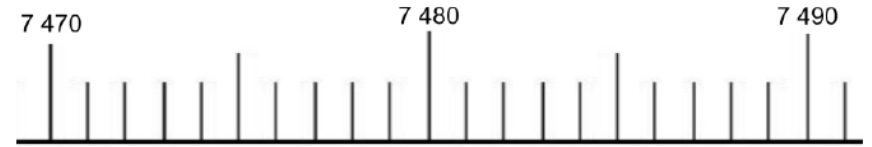
..... < <

Le nombre du jour (2)

1. Écris dans le tableau :

Classe des millions			Classe des mille (ou des milliers)			Classe des unités simples		
centaine	dizaine	unité	centaine	dizaine	unité	centaine	dizaine	unité

2. Place ce nombre sur la droite graduée :



3. Encadre ce nombre à la dizaine près :

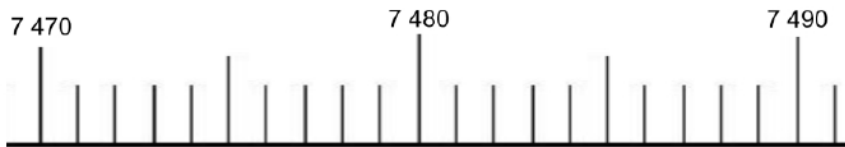
..... < <

Le nombre du jour (2)

1. Écris dans le tableau :

Classe des millions			Classe des mille (ou des milliers)			Classe des unités simples		
centaine	dizaine	unité	centaine	dizaine	unité	centaine	dizaine	unité

2. Place ce nombre sur la droite graduée :



3. Encadre ce nombre à la dizaine près :

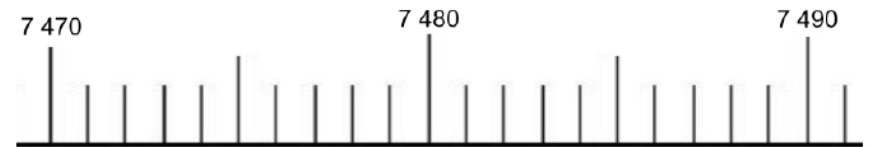
..... < <

Le nombre du jour (2)

1. Écris dans le tableau :

Classe des millions			Classe des mille (ou des milliers)			Classe des unités simples		
centaine	dizaine	unité	centaine	dizaine	unité	centaine	dizaine	unité

2. Place ce nombre sur la droite graduée :



3. Encadre ce nombre à la dizaine près :

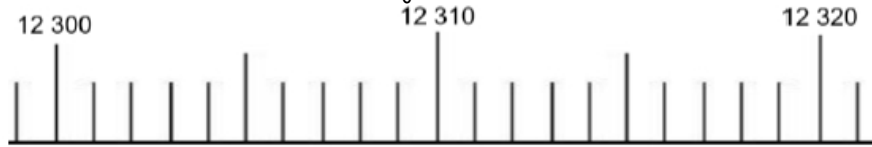
..... < <

Le nombre du jour (2)

1. Écris dans le tableau :

Classe des millions			Classe des mille (ou des milliers)			Classe des unités simples		
centaine	dizaine	unité	centaine	dizaine	unité	centaine	dizaine	unité

2. Place ce nombre sur la droite graduée :



3. Encadre ce nombre à la dizaine près :


..... < <

Le nombre du jour (2)

1. Écris dans le tableau :

Classe des millions			Classe des mille (ou des milliers)			Classe des unités simples		
centaine	dizaine	unité	centaine	dizaine	unité	centaine	dizaine	unité

2. Place ce nombre sur la droite graduée :



3. Encadre ce nombre à la dizaine près :

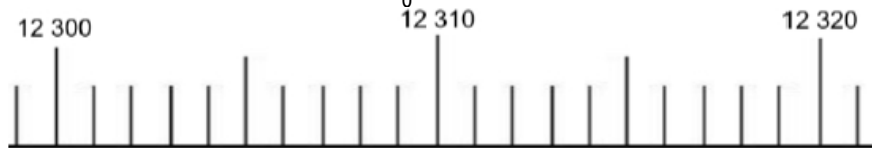
..... < <

Le nombre du jour (2)

1. Écris dans le tableau :

Classe des millions			Classe des mille (ou des milliers)			Classe des unités simples		
centaine	dizaine	unité	centaine	dizaine	unité	centaine	dizaine	unité

2. Place ce nombre sur la droite graduée :



3. Encadre ce nombre à la dizaine près :

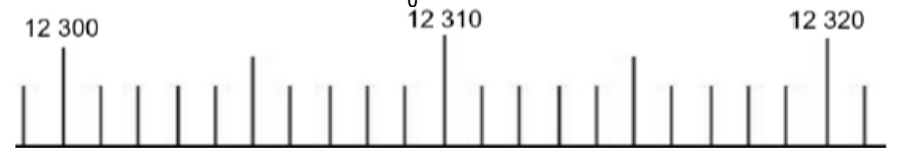
..... < <

Le nombre du jour (2)

1. Écris dans le tableau :

Classe des millions			Classe des mille (ou des milliers)			Classe des unités simples		
centaine	dizaine	unité	centaine	dizaine	unité	centaine	dizaine	unité

2. Place ce nombre sur la droite graduée :



3. Encadre ce nombre à la dizaine près :

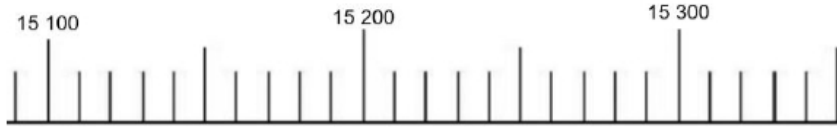
..... < <

Le nombre du jour (2)

1. Écris dans le tableau :

Classe des millions			Classe des mille (ou des milliers)			Classe des unités simples		
centaine	dizaine	unité	centaine	dizaine	unité	centaine	dizaine	unité

2. Place ce nombre sur la droite graduée :



3. Encadre ce nombre à la dizaine près :

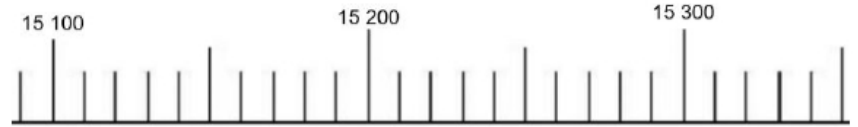
..... < <

Le nombre du jour (2)

1. Écris dans le tableau :

Classe des millions			Classe des mille (ou des milliers)			Classe des unités simples		
centaine	dizaine	unité	centaine	dizaine	unité	centaine	dizaine	unité

2. Place ce nombre sur la droite graduée :



3. Encadre ce nombre à la dizaine près :

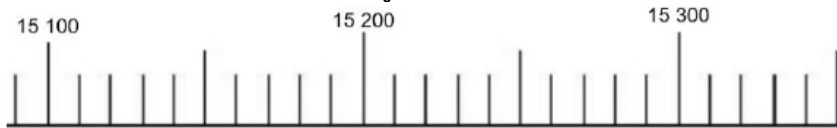
..... < <

Le nombre du jour (2)

1. Écris dans le tableau :

Classe des millions			Classe des mille (ou des milliers)			Classe des unités simples		
centaine	dizaine	unité	centaine	dizaine	unité	centaine	dizaine	unité

2. Place ce nombre sur la droite graduée :



3. Encadre ce nombre à la dizaine près :


..... < <

Le nombre du jour (2)

1. Écris dans le tableau :

Classe des millions			Classe des mille (ou des milliers)			Classe des unités simples		
centaine	dizaine	unité	centaine	dizaine	unité	centaine	dizaine	unité

2. Place ce nombre sur la droite graduée :



3. Encadre ce nombre à la dizaine près :

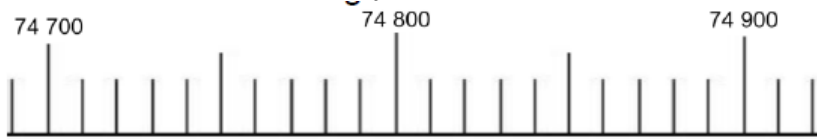
..... < <

Le nombre du jour (2)

1. Écris dans le tableau :

Classe des millions			Classe des mille (ou des milliers)			Classe des unités simples		
centaine	dizaine	unité	centaine	dizaine	unité	centaine	dizaine	unité

2. Place ce nombre sur la droite graduée :



3. Encadre ce nombre à la dizaine près :

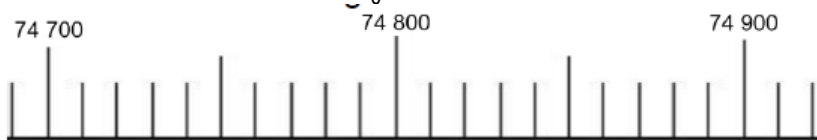
..... < <

Le nombre du jour (2)

1. Écris dans le tableau :

Classe des millions			Classe des mille (ou des milliers)			Classe des unités simples		
centaine	dizaine	unité	centaine	dizaine	unité	centaine	dizaine	unité

2. Place ce nombre sur la droite graduée :



3. Encadre ce nombre à la dizaine près :

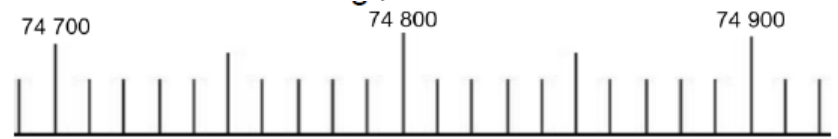
..... < <

Le nombre du jour (2)

1. Écris dans le tableau :

Classe des millions			Classe des mille (ou des milliers)			Classe des unités simples		
centaine	dizaine	unité	centaine	dizaine	unité	centaine	dizaine	unité

2. Place ce nombre sur la droite graduée :



3. Encadre ce nombre à la dizaine près :

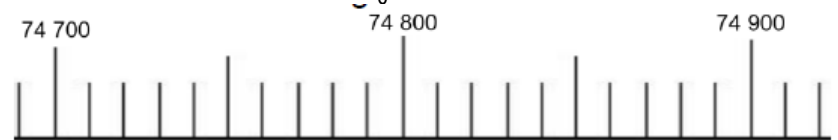
..... < <

Le nombre du jour (2)

1. Écris dans le tableau :

Classe des millions			Classe des mille (ou des milliers)			Classe des unités simples		
centaine	dizaine	unité	centaine	dizaine	unité	centaine	dizaine	unité

2. Place ce nombre sur la droite graduée :



3. Encadre ce nombre à la dizaine près :

..... < <